




DÜŞÜNME BECERİLERİNİ GELİŞTİRME ETKİNLİKLERİ

4

MANTIK VE AKIL YÜRÜTME



Değerli Eğitimciler ve Ebeveynler,


İlkokul 1.sınıfa başlamak her çocuk için önemli bir dönüm noktasıdır. Bu dönemde çocukların edinmeleri gereken en önemli kazanımlar okuma, yazma ve temel matematik becerileridir. Etkili okuma, yazma ve temel matematik becerilerinin kazanılması için sözlü dili kullanma, sıralama, canlandırma, ses ile harf arasında ilişki kurabilme, dikkat, dikkati sürdürme, algılama, kavrama, akılda tutma, isimlendirme, analiz, sentez gibi çok çeşitli bilişsel becerilerin çocukların yaşına uygun olarak gelişmesi beklenir.

Çocukların 1.sınıfta temel akademik becerileri kazanabilmeleri için bilişsel bir altyapı oluşturmak ve onun gelişimini desteklemek çok önemlidir. Bu süreç , bilgiyi tanımayı, problem çözmeyi, karar vermeyi ve bir iş tamamlanıncaya kadar dikkati devam ettirmeyi içerir. Çocukların çevrelerini anlamalarını ve bilgiyi edinip kullanmalarını sağlayan bilişsel beceriler bir bilginin kazanılmasında, organize edilmesinde ve geliştirilmesindeki tüm süreçleri kapsar.

Tüm öğrenme süreçleri çocuğun okuyup yazma ile elde ettiği bilgileri şekillendirmesiyle gerçekleşir. Okuma ve anlama, çocuğun okul yaşamının tümünde kazanımlar elde edip uygulamasını sağlayan temel becerilerdir. Çocuktan bir matematik problemini çözmesini istediğimizde birçok bilişsel beceri devreye girer. Çocuğun ilgili ve istekli olması ilk gereksinimdir. Problem çözmek için bazı basit beceriler ve düşünme becerisi de bu aşamada gereklidir. Çocuklar, yapmaları beklenen görevler için bir düşünme şekli belirleme ihtiyacı duyarlar. Buna bağlı olarak planlama yapma, parça bütün ilişkisi kurma ve dikkati detaylara verme becerilerine sahip olmaları gerekir.

Bilişsel becerilerin farkında olan ebeveynler çocukların bilişsel gelişiminde olumlu etkiye sahiptir. Bu farkındalık, çocukların akademik anlamda güçlü ya da zayıf olma nedenlerini anlamayı sağlar. Bilişsel becerilerin gelişmesi için çocuklara doğru desteğin verilmesi öğrenme performanslarını artırır.

1.sınıf öğrencileri için hazırlanan bu set bilişsel becerileri destekleyici ve geliştirici çalışmalardan oluşmaktadır. Set, her çeyrek dönem için 1 kitap olmak üzere toplam 4 kitaptan oluşmaktadır. Her kitap birbirini tamamlayıcı etkinliklerle kolaydan zora doğru organize edilmiştir. Çocuğun zorlandığı çalışmalar benzer çalışmalarla tekrar edilip pekiştirme sağlanabilir.





Birbiriyle ile aynı olan iki tabloyu bul ve işaretle.



1



2



3





4




5



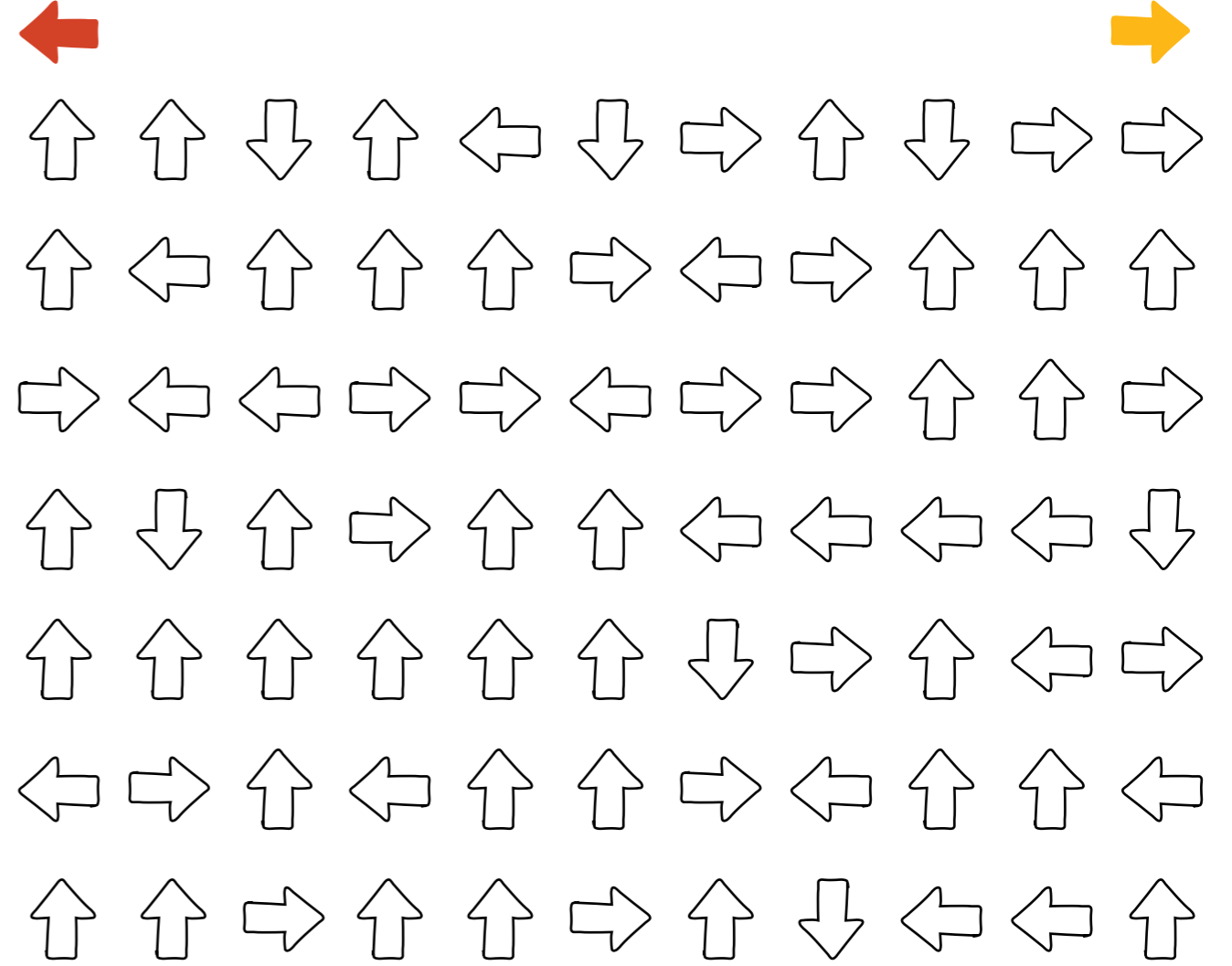

6



Üst kısımdaki kutuların bazılarının içine desenler çizilmiş, bazıları ise boyanmıştır. Alt kısımda desen çizilmiş ya da boyanmış kutuları bul ve aynı olacak şekilde tamamla.



Sağ tarafa bakan okları **sarı renge**, sol tarafa bakan okları **kırmızı renge** boya.



Kaç tane sağ tarafa bakan ok buldun? Say ve yaz.

Kaç tane sol tarafa bakan ok buldun? Say ve yaz.

KENDİMİ DEĞERLENDİRİYORUM

EVET

HAYIR

18 tane sağ tarafa bakan ok buldun mu?

17 tane sol tarafa bakan ok buldun mu?

Cevabın "hayır" ise dönüp çalışmayı yeniden yap.