

1.  
SINIF

 ALTIN BEYİN

# DİKKAT VE ZEKA

## TEST KİTABI

Online  
Deneme  
10 Kişige Özgü  
Belirleme Karnesi  
[www.altinkarne.com.tr](http://www.altinkarne.com.tr)



BİLSEM-KANGURU-OLİMPİYAT

# Düşünme Becerileri

- DİKKAT BECERİSİ
- MANTIK
- ALGILAMA
- AKIL YÜRÜTME

Copyright © Altın Nokta  
ISBN 978-605-2265-29-1

**KAYNAK KİTAPLAR**  
**1. SINIF ALTIN BEYİN DİKKAT VE ZEKA TEST KİTABI**

Bu kitabın her hakkı saklıdır. Tüm hakları **ALTIN NOKTA YAYINEVİ'ne** aittir. Kısmen de olsa alıntı yapılamaz. Metinler, kitabı yayımlayan kurumun önceden izni olmaksızın elektronik, mekanik, fotokopi ya da herhangi bir kayıt sistemiyle çoğaltılamaz, yayımlanamaz. Kitapta yer alan oyun, bulmaca, soru, metin ve resimlerin sorumluluğu yazarına/yazarlarına aittir.

**Genel Yayın Yönetmeni**  
**Halil İ. AKÇETİN**

**Yayın Editörü**  
**Leyla GÜNDOĞDU**

**Dizgi & Kapak**  
**Altın Nokta Grafik**

**Yayın - Dağıtım**  
**Altın Nokta Basım Yayın Dağıtım**  
3/18 Sokak No: 2/N BUCA - İZMİR  
+90 232 502 52 94 / +90 507 470 24 98

[www.nartest.com.tr](http://www.nartest.com.tr) - [www.altinnokta.com.tr](http://www.altinnokta.com.tr)  
[www.nokta2000.com](http://www.nokta2000.com) - [www.kitapana.com.tr](http://www.kitapana.com.tr)  
[www.bilimselkitaplar.net](http://www.bilimselkitaplar.net)

[nartest@nartest.com.tr](mailto:nartest@nartest.com.tr) - [altinnokta@altinnokta.com.tr](mailto:altinnokta@altinnokta.com.tr)  
[nokta@nokta2000.com](mailto:nokta@nokta2000.com) - [kitapana@kitapana.com.tr](mailto:kitapana@kitapana.com.tr)  
[destek@bilimselkitaplar.net](mailto:destek@bilimselkitaplar.net)

**Basım**  
Ertem Basım  
Ömit Mah. 2539. Sk. No:19 Çankaya / ANKARA  
Tel: 0 312 284 18 14 Sertifika No: 48083

Aralık – 2021  
**1. Basım**

# ÖN SÖZ

Sadece bilmenin yeterli olmadığı günümüzde analitik düşünen ve bilgiyi yorumlayan bireyler yetiştirmek geleceğimizi inşa etmek adına en önemli hedeflerimiz arasında olmalıdır. Zihinsel süreçlerin alt basamakları olan; **Algılama, Mantıksal Akıl Yürütme, Dikkat, Eleştirel Düşünme ve İşlem Becerisi** yetenekleri gelişmiş bireyler dünyayı daha iyi okuyacak karşılaştığı problemlere farklı çözüm yolları üreteceklerdir.

Altın Beyin kitap serisi ile çocuklarımızı bilgi yüklü ama yüklendiği bilgiyi kullanamayan bireyler olmaktan çıkarıp analitik düşünen, bilişsel becerileri gelişmiş, düşünen ve sorgulayan bireyler haline getirmeyi hedefliyoruz. Altın Beyin Dikkat ve Zeka Seti her sınıf düzeyinde birbirini tamamlayan 2 kitaptan oluşmaktadır;

**1. KİTAP: DIKKAT ve ZEKA KİTABI: DIKKAT BECERİSİ, ALGILAMA, MANTIK ve AKIL YÜRÜTME** bölümlerinden oluşmaktadır. Altın Beyin kitap serisine bu kitaptaki soruları çözerek başlayabilirsiniz ve bu kitaptaki tüm sorular bitirilmeden 2. kitaba başlanmamalıdır. Çünkü 1. kitaptaki soruların çözülmesi 2. kitaptaki soruların çözümünü kolaylaştıracaktır.

**2. KİTAP: MATEMATİK KİTABI: İŞLEM YETENEĞİ, PROBLEM ÇÖZME BECERİSİ, MANTIK MUHAKEME ve ŞEKİL YETENEĞİ, SAYMA BECERİSİ** bölümlerinden oluşmaktadır. Bu kitaptaki sorularla matematiksel düşünme becerilerini geliştireceksiniz ve farklı düşünme becerileri gerektiren sorularla karşılaşacaksınız.

Bu seriyi çözerek BİLSEM ve KANGURU SINAVLARI'na hazırlanmış olacak ve analitik düşünmeyi gerektiren dünya standartlarında sorularla karşılaşmış olacaksınız.

Kitabın yazılmasında katkıda bulunan değerli öğretmenimiz **Yasin GENCER**'e teşekkür ederiz.

Kitabımızın faydalı olması dileğiyle tüm öğrenci ve öğretmenlerimize başarılar dileriz.

# İÇİNDEKİLER

1. BÖLÜM	DİKKAT BECERİSİ	5
2. BÖLÜM	ALGILAMA	39
3. BÖLÜM	MANTIK	80
4. BÖLÜM	AKIL YÜRÜTME	93



# 1. BÖLÜM



## DİKKAT BECERİSİ

Bu bölümdeki soruları çözerek dikkat ve konsantrasyon becerilerinizi güçlendireceksiniz.

Tüm soruları çözdükten sonra [www.altinkarne.com](http://www.altinkarne.com) sitesindeki **DİKKAT** ve **ZEKA-DİKKAT BECERİSİ** sınavını çözerek ilerlemenizi kaydediniz.

**Online sınav için karekodu okutunuz.**

1.



Pakize'nin aynadaki görüntüsünü aşağıdakilerden hangisi gibi görürüz?

A



B



C



2.



Ahmet



Burhan



Cemil

Yukarıdaki aynada hangi adamın görüntüsü vardır?

A

Ahmet

B

Burhan

C

Cemil

3.



Yukarıda Metehan Bey'in evi gösterilmiştir.

Buna göre aşağıdakilerden hangisi evin göldeki yansıması olabilir?

A



B



C



4.



Yukarıda bir grup mantarın göldeki yansıması verilmiştir.  
Buna göre bu mantarlar aşağıdakilerden hangisi olabilir?

A



B



C




5.



Yukarıda verilen çiçeğin aynadaki yansıması aşağıdakilerden hangisidir?

A



B



C





1.



Yukarıdaki geminin denizdeki yansıması aşağıdakilerden hangisi gibi olur?

A



B



C



2.



Yukarıdaki kalemlerin aynadaki yansıması aşağıdakilerden hangisidir?



3.



Yukarıdaki resmin aynadaki görüntüsü aşağıdakilerden hangisidir?



1.



Yukarıdaki ineğin gölgesi aşağıdakilerden hangisi olabilir?

A



B



C



2.



Yukarıdaki oyuncağın gölgesi aşağıdakilerden hangisidir?

A




B



C



3.



Yukarıdaki hayvanın gölgesi aşağıdakilerden hangisidir?

A



B



C



4.



Yukarıdaki şeklin gölgesi aşağıdakilerden hangisidir?

A



B



C



1.



Yukarıdaki evin gölgesi aşağıdakilerden hangisidir?

A



B



C



2.



Yukarıdaki geometrik şekillerin gölgesi aşağıdakilerden hangisidir?

A



B



C



3.



Yukarıdaki kedinin gölgesi aşağıdakilerden hangisidir?

A



B



C



4.



Yukarıdaki penguenin gölgesi aşağıdakilerden hangisidir?

A




B



C



1.



Yukarıya 1'den 30'a kadar sayılar yazılmış fakat bir sayı yanlışlıkla 2 defa yazılmıştır.

Buna göre 2 defa yazılan sayının rakamları toplamı kaçtır?

A 3

B 4

C 7

2.



Yukarıda verilen zarlar aynı yüzleri görünecek şekilde tekrar yerleştirilmiştir.

Buna göre aşağıdakilerden hangisi yukarıdaki zar setleriyle aynı olabilir?

A



B



C

