


105 ZEKÂ OYUNU

KANGURU - OLİMPİYAT



SAYISAL ZEKÂ-GÖRSEL ZEKÂ
MANTIK - DİKKAT - HAFIZA OYUNLARI
DİKKAT GELİŞTİRME - SÖZEL ZEKÂ - IQ
SORULARI ve ÇÖZÜMLERİ

ALİ CAN GÜLLÜ - BAKİ YERLİ

ALTIN NOKTA YAYINEVİ

İZMİR - 2018

Copyright©ALTIN NOKTA BASIM YAYIN DAĞITIM
ISBN 978-605-5255-48-0

ZEKÂ KİTAPLARI
105 ZEKÂ OYUNU
Ali Can Güllü - Baki Yerli

Bu kitabın her hakkı saklıdır. Tüm hakları **ALTIN NOKTA YAYINEVİ'ne** aittir. Kısmen de olsa alıntı yapılamaz. Metinler, kitabı yayımlayan kurumun önceden izni olmaksızın elektronik, mekanik, fotokopi ya da herhangi bir kayıt sistemiyle çoğaltılamaz, yayımlanamaz. Kitapta yer alan oyun, bulmaca, soru, metin ve resimlerin sorumluluğu tamamen yazarına/yazarlarına aittir.

Genel Yayın Yönetmeni
Halil İ. AKÇETİN

Yayın Editörü
Leyla AKÇETİN

Kapak-Dizgi
Altın Nokta Dizgi-Grafik

Yayın - Dağıtım
ALTIN NOKTA BASIM YAYIN DAĞITIM BİLİŞİM
859 Sk. No:1/Z-4 Konak / İZMİR
Tel/Faks:+90 (232) 441 25 95 / +90 551 402 79 20
www.kitapana.com.tr-www.altinnokta.com.tr -www.nokta2000.com
www.bilimselkitaplar.net - **www.bilsemkitaplari.com** - www.bilsemsinavlari.com

Baskı
Birleşik Matbaacılık
5619 Sk. No:1 Çamdibi Bornova/İZMİR
Tel: 0 232 433 68 66

2. Basım – Ocak 2018
kitapana@kitapana.com.tr - nokta@nokta2000.com
altinnokta@altinnokta.com.tr

Sevgili Öğrencilerimiz,

Dünyaya gelen her insanın beyni işlenmemiş bir maden gibidir. Bu yüzden zamanında işlenmeli ve geliştirilmelidir. Bir problem üzerinde çözüm üretme arayışı beyni geliştirmenin en ideal yöntemi olarak kabul edilir. Farklı düşünme becerileri kazandıkça, karşımıza çıkan problemleri daha hızlı çözdüğümüzü ve problemlere alternatif çözümler ürettiğimizi göreceğiz.

Problem çözmedeki en önemli nokta *"Problemi anlamak"* tır. Bunun için bazen *"Problemlere farklı açılardan bakabilmek"* gerekir. Daha sonra *"elimizdeki verileri en iyi şekilde kullanmak"* ve sonra probleme *"çözüm üretmek"* gelir.

Kitabımızda soruları ana başlıklar altında gruplandırabilirdik ama bunun yerine **sözel zekâ**, **görsel zekâ**, **sayısal zekâ** ve **oyunları** farklı şekilde kitabın içine serpiştirdik. Sizleri sadece bir soru kalıbıyla sınırlandırmak istemedik. Sizler de karşılaştığınız her soruya zaman ayırıp soruyu çözmeye çalışın. Daha sonra bizim çözümlerimizle karşılaştırın.

Sizlerin seviyesine uygun, ülkemizdeki ve dünyadaki farklı kaynaklardan da yararlanarak hazırladığımız "101, 102, 103, 104 ve 105 Zekâ Oyunu" kitaplarıyla özel okullar bursluluk sınavı, zekâ oyunları yarışmaları ve Bilim ve Sanat Merkezi sınavlarına hazırlanabilirsiniz. Zihinsel gelişiminize katkı sağlaması dileklerimizle...

ALTIN NOKTA

İÇİNDEKİLER

1.	Durmadan Çiz	7
2.	Ayşe'nin Kazakları	8
3.	Dört İşlem	9
4.	Mantıksal İlişki	10
5.	Kare Kesmece	11
6.	Saat Kaç?	12
7.	Sayı Yerleştirme	13
8.	Kibrit Çöpü	14
9.	Hangi Gün?	15
10.	Renkli Şapkalar	16
11.	Çokgenler	17
12.	Tesisat	18
13.	İç İçe Halkalar	19
14.	Sayı Üçgenleri	20
15.	Pehlivan	21
16.	Şifreli Sayılar	22
17.	Gazete	23
18.	Hayvanlar Kaçar Kilo?	24
19.	Küp İçinde Küpler	25
20.	Simetri	26
21.	Kum Saati	27
22.	Hangi İlimiz?-1	28
23.	Atasözü	29
24.	Sayısal Piramit	30
25.	100 e Ulaş	31
26.	Sudoku-1	32
27.	Aylar	33
28.	One-Two-Three	34
29.	Kırtasiye	35
30.	Hangi Çubuk?	36
31.	Halat Çekmece	37
32.	Bloklar	38
33.	Karınca Kararınca	39
34.	Üçgenler	40
35.	Şifreleme	41
36.	Kare Tamamlama	42
37.	Küpün Açılımı	43

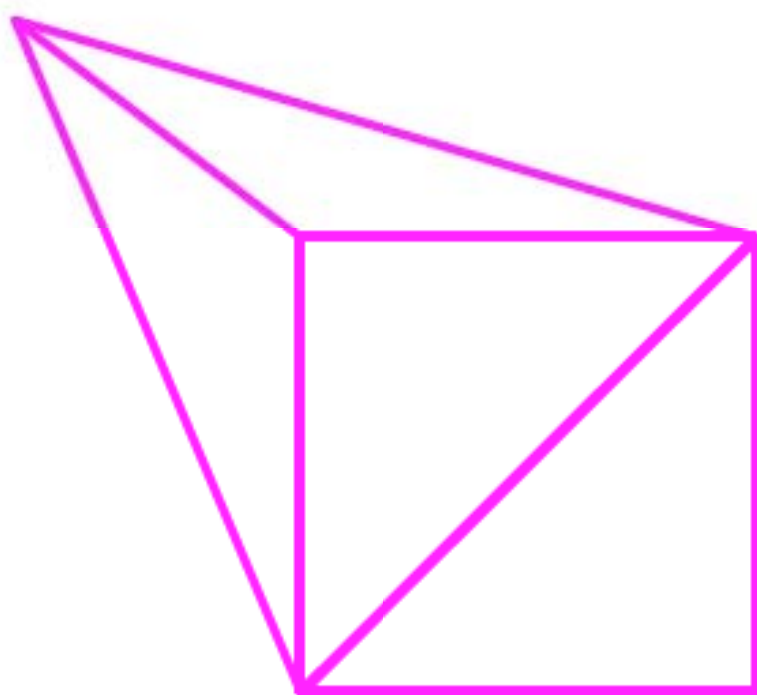
38.	Kırk Saat	44
39.	İşlem Sorusu-1	45
40.	Harf Değiştir	46
41.	Yemek Salonu	47
42.	Altıgen Sorusu	48
43.	Yön Değiştirme	49
44.	İşlem Kareleri	50
45.	Farklı Harf	51
46.	Hangi İlimiz?-2	52
47.	Hangi Şekil	53
48.	Kibrit çöpleri	54
49.	Eş Şekiller	55
50.	Bakış Açısı	56
51.	Kim Zengin Kim Fakir?	57
52.	Şekli Tamamla	58
53.	Manav	59
54.	Nehir	60
55.	Demirci	61
56.	Göldeki Yansıma	62
57.	Çember İçinde Çember	63
58.	Eksiği Tamamla	64
59.	Su Kapları	65
60.	Sayı Örüntüsü	66
61.	Resim Alfabe	67
62.	Balık Kızartma	68
63.	Kelime Oyunu	69
64.	Üçgen Sayma	70
65.	Eş şekiller	71
66.	Başkan Kim?	72
67.	Beş Kare	73
68.	Saklı Ülke	74
69.	Hangi Harf?	75
70.	Harfin Çevresi	76
71.	Kim Hangi Katta?	77
72.	Çark	78
73.	İşlem Sorusu-2	79
74.	Optik Form	80
75.	Dizgiler	81
76.	Yuvarlak Masa	82

77.	Karpuz.....	83
78.	Fibonacci.....	84
79.	Köpek Kavgası.....	85
80.	Tren Yolculuğu.....	86
81.	Kim Kalır.....	87
82.	Sarı Kutu.....	88
83.	Sudoku-2.....	89
84.	Çiçek Tarlası.....	90
85.	Şeker Kapma.....	91
86.	Yanan İpler.....	92
87.	Ali Babanın Tavukları.....	93
88.	En Kısa Yol.....	94
89.	Dönme Sorusu.....	95
90.	Gömlek Kravat.....	96
91.	Bozuk Saatler.....	97
92.	Üçgensel Sayılar.....	98
93.	Bilinmeyen Uzunluklar.....	99
94.	Sayı Üçgeni.....	100
95.	Hangisi Uzun.....	101
96.	Küp Baskısı.....	102
97.	Labirent.....	103
98.	Ömer Hayyam Üçgeni.....	104
99.	Mantıksal İlişki.....	105
100.	Bu İşte Bir Terslik Var.....	106
101.	Matematik Sınavı.....	107
102.	Nazlının Kedisi.....	108
103.	İsimleri Bul.....	109
104.	Herkes Evine.....	110
105.	Altıgen Doldurma.....	111
	Çözümler.....	113

1

DURMADAN ÇİZ

Aşağıdaki şekli elinizi kaldırmadan ve aynı çizgi üzerinden ikinci kez geçmeden çizebilir misiniz?



2

AYŞE'NİN KAZAKLARI

Ayşe'nin kazaklarından ikisi hariç hepsi kırmızı, ikisi hariç hepsi yeşil, ikisi hariç hepsi mavidir. Ayşe'nin kaç tane kazağı vardır?




3

DÖRT İŞLEM

1-3-5-7-9 rakamlarının her birini sadece birer kez kullanarak 4 işlemle 49 sayısını nasıl elde edebilirsiniz?

(Her işlemi ve her rakamı kullanmak şartıyla)



4

MANTIKSAL İLİŞKİ

Aşağıdaki resimler arasında bir ilişki vardır. Bu ilişkiye göre boş alana hangi resim gelmelidir?



5

KARE KESMECE

Aşağıdaki kare, şekildeki gibi kesilirse, ilk haline göre şeklin çevresindeki değişiklik için ne söylenebilir?



A) Azalır

B) Artar

C) Değişmez

6

SAAT KAÇ


Akrep ve yelkovanın boylarının eşit olduğu resimdeki gibi bir saatte şu an saat tam 3:00 mü yoksa 12:15 midir?



7

SAYI YERLEŐTİRME

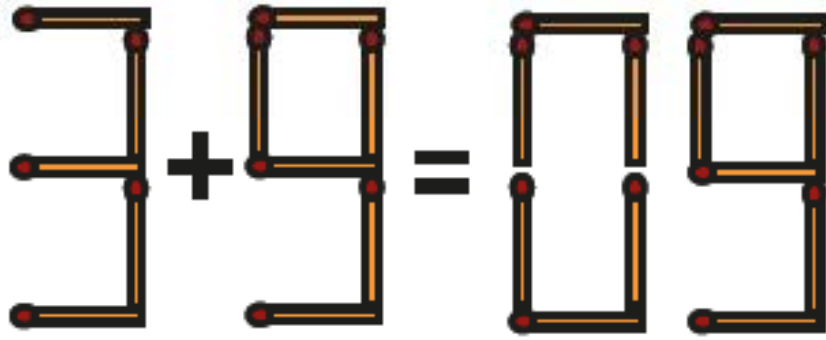
1 den 8 e kadar olan rakamları aŐağıdaki tabloya öyle yerleŐtiriniz ki art arda gelen herhangi iki rakam tablo içinde komŐu (ortak kenarlı ya da köŐeli) iki kutu içinde bulunmasınlar?



8

KIBRİT ÇÖPÜ

Bir kibrit çöpünün yerini değiştirerek eşitliği sağlayınız.



9

HANGİ GÜN?

“Yarın dün olsaydı bugün pazartesi olurdu” diyen Zeynep bunu hangi gün söylemiştir?

