

4.
SINIF

ALTIN BEYİN

DİKKAT VE ZEKA

TEST KİTABI

Online
Deneme
ile Kişisel Gelişim
Karnesi
www.altinkarne.com.tr



BİLSEM-KANGURU-OLİMPİYAT

Düşünme Becerileri

- DİKKAT BECERİSİ
- MANTIK
- ALGILAMA
- AKIL YÜRÜTME

Metehan GÜMÜŞ
ALTIN NOKTA

Dijital Kitap

Akıllı Tahta

Dijital Çözüm

www.altinkarne.com



Copyright © Altın Nokta
ISBN 978-605-2285-24-6

KAYNAK KİTAPLAR
4. SINIF ALTIN BEYİN DİKKAT VE ZEKA TEST KİTABI

Bu kitabın her hakkı saklıdır. Tüm hakları **ALTIN NOKTA YAYINEVİ'ne** aittir. Kısmen de olsa alıntı yapılamaz. Metinler, kitabı yayımlayan kurumun önceden izni olmaksızın elektronik, mekanik, fotokopi ya da herhangi bir kayıt sistemiyle çoğaltılamaz, yayımlanamaz. Kitapta yer alan oyun, bulmaca, soru, metin ve resimlerin sorumluluğu yazarna/yazarlarına aittir.

Genel Yayın Yönetmeni
Halil İ. AKÇETİN

Yayın Editörü
Leyla GÜNDOĞDU

Dizgi & Kapak
Altın Nokta Grafik

Yayın - Dağıtım
Altın Nokta Basım Yayın Dağıtım
3/18 Sokak No: 2/N BUCA - İZMİR
+90 232 502 52 94 / +90 507 470 24 98

www.nartest.com.tr - www.altinnokta.com.tr
www.nokta2000.com - www.kitapana.com.tr
www.bilimselkitaplar.net

nartest@nartest.com.tr - altinnokta@altinnokta.com.tr
nokta@nokta2000.com - kitapana@kitapana.com.tr
destek@bilimselkitaplar.net

Basım
Ertem Basım
Ömit Mah. 2539. Sk. No:19 Çankaya / ANKARA
Tel: 0 312 284 18 14 Sertifika No: 48083

Aralık – 2021
1. Basım

ÖN SÖZ

Sadece bilmenin yeterli olmadığı günümüzde analitik düşünen ve bilgiyi yorumlayan bireyler yetiştirmek geleceğimizi inşa etmek adına en önemli hedeflerimiz arasında olmalıdır. Zihinsel süreçlerin alt basamakları olan; **Algılama, Mantıksal Akıl Yürütme, Dikkat, Eleştirel Düşünme ve İşlem Becerisi** yetenekleri gelişmiş bireyler dünyayı daha iyi okuyacak karşılaştığı problemlere farklı çözüm yolları üreteceklerdir.

Altın Beyin kitap serisi ile çocuklarımızı bilgi yüklü ama yüklendiği bilgiyi kullanamayan bireyler olmaktan çıkarıp analitik düşünen, bilişsel becerileri gelişmiş, düşünen ve sorgulayan bireyler haline getirmeyi hedefliyoruz. Altın Beyin Dikkat ve Zeka Seti her sınıf düzeyinde birbirini tamamlayan 2 kitaptan oluşmaktadır;

1. KİTAP: DİKKAT ve ZEKA KİTABI: DİKKAT BECERİSİ, ALGILAMA, MANTIK ve AKIL YÜRÜTME bölümlerinden oluşmaktadır. Altın Beyin kitap serisine bu kitaptaki soruları çözecek başlayabilirsiniz ve bu kitaptaki tüm sorular bitirilmeden 2. kitaba başlanmamalıdır. Çünkü 1. kitaptaki soruların çözülmesi 2. kitaptaki soruların çözümünü kolaylaştıracaktır.

2. KİTAP: MATEMATİK KİTABI: İŞLEM YETENEĞİ, PROBLEM ÇÖZME BECERİSİ, MANTIK MUHAKEME ve ŞEKİL YETENEĞİ, SAYMA BECERİSİ bölümlerinden oluşmaktadır. Bu kitaptaki sorularla matematiksel düşünme becerilerini geliştireceksiniz ve farklı düşünme becerileri gerektiren sorularla karşılaşacaksınız.

Bu seriyi çözerek BİLSEM ve KANGURU SINAVLARI'na hazırlanmış olacak ve analitik düşünmeyi gerektiren dünya standartlarında sorularla karşılaşmış olacaksınız.

Kitabın yazılmasında katkıda bulunan değerli öğretmenlerimiz **Yasin GENCER** ve **DERYA DENİZ**'e teşekkür ederiz.

Kitabımızın faydalı olması dileğiyle tüm öğrenci ve öğretmenlerimize başarılar dileriz.

İÇİNDEKİLER

1. BÖLÜM	DİKKAT BECERİSİ	5
2. BÖLÜM	ALGILAMA	21
3. BÖLÜM	MANTIK	57
4. BÖLÜM	AKIL YÜRÜTME	80



1. BÖLÜM



DİKKAT BECERİSİ

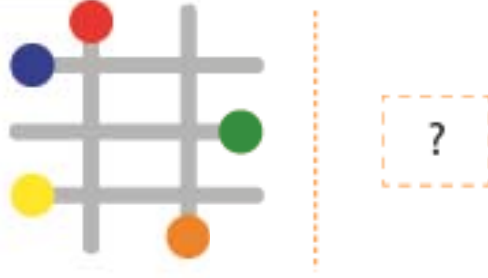
Bu bölümdeki soruları çözerek dikkat ve konsantrasyon becerilerinizi güçlendireceksiniz.

Tüm soruları çözdükten sonra

www.altinkarne.com sitesindeki **DİKKAT** ve **ZEKA-DİKKAT BECERİSİ** sınavını çözerek ilerlemenizi kaydediniz.

Online sınav için karekodu okutunuz.

1.



Yukarıdaki şeklin yansıması aşağıdakilerden hangisidir?

A



B



C



D



2.



Yukarıda verilen saatin yansıması aşağıdakilerden hangisi gibidir?

A



B



C



D



3.

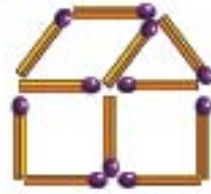


Yukarıda kibrit çöpleriyle yapılan şeklin yansıması aşağıdakilerden hangisidir?

A



B



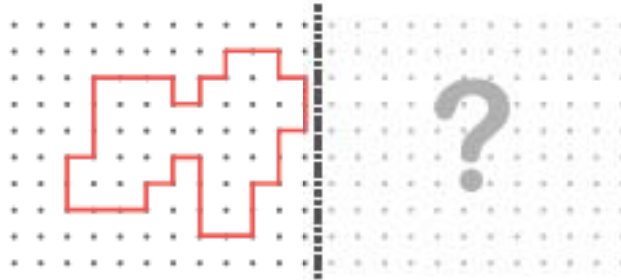
C



D



4.



Yukarıdaki şeklin yansıması aşağıdakilerden hangisidir?

A



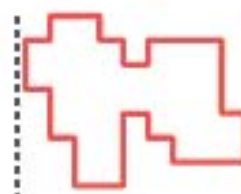
B



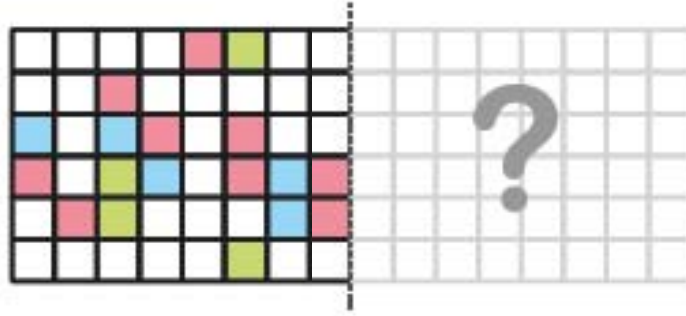
C



D

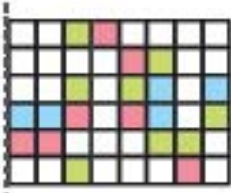


5.

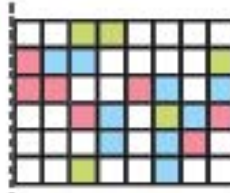


Yukarıdaki şeklin yansıması aşağıdakilerden hangisidir?

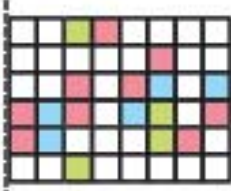
A



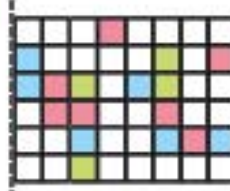
B



C



D



6.



Yukarıdaki şeklin yansıması aşağıdakilerden hangisidir?

A



B



C



D



1.



Yukarıdaki şatonun gölgesi aşağıdakilerden hangisidir?

A



B



C



D



2.



Yukarıdaki yapının gölgesi aşağıdakilerden hangisi olabilir?

A



B



C



D



3.



Yukarıdaki yapının gölgesi aşağıdakilerden hangisi olabilir?

A



B



C



D



4.



Yukarıdaki yapının gölgesi aşağıdakilerden hangisi olabilir?

A



B



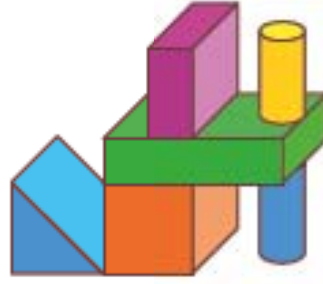
C



D



5.



Yukarıdaki yapının gölgesi aşağıdakilerden hangisi olabilir?

A



B



C



D



6.



Yukarıdaki kurbağanın gölgesi aşağıdakilerden hangisidir?

A



B



C



D



1.

			12	
		10		14
1	2	A	16	
	3		B	20
	6	7		

Yukarıdaki kareler 1 den başlayarak kenarları ortak bir başka kareye bir fazlası yazılacak şekilde 20'ye kadar doldurulacaktır.

Buna göre A ve B yerine gelmesi gereken sayıların toplamı kaçtır?

A 23

B 26

C 27

D 32


2.



Terzi Sueda Hanım elbiseyi tamamlamak için aşağıda verilen kumaşların hangisinden bir parça kesmelidir?



3.



Yukarıdaki şekilde 1 numaralı olta hangi cisme takılmıştır?

- A A B B C C D D

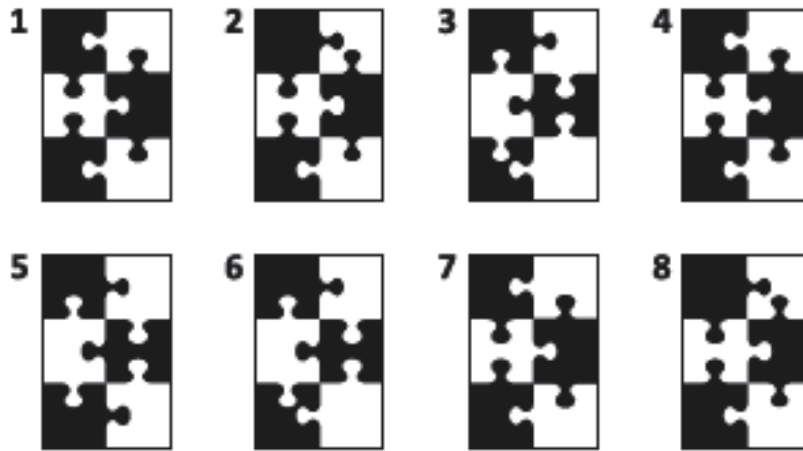
4.



Yukarıda verilen eski saat aşağıdaki anahtarların hangisi ile çalıştırılabilir?



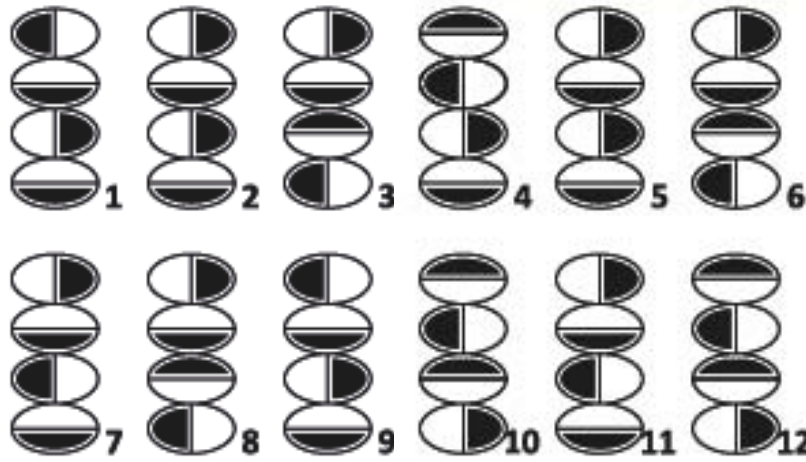
5.



Yukarıdaki şekillerden hangisinin eşi yoktur?

- A 1 B 2 C 5 D 7

1.



Yukarıda verilen şekillerden sadece bir tanesinin eşi bulunmamaktadır. Buna göre eşi olmayan şekil aşağıdakilerden hangisidir?

- A 2 B 4 C 8 D 10

2.



Aşağıdaki kartlardan hangisi yukarıdaki kartla aynıdır?

