

ÜNİVERSİTE HAZIRLIK

# TYT


## Temel Yeterlilik Testi

# TARİH

# SORU BANKASI

**Kazanım** • **Kavrama** • **Kazandıran**  
Bilgi Temelli Beceri Temelli ÖSYM Tarzında

- ◆ 1240 Soru
- ◆ Yeni Nesil Sorular
- ◆ MEB Müfredatına Uyumlu





**Genel Yayın Yönetmeni**  
Mehmet Şirin BULUT

**Düzenleyen**  
Burcu Atabay

**Dizgi ve Kapak Tasarımı**  
Qıtap Dizgi & Grafik Birimi

**Baskı ve Cilt**  
Qıtap Yayıncılık San. Tic. A.Ş.

**Sertifika:** 71316

**ISBN:** 978-605-72619-7-7

**İletişim**

Dumlupınar Mah. Behramkale Cad. No: 9 PK: 16285 Görükle, Nilüfer/Bursa

**Telefon:** 444 99 16

**İnternet:** [www.qitapyayinlari.com](http://www.qitapyayinlari.com)

**Mail:** [info@qitapyayinlari.com](mailto:info@qitapyayinlari.com)

Bu eserin her hakkı saklı olup tüm hakları Qıtap Yayıncılık San. Tic. A.Ş.'ye aittir. Bu eserden kısmen de olsa alıntı yapılamaz, metin ve soruları aynen veya değiştirilerek elektronik, mekanik, fotokopi ya da başka türlü bir sistemle çoğaltılamaz, depolanamaz.©

## ÖN SÖZ

Değerli Öğrenciler,

Ülkemizde eğitim sisteminin temel amacı; sorun çözen, sorunu anlama yeteneği gelişen, sistematik ve girişimci öğrenciler yetiştirebilmektir. Bu doğrultuda hazırlanan müfredatlar öğrencilerin gelişimini destekleyecek ve gelecek çağa ayak uydurmalarına yardımcı olacak şekilde geliştirilmektedir.

ÖSYM'nin sınav sistemi de bu dinamik ve gelişen öğretim yönetmeliklerinden etkilenmektedir. ÖSYM zamanın gerekliliklerini karşılayabilecek analitik düşünme gücüne sahip, yaratıcı ve motivasyon sahibi bireylerin kendini daha iyi ifade edebilmesine olanak tanıyacak ve zamanla, daha çok öğrenciyi merkeze alan Yeni Nesil sorularıyla bu gelişim sürecine şekil vermektedir.

Qıtap Yayıncılık olarak bu ilerleme çağında yeni, dinamik ve deneyimli öğretmen kadromuzla karşınızdayız. Güncel içeriklerimiz ile iddialı ve ilerlemeye kararlı öğrencilerimiz için soru pratiği ve bilgi pekiştirme fırsatı sunuyoruz. Yeni sisteme uygun, TYT - AYT sınavlarına hazırlık sorularından oluşan kitaplarımızda yıllardır ÖSYM sorularının temelini oluşturan soru köklerinin yanı sıra Yeni Nesil sorular ve zengin içerikli kitaplarımızla bu sınav döneminde de sizleri başarıya taşımayı görev edindik.

### **TYT Tarih Soru Bankası**

- Bu kitapta; ÖSYM'nin soru tarzına uygun olup bilgi temelli sorulardan oluşan kazanım testleri,
- Genellikle yeni nesil soruların pekiştirilmesi amacıyla hazırlanan ÖSYM tarzı soru modellerinden oluşan kavrama testleri,
- Son yıllarda YKS'de çıkan yeni tarz soruların ağırlıkta olduğu, ÖSYM'nin soru kalıplarına tamamen uygun sorulardan oluşan kazandıran testler yer almaktadır.

## İÇİNDEKİLER

TARİH VE ZAMAN .....	5
İNSANLIĞIN İLK DÖNEMLERİ .....	13
ORTA ÇAĞ'DA DÜNYA .....	29
İLK VE ORTA ÇAĞLARDA TÜRK DÜNYASI .....	35
İSLAM MEDENİYETİ'NİN DOĞUŞU .....	51
TÜRKLERİN İSLAMİYETİ KABULÜ VE İLK TÜRK İSLAM DEVLETLERİ .....	65
YERLEŞME VE DEVLETLEŞME SÜRECİNDE SELÇUKLU TÜRKİYESİ .....	77
BEYLİKTEN DEVLETE OSMANLI SİYASETİ .....	89
DEVLETLEŞME SÜRECİNDE SAVAŞÇILAR VE ASKERLER - BEYLİKTEN DEVLETE OSMANLI MEDENİYETİ (1302 - 1453) .....	101
DÜNYA GÜCÜ OSMANLI (1453 - 1595) .....	115
SULTAN VE OSMANLI MERKEZ TEŞKİLATI - KLASİK ÇAĞ'DA OSMANLI TOPLUM DÜZENİ .....	129
DEĞİŞEN DÜNYA DENGELERİ KARŞISINDA OSMANLI SİYASETİ (1595 - 1774) .....	139
DEĞİŞİM ÇAĞI'NDA AVRUPA VE OSMANLI .....	153
ULUSLARARASI İLİŞKİLERDE DENGELER STRATEJİSİ (1774 - 1914) .....	163
DEVRİMLER ÇAĞI'NDA DEĞİŞEN DEVLET - TOPLUM İLİŞKİLERİ .....	175
SERMAYE VE EMEK - XIX. VE XX. YÜZYILDA DEĞİŞEN GÜNDELİK HAYAT .....	189
XX. YÜZYIL BAŞLARINDA OSMANLI DEVLETİ VE DÜNYA .....	197
MİLLÎ MÜCADELE .....	211
ATATÜRKÇÜLÜK VE TÜRK İNKILABI .....	231
İKİ SAVAŞ ARASINDAKİ DÖNEMDE TÜRKİYE VE DÜNYA .....	239
II. DÜNYA SAVAŞI SÜRECİNDE TÜRKİYE VE DÜNYA .....	245
II. DÜNYA SAVAŞI SONRASINDA TÜRKİYE VE DÜNYA .....	253
TOPLUMSAL DEVRİM ÇAĞI'NDA TÜRKİYE VE DÜNYA .....	259
XXI. YÜZYILIN EŞİĞİNDE TÜRKİYE VE DÜNYA .....	267

1. **Tanım:** Tarih; geçmişte yaşamış insan topluluklarının faaliyetlerini yer ve zaman göstererek, sebep - sonuç ilişkisi içinde belgelere dayalı olarak, nesnel biçimde inceleyip açıklayan sosyal bir bilim dalıdır.

**Durum:** Hitit Kralı Muvattalı'nın babası Şuppiluliuma'nın Suriye'ye yönelik planlarını devam ettirmek istemesi, Mısır firavunu II. Ramses'in Suriye'de egemenlik kurarak önemli ticaret merkezlerine sahip olmayı hedeflemesi bu iki hükümdarı karşı karşıya getirmiştir. MÖ 1280 yılında antik Kadeş şehri yakınlarında savaş yapılmıştır.

**Yukarıdaki durumda tarihin tanımında yer alan öğelerden hangisine değinilmemiştir?**

- A) Yer
- B) Zaman
- C) Devletler arası ilişki
- D) Neden - sonuç ilişkisi
- E) Belge

2. Öğretmeni Çağrı'ya "Tarih Biliminin Genel Özellikleri" konusunu ödev olarak vermiştir. Çağrı hazırlamış olduğu ödevde bu özelliklerden beş tanesini yazmış, ancak öğretmeni bunlardan birinin yanlış olduğunu belirtmiştir.

**Öğretmenin Çağrı'nın ödevinde yanlış olduğunu belirttiği özellik aşağıdakilerden hangisidir?**

- A) Deney ve gözlem tekniğinden yararlanamaz.
- B) Mutlak ve değişmez yasalar ile kanunlara dayanır.
- C) Değişebilirlik özelliğine sahiptir.
- D) Olaylar, meydana geldiği dönemin şartlarına göre değerlendirilmelidir.
- E) Olaylar arasındaki neden - sonuç ilişkisini önemser.

3. "Geçmişin aydınlanabilmesi bizi o döneme götürecek belgeler yardımıyla gerçekleşir. Tarihçiler yapmış oldukları araştırmalar sonucunda yazdıkları makalelerde ve eserlerde kendilerini değil belgeleri konuşturmalıdır."

**Yukarıdaki parçada altı çizili ifadenin gerekçesi aşağıdaki seçeneklerin hangisinde verilmiştir?**

- A) Tarihi gerçekleri objektif bir yaklaşımla ortaya koyma
- B) Tarihi olaylar arasında devamlılığı sağlama
- C) Olayların çok yönlü olduğunu kavratma
- D) Neden - sonuç ilişkisine dikkat çekme
- E) Belgeleri sözlü kaynaklara dayandırma

4.

#### BİLGİ

Geçmişte yaşamış toplulukların yönetim anlayışları, hukuk kuralları, gelenekleri ve çeşitli alanlardaki uygulamalarında kimi zaman "Acaba insanlar neden böyle bir uygulamaya gerek duymuşlar?" sorusunu akla getirmiştir. Bu gibi durumlarda şaşırılmasının temel nedeni söz konusu olayın bugünün bakış açısı ve değer yargılarıyla değerlendiriliyor olmasından kaynaklanmıştır. Oysa tarihe objektif bir gözle ve dönemin şartlarını dikkate alarak bakmak yeterli olacaktır. Örneğin Roma ve Yunan uygarlıklarında uygulanan kölelik sisteminden dolayı bu toplulukları barbar olarak suçlamak tarihi bir hatadır.

- I. **Leopold Van Ranke:** Araştırdığı döneme kendisini götürebilen insan tarihçidir.
- II. **Leon Ernest Halkin:** Şimdiki zaman, tarihe kendi çözümlemesini empoze ettiği zaman onu bozar.
- III. **İbn-i Haldun:** Geçmişler geleceğe suyun suya benzesinden daha çok benzer.

**Yukarıda verilen bilginin tarihçilerden hangilerinin yapmış olduğu tanımlamaya uygun olduğu söylenebilir?**

- A) Yalnız I
- B) Yalnız II
- C) I ve II
- D) I ve III
- E) II ve III

5. Aşağıda I. de verilen bilgilerden hangisinin II. de verilene ortam hazırladığı savunulamaz?

	I.	II.
A)	Yeni bilgilerin var olan bilgileri değiştirmesi	Tarihte mutlak ve kesin bilgilerin oluşmaması
B)	Verilerin nesnel olarak değerlendirilmesi	Araştırmalarda objektifliğin sağlanması
C)	Tarihî olayların aynı şartlarda birebir tekrar etmemesi	Deney ve gözlem yönteminin kullanılamaması
D)	Tarih biliminin kendini yenileyen bir dinamizme sahip olması	Tarih araştırmalarının kanunlara, yasalara ve genellemelere dayanması
E)	Olaylar arasında neden - sonuç ilişkisinin kurulması	Tarihte sürekliliğin sağlanması

6. Ahmet; "Zaman içinde insanların faaliyetlerini ve bu faaliyetler sonucunda ortaya çıkan değişimler ile eserleri inceleyen tarih bilimi, insan iradesi dışında gerçekleşen doğa olaylarının sonuçlarıyla da ilgilenmiştir." demiştir.

Aylin ise;

- I. şehir devletlerinin kurulması,
- II. mevsimlerin oluşması,
- III. kuraklık ve kıtlığa dayalı göçlerin yaşanması,
- IV. ticari faaliyetlerin yapılması

gelişmelerinin tarih biliminin inceleme alanına giren konular olduğundan bahsetmiştir.

**Aylin yukarıdakilerden hangilerini söyleseydi Ahmet'e doğru bilgi vermiş olurdu?**

- A) I ve II                      B) III ve IV                      C) I, II ve III  
D) I, III ve IV                      E) I, II, III ve IV

7.

(I) Malazgirt Savaşı'ndan sonra Anadolu'nun Türkleşmesi sürecini hızlandırmak isteyen Alp Arslan komutanlarına kılıç hakkı bahsetmiştir. (II) Bu hak doğrultusunda kurulan beylikler inşa ettikleri cami, mescid, tekke, medrese ve külliyelerle hakim oldukları bölgelerin İslamlaşmasını sağlamışlardır. (III) Türklerin batı yönlü fetihlerini durduramayan Bizans'ın yardım çağrısı üzerine Hristiyan dünyası İslam dünyası üzerine yaklaşık 200 yıl sürecek olan Haçlı Seferleri'ni başlatmıştır. (IV) Feodaliteyi Orta Doğu'ya taşımak isteyen krallar ve derebeyler seferlerin yapılmasına öncülük etmiştir. (V) Seferler sonucunda doğu - batı kültürleri arasında yaşanan etkileşim Avrupa'nın çağdaşlaşması için uygun bir ortamın oluşmasına zemin hazırlamıştır.

**Olay ve olgu kavramları birlikte düşünüldüğünde kaç numaralı alanda olguya örnek gösterilebilecek bir ifade kullanılmamıştır?**

- A) I                      B) II                      C) III                      D) IV                      E) V

8.



Sınıftaki tahtaya yukarıdaki görseli yansıtan Hazal Hanım, öğrencilerinden bu fermanla ilgili değerlendirmelerde bulunmalarını istemiştir.

**Aşağıdaki öğrencilerden hangisinin yapmış olduğu değerlendirme yanlıştır?**

- A) **İsa:** Kendi dönemini yansıtan birinci el kaynaktır.  
B) **Tülin:** Okunmasında peleoğrafya biliminden yararlanır.  
C) **Mert:** Üzerinde yer alan mühür sigilografisi biliminin inceleme alanına girer.  
D) **Ülkü:** Gerçekliğini veya sahteliğini diplomasi bilimi inceler.  
E) **Nuh:** Heraldik bilimi yazıldığı zamanı bildirir.

1.



Yukarıdaki görseli sınıf tahtasına yansıtan Erkan Bey, öğrencilerinden bu bölgedeki insanlarla ilgili değerlendirmelerde bulunmalarını istemiştir. Öğrencilerin yapmış oldukları değerlendirmeler şu şekildedir:

**Ayaz:** Alet yapma becerileri gelişmiştir.

**Nil:** Yerleşik yaşam kültürüne geçmişlerdir.

**Cenk:** Tarihî devirlere girmişlerdir.

**Öykü:** Tarımsal faaliyetlerde bulunmuşlardır.

**Buna göre,**

- I. Cenk dışında diğer öğrencilerin yapmış oldukları değerlendirmeler doğrudur.
- II. Öykü, üretici toplum yapısının oluştuğuna vurgu yapmıştır.
- III. Nil, hayat tarzına yönelik bir değerlendirmede bulunmuştur.

**yargılarından hangileri doğrudur?**

- A) Yalnız I                      B) I ve II                      C) I ve III  
D) II ve III                      E) I, II ve III

2. Hazal, araştırdığı ödevinde insanların toprağı işleyerek tarımsal üretimi başlattıklarından, evler inşa ettiklerinden, yiyecekleri korumak için kilden saklama kapları yaptıklarından, hayvanları evcilleştirdiklerinden ve uzmanlığa dayalı iş bölümünün ortaya çıktığından bahsetmiştir.

**Buna göre Hazal'ın aşağıdaki dönemlerin hangisiyle ilgili araştırma ödevi hazırladığı söylenebilir?**

- A) Mezolitik                      B) Kalkolitik                      C) Bronz  
D) Neolitik                      E) Paleolitik

3.

Tarih Öncesi Dönemler ve Bölgeler			
Bölge	Anadolu	Mezopotamya	Mısır
Paleolitik Çağ	MÖ 2,5 milyon - 16.000	MÖ 2,2 milyon - 12000	MÖ 8000 - MÖ 7500
Mezolitik Çağ	MÖ 16 bin - MÖ 9 bin	MÖ 12 bin - MÖ 10 bin	MÖ 7500 - MÖ 5000
Neolitik Çağ	MÖ 8500 - MÖ 5800	MÖ 10 bin - MÖ 5200	MÖ 5000 - MÖ 3500
Tunç (Bronz) Çağı	MÖ 3400 - MÖ 1200	MÖ 3200 - MÖ 1000	MÖ 3000 - MÖ 1070

**Bu bilgiye göre Tarih öncesi dönemler ile ilgili,**

- I. Başlama ve sona erme zamanları bölgelere göre farklılık göstermiştir.
- II. Dönemleri her topluluk farklı sürelerde yaşamıştır.
- III. Her coğrafya dönemleri aynı sıra ve zamanda yaşamıştır.

**yargılarından hangilerine ulaşılabilir?**

- A) Yalnız I                      B) Yalnız II                      C) I ve II  
D) I ve III                      E) II ve III

4. Nihan Öğretmen, "MÖ 3200'lerde Sümerlerin Mezopotamya'da bulunduğu çivi yazısı yaklaşık 1400 kilometre uzaklıkta yer alan Anadolu'daki Kültepe karumuna ancak 1200 yıl sonra ulaşabilmiştir. Bu durum . . . . ."

**Nihan Öğretmen'in ifadesine aşağıdakilerden hangisi ile devam etmesi beklenebilir?**

- A) tarih öncesi çağlarda kültürel etkileşimin zayıf olduğunu göstermektedir.
- B) Anadolu'nun dış etkenlere kapalı bir yapıya sahip olduğuna kanıttır.
- C) her topluluğun tarih öncesi çağları aynı sırayla yaşadığının en büyük delilidir.
- D) çağların kesin çizgilerle birbirinden ayrılması zaruriyetini ortaya çıkarmıştır.
- E) tarih öncesi dönemlerde Anadolu'da sosyal değişimlerin yaşanmadığını göstermektedir.

5. Aşağıdaki tabloda tarih öncesi dönemde meydana gelen bazı gelişmeler numaralandırılarak verilmiştir.

I.	Buzul çağına yaşanması
II.	Avcılık ve toplayıcılığın benimsenmesi
III.	Göçebe yaşam tarzının ortaya çıkması
IV.	Üretici toplum yapısının oluşması
V.	Doğaya bağlı hayat tarzının görülmesi

Bu sıralamada neden - sonuç ilişkisini bozan gelişme kaç numaralı alanda gösterilmiştir?

- A) I B) II C) III D) IV E) V

6.

Durum

Neolitik Dönem'de insan yaşamına uygun ılıman iklim bölgeleri oluşmuştur.

Gelişme

Mağaralardan açık arazilere çıkan insanlar doğada yetişen tohumları ıslah ederek planlı tarımsal faaliyetlere başlamışlar ve arazilerinin yakınlarında evler yaparak köylerin ortaya çıkmasını sağlamışlardır. Keten ve kenevir liflerinden giysiler dokuyan insanlar topraktan yaptıkları çanaklar ile çömlekleri ateşte pişirerek daha dayanıklı hâle getirmişlerdir. Bu dönemde insanlar tarım fazlası ürünlerini farklı bölgelerdeki ürünlerle takas ederek gereksinim duydukları mallara ulaşmışlardır.

Sonuç

..... ? .....

Durum ve gelişme birlikte değerlendirildiğinde sonuç kısmına aşağıdakilerden hangisinin yazılması **beklenemez**?

- A) Yerleşik yaşam kültürü oluşmuştur.  
B) Toplumsal eşitlik sağlanmıştır.  
C) Üretici toplum yapısı kurulmuştur.  
D) Seramik sanatı gelişmiştir.  
E) Özel mülkiyet anlayışı ortaya çıkmıştır.

7.

1	2	3	4
Orak	Mikrolit	Saban	Ok
5	6	7	8
Öğütme taşı	Olta	Parşömen	Taş balta

Yukarıdaki şemada numaralandırılmış alanlarda yer alan materyallerden hangileri avcı - toplayıcı toplumlar tarafından kullanılmıştır?

- A) 1 - 3 - 5 - 7 B) 1 - 4 - 6 - 8 C) 2 - 4 - 6 - 8  
D) 2 - 3 - 6 - 7 E) 4 - 5 - 7 - 8

8. Bir tarihinin, "İnsanoğlunun tarım ve yerleşik hayata geçtikten sonra tapınaklar inşa ettiği yönündeki tezini tartışmaya açan merkez." şeklinde tarif ettiği yerleşke aşağıdakilerden hangisidir?

- A) Çayönü  
B) Cafer Höyük  
C) Çatalhöyük  
D) Truva  
E) Göbeklitepe

9. Öğretmenin; "Yeni Taş Devri'ni Eski Taş Devri'nden ayıran özellikler nelerdir?"

sorusuna

Öğrenci; "....."

cevabını vermiştir.

Yukarıdaki boşluğa aşağıdakilerden hangisi getirilirse anlatım yanlış olur?

- A) Araç ve gereçlerin yapılması  
B) Tarımla uğraşılması  
C) Hayvanların evcilleştirilmesi  
D) Takasa dayalı ticaretin başlaması  
E) Köylerin kurulması



1. (I) Buzul çağında göçebe yaşam tarzının etkisiyle insanoğlu et ağırlıklı beslenme şeklini benimsemiştir. (II) Neolitik Dönem'de tarımsal faaliyetlerin başlamasıyla insanlar beslenmelerinde etin yanına tahılları da eklemiştir. (III) Artı ürün sayesinde insanlar takasa dayalı ticaretle gereksinim duydukları diğer ürünlere de ulaşma imkânına kavuşmuştur. (IV) Lidyalıların parayı icat etmesiyle ticari hayat canlanarak kapalı ekonomi anlayışı gelişmiştir. (V) Üç direkli gemilerin inşası ve pusulanın geliştirilmesiyle deniz ticaretinde yaşanan gelişmeler ürün çeşitliliğinin de artmasını sağlamıştır.

Yukarıda numaralanmış cümlelerin hangisinde verilen bilginin yanlış olduğu söylenebilir?

- A) I B) II C) III D) IV E) V

2.



Orak Tapınak Kalıntısı Sulama Kanalı



Saban Öğütme Taşı

Yukarıdaki görselleri sınıf tahtasına yansıtan Ekin Bey, öğrencilerine bu görsellerden hangilerinin yerleşik yaşama geçildiğine veya tarımsal faaliyetlerin yapıldığına doğrudan kanıt olarak gösterilemeyeceğini sormuştur.

Aşağıdaki öğrencilerden hangisi Ekin Bey'in sorusuna doğru yanıt vermiştir?

- A) **Ayla:** Öğütme başı  
B) **Nejdet:** Tapınak kalıntısı  
C) **Sanem:** Saban  
D) **Ulvi:** Orak  
E) **Rana:** Sulama kanalı

3. "Tarih Öncesi Devirler" ile ilgili ödevinin sunumunda Özcan arkadaşlarına şu bilgileri vermiştir: "Tarih öncesi dönemde kültürel etkileşim sayesinde bazı uygarlıklar herhangi bir devri yaşamadan bir üst devre geçmiştir. Örneğin Anadolu Tunç Devri'ndeyken Asurlu tüccarların getirdiği yazı sayesinde Demir Devri'ni yaşamadan tarihî devirlere geçmiştir. Ancak Mısır Uygarlığı gibi dış etkenlere kapalı olan bölgelerde böyle bir durum yaşanmamış ve bu toplumlar tarih öncesi devirleri şu sırayla yaşamıştır: . . . . ."

Buna göre Özcan'ın aşağıda verilen şemalardaki bilgilerden hangisini söylemesi beklenebilir?

A)	Kalkolitik	B)	Demir	C)	Tunç
	Demir		Tunç		Neolitik
	Mezolitik		Bakır		Bakır
	Tunç		Neolitik		Mezolitik
	Bakır		Mezolitik		Paleolitik
	Neolitik		Paleolitik		Demir

D)	Demir	E)	Bakır
	Tunç		Demir
	Neolitik		Paleolitik
	Bakır		Neolitik
	Mezolitik		Tunç
	Paleolitik		Mezolitik

4. "Yazının İcadı ve Gelişimi" konusunun işlendiği derste Melahat Hanım şu ifadeleri kullanmıştır: "MÖ 3200'lerde Sümerler tarafından icat edilen yazı, devletlerin vazgeçemediği bir güce dönüşmüştür. Kanunlarını, vergi sistemlerini, mülkiyet haklarını yazıya dökerek ülke yönetimini kolaylaştıran devletler başka devletlerle imzalamış oldukları antlaşmalarla egemenliklerini kalıcı hâle getirmeye çalışmışlardır."

Buna göre Melahat Hanım'ın aşağıdaki alanların hangisinden bahsettiği söylenemez?

- A) Diplomasi  
B) Siyaset  
C) Hukuk  
D) Sanat  
E) Ekonomi

5. **Cankat:** Cafer ve Çayönü höyük bölgelerinde yapılan kazılarda "Einkorn ve Emmer" gibi dünyanın en eski buğday türleri bulunmuştur.

**Gökçe:** Arkeolojik kazılarda MÖ 9000'lerden itibaren Urfa ve Diyarbakır bölgelerinde buğdayların ekilip hasat edildiği ortaya çıkartılmıştır.

**Arkadaşlarından sonra söz alacak olan Meryem'in verilen yargıları desteklemesi için aşağıdakilerden hangisini söylemesi beklenebilir?**

- A) Dünya tarihinde tarımsal faaliyetler ilk defa Anadolu'da gerçekleşmiştir.
- B) Buzul Çağı diğer bölgelere göre Anadolu'da daha erken bitmiştir.
- C) Buğday Anadolu coğrafyasından Afrika ve Avrupa kıtalarına yayılmıştır.
- D) Tarımsal faaliyetler Anadolu'da üstün ve gelişmiş bir medeniyetin olduğunu göstermektedir.
- E) Anadolu'da tarımsal üretime dayalı bir ekonomik yapı ortaya çıkmıştır.

6.

Bereketli Hilal	Göbeklitepe	Çayönü	Çatalhöyük	Kültepe
-----------------	-------------	--------	------------	---------

Yukarıdaki kavram kartlarını sınıfa getiren İlayda Hanım, öğrencilerinden birer kart seçmelerini ve seçtikleri kavramlara ait önemli bir özelliği söylemelerini istemiştir.

**Aşağıdaki öğrencilerden hangisinin vermiş olduğu bilgi yanlıştır?**

- A) **Oya** Günümüzden yaklaşık 12 bin yıl öncesinde Anadolu'nun güneydoğusu ile Mezopotamya'yı içine alan bölgedir.
- B) **Hazal** Günümüze kadar keşfedilen en erken tarihli dinî mimariye ev sahipliği yapan yerleşkedir.
- C) **Rabia** Anadolu'da köy hayatının yaşandığı ilk yerleşim yeridir.
- D) **Gamze** Anadolu coğrafyasında şehir hayatına geçiş yaşandığı ilk yerleşkedir.
- E) **Mine** Anadolu'da insan varlığına ilişkin en eski kalıntıların bulunduğu yerdir.

7.



**Tarihsel sürece uygun bir gelişim sürecinin yaşandığı bölgede ortaya çıkan görsellerdeki kalıntıların kullanılış sıralaması aşağıdaki seçeneklerin hangisinde doğru olarak verilmiştir?**

- A) IV - I - III - V - II
- B) I - IV - II - V - III
- C) V - I - III - IV - II
- D) II - III - V - I - IV
- E) I - V - II - IV - III

8. Berke hazırlamış olduğu ödevinde Yaratılış Manzumesi'nden, Urkagina Kanunları'ndan, zigguratlardan, patesilerden ve ay yılı esaslı takvimden bahsetmiştir.

**Buna göre Berke ödevinde aşağıdaki devletlerden hangisi ile ilgili bilgiler vermiştir?**

- A) Sümerler
- B) Babiller
- C) Yunanlılar
- D) Asurlular
- E) Hititler

9. Mehmet Bey, "İlk Çağ'da Sümer, Mısır, Hint, Çin ve Doğu Akdeniz medeniyetlerinin katkısıyla bir çok icat yapılmıştır. Örneğin, . . . . . bu icatlardan bazılarıdır."

**Mehmet Bey'in ifadesinde boş bırakılan yere aşağıdakilerden hangisi getirilirse anlatım yanlıştır?**

- A) para
- B) yazı
- C) alfabe
- D) tüfek
- E) kâğıt

1. Aşağıdaki tabloda numaralandırılmış bölümlerde verilen anahtar kelimelerin çağrıştırdığı devletler yazılmak istenmiştir.

I: .....	II: .....
<ul style="list-style-type: none"> <li>★ Milano Fermanı</li> <li>★ Kuria Meclisi</li> <li>★ 12 Levha Kanunları</li> <li>★ Lejyon</li> </ul>	<ul style="list-style-type: none"> <li>★ Tapates</li> <li>★ Kibebe</li> <li>★ Fibula</li> <li>★ Gordion Düğümü</li> </ul>
III: .....	IV: .....
<ul style="list-style-type: none"> <li>★ Tevrat</li> <li>★ Süleyman Mabedi</li> <li>★ On Emir</li> <li>★ Yehova</li> </ul>	<ul style="list-style-type: none"> <li>★ Tavananna</li> <li>★ Pankuş Meclisi</li> <li>★ Kadeş Antlaşması</li> <li>★ Hattuşaş</li> </ul>

Buna göre numaralandırılmış alanlara aşağıdaki devletlerden hangisi yazılamaz?

- A) Hititler  
B) İbraniler  
C) Romalılar  
D) Asurlular  
E) Frigler

- 2.



Samuel Noah Kramer'in eserine bu ismi vermesi Sümerlerin aşağıdaki özelliklerinden hangisi ile ilişkilendirilebilir?

- A) Astronomi çalışmalarıyla  
B) Çivi yazısını icat etmeleriyle  
C) Şehir devletleri hâlinde yaşamalarıyla  
D) Ziggurat adlı tapınaklar inşa etmeleriyle  
E) İlk edebî eserleri oluşturmalarıyla

3. Dersinde İlk Çağ uygarlıklarını anlatan Tarih Öğretmeni sınıf tahtasına aşağıdaki haritayı yansıtmıştır.



Buna göre dersin konusunun aşağıdaki devletlerden hangisi olduğu söylenebilir?

- A) Hitit İmparatorluğu  
B) Roma İmparatorluğu  
C) Helen (İskender) İmparatorluğu  
D) Pers İmparatorluğu  
E) Moğol İmparatorluğu

- 4.

**Persler**

- İran, Anadolu, Mezopotamya, Mısır, Trakya, Makedonya ve bazı Ege adalarına hükmetmişlerdir.
- Merkezî otoriteyi güçlendirmek için satraplık adı verilen eyalet sistemini geliştirmişlerdir.
- Zerdüştlük dinine inanmışlardır.
- Posta teşkilatını kurmuşlardır.
- Kral Yolu'nu etkin olarak kullanmışlardır.

Bu bilgilere göre Persler ile ilgili,

- I. Ülke yönetimini kolaylaştıracak düzenlemelere gitmişlerdir.  
II. Farklı etnik kökene sahip olan bölgeleri kontrol etmişlerdir.  
III. İletişim ve haberleşmeyi geliştirmeyi amaçlamışlardır.  
IV. Tek tanrılı inanç sistemini benimsemişlerdir.  
V. Üç kıtada toprağı olan devlet olma özelliğine sahiplerdir.

yargılarından hangisine ulaşamaz?

- A) I      B) II      C) III      D) IV      E) V

1.



Yukarıdaki görselde Alman İmparatoru Şarlman'ın 800 yılında papa tarafından Kutsal Roma Germen İmparatoru olarak kutsanması ve taç giymesi anlatılmıştır.

**Buna göre,**

- I. Alman İmparatoru meşrutiyetinin kaynağını kiliseye dayandırmıştır.
- II. Papalık makamı krallıklardan üstün tutulmuştur.
- III. Dinsel ve siyasi güç tek elde toplanmıştır.

**yargılarından hangilerine ulaşılabilir?**

- A) Yalnız I                      B) I ve II                      C) I ve III  
D) II ve III                      E) I, II ve III

2. **Durum I:** Roma kültürüne bağlı Hristiyan halkın ve din adamlarının desteğini almak isteyen Frank Kralı Clovis, Katolik mezhebini seçerek papanın elinden taç giymiştir.

**Durum II:** Emevi ve Abbasilerde hükümdarlar Allah adına hareket ettiklerini göstermek amacıyla halife unvanını kullanmışlardır.

**Bu iki durum birlikte değerlendirildiğinde kralların bu tutumunun aşağıdakilerden hangisine yönelik olduğu savunulamaz?**

- A) Meşrutiyetlerinin kaynağını dine dayandırma
- B) Dinin kitleler üzerindeki etkisinden yararlanma
- C) Halkın itaat etmesini sağlama
- D) Sınıflar arası eşitsizliği ortadan kaldırma
- E) Devlet üzerindeki hükümdar otoritesini güçlendirme

3.

**Berkay,** "Katolik Kilisesi'nin ortaya koyduğu kuralların tartışmasız hâle gelmesini sağlayarak sadece kilisenin doğrularının değişmez olduğunu kabul eden skolastik düşünce sistemi Orta Çağ'da Avrupa'da şu anlayışların gelişmesini engellemiştir:

A: .....

B: .....

C: .....

D: .....

" demiştir.

**Berkay'ın ifadesinde boş bırakılan yerlere aşağıdakilerden hangisi getirilirse anlatım yanlış olur?**

- A) Özgür düşünce
- B) Laik devlet
- C) Bireysel yaratıcılık
- D) Bağımsız bilimsel araştırma
- E) Teokratik yönetim

4.

Mehmet Bey, "Kral, lord, baron, dük ve vasallar arasındaki mücadeleler Orta Çağ Avrupa'sında uzun süren karışıklıkların yaşanmasına neden olmuştur. Bu durum . . . . engellemiştir."

**Mehmet Bey'in sözünü en iyi tamamlayan ifade aşağıdakilerden hangisidir?**

- A) merkezî otoritenin zayıflamasını
- B) siyasî istikrarın korunmasını
- C) toplumsal birlikteliğin bozulmasını
- D) asalete dayanan yönetim şeklinin önem kazanmasını
- E) eşitsizliğe dayanan toplum yapısının ortaya çıkmasını

5.

Öğrencilerin derse olan hazır bulunuşluk seviyelerini ölçmek isteyen tarih öğretmeni sınıftaki tahtaya, "ribat, kapan, arasta, bedesten" kelimelerini yazarak öğrencilerinden bunların anlamlarını söylemelerini istemiştir.

**Buna göre dersin konusunun aşağıdakilerden hangisi olduğu söylenebilir?**

- A) Ticari mekânlar
- B) Ordu teşkilatı
- C) Feodal sınıflar
- D) Kast Sistemi
- E) Kavimler Göçü

6. Feodal sistemde siyasi güç krala ait olup kral, siyasi otoritesini mutlak sadakat koşuluyla derebeylerle paylaşmıştır.

**Bu bilgiye göre feodal sistem ile ilgili;**

- I. mahalli yöneticilerin güçlü olduğu,
- II. merkezî otoritenin zayıfladığı,
- III. siyasi parçalanmışlığın yaşandığı

**Yorumlarından hangileri yapılabilir?**

- A) Yalnız I                      B) I ve II                      C) I ve III  
D) II ve III                      E) I, II ve III

7. Arzu Hanım, "Mesleklerin babadan oğula geçtiği kast sisteminde kişiler bir daha terk edemeyecekleri bir kast içinde doğar, bu kast içinde eş seçer, burada yaşar ve ölürdü. Bu durum . . . . . kanıt olarak gösterilebilir."

**Arzu Hanım'ın sözü aşağıdaki ifadelerden hangisi ile tamamlanırsa anlatım yanlış olur?**

- A) sınıflar arası geçişin yaşanmadığına  
B) mülkiyet kavramının gelişmediğine  
C) halk arasında eşitsizliklerin olduğuna  
D) toplumsal tabakalaşmanın meydana geldiğine  
E) kişi haklarının önemsenmediğine

8. **Bilgi I:** Sasani Devleti'nde eyaletleri yöneten valiler, komutanlar ve yüksek rütbeli devlet görevlileri yedi büyük aileden oluşan aristokratlar sınıfından çıkmıştır. Bu makamlar babadan oğula geçmiş ve tek bir aile içinde nesiller boyunca devam etmiştir.

**Bilgi II:** Emevi Devleti'nde önemli makamlara başta Ümeyyoeğulları olmak üzere Araplar getirilirken Arap olmayanlar mevali olarak adlandırılmıştır.

**Bu durum aşağıdakilerden hangisinin göstergesidir?**

- A) Laik devlet yönetiminin benimsendiğinin  
B) Egemenliğin dine dayandırıldığıının  
C) Soy dayanışmasına önem verildiğinin  
D) Sınıfsal çatışmaların yaşandığının  
E) Merkezî otoritenin zayıfladığının

- 9.

a	b	c	d	e
Arasta	Kapan	Bedesten	Han	Ribat

Türk - İslam devletlerinde ilk zamanlarda askerî amaçla inşa edilen daha sonraki dönemlerde kervanların konakladığı yapılara . . . . . I . . . . . , ürünler ile malların toptan satıldığı mekânlara . . . . . II . . . . . , değerli malların satıldığı kapalı çarşılar . . . . . III . . . . . , aynı esnaf grubuna ait dükkânların bir sokak üzerinden yan yana sıralanmasıyla oluşan yerlere . . . . . IV . . . . . ve şehir merkezlerinde alt katı perakende satışın yapıldığı üst katında ise konaklama hizmeti veren yapılara . . . . . V . . . . . adı verilmiştir.
---

Sınıf tahtasına yukarıdaki tabloları yansıtan Eylül Hanım öğrencilerine numaralandırılmış alanlara hangi mekânlara ait harflerin yazılması gerektiğini sormuştur.

**Aşağıdaki öğrencilerden hangisi Eylül Hanım'ın sorusuna doğru yanıt vermiştir?**

- A) **Akif:** a - I , c - II , d - III , b - IV , e - V  
B) **Nisa:** c - I , e - II , b - III , d - IV , a - V  
C) **Salih:** d - I , a - II , e - III , c - IV , b - V  
D) **Derya:** e - I , b - II , c - III , a - IV , d - V  
E) **Ersin:** b - I , d - II , a - III , e - IV , c - V

10. Halil Bey'in "Artı ürün ortaya koymanın sonuçları nelerdir?" sorusuna öğrencisi Rana şu yanıtları vermiştir:

1. Takasa dayalı ticaret gelişmiştir.
2. Devletlerin vergi gelirleri oluşmaya başlamıştır.
3. Yeni meslekler ortaya çıkmıştır.
4. Toplumsal tabakalaşma meydana gelmiştir.
5. Ürünlerin depolanması ve korunması zorunluluğu ortadan kalkmıştır.

**Buna göre Rana kaç numaralı alanda yanlışlık yapmıştır?**

- A) 1                      B) 2                      C) 3                      D) 4                      E) 5

1.

Cengiz Han Yasası'nda elbiselerin çok kirlenmeden yıkanması yasaklanmışken Roma Hukuku'nda ve Justinianus Kanunları'nda böyle bir yasaklamaya rastlanmamıştır. Aynı şekilde 12 Levha Kanunları'nda hırsızlık yaptığı sonradan ortaya çıkanlara çaldığı malın iki katı ödeme cezası verilirken Cengiz Yasası'nda bu oran dokuz kat olarak belirlenmiştir.

Bu bilgileri sınıf tahtasına yansıtan Cemre Öğretmen, öğrencilerine hukuk kurallarının farklı olmasındaki nedenleri sormuştur.

**Aşağıdaki öğrencilerden hangisinin vermiş olduğu yanıt yanlıştır?**

- A) **Eda:** Gelenek ve göreneklerin farklı olması  
 B) **Sefa:** Halk meclislerinde farklı zümreleri ilgilendiren kararların alınması  
 C) **Ömür:** Değişik inanç sisteminin benimsenmesi  
 D) **Niyazi:** Kültürlerinin farklı özellikleri barındırması  
 E) **Oya:** Sosyal yapılarının farklı olması

2. **Suat:** İlk defa kamu ve özel hukuk ayrımı yapılmıştır.

**Nisa:** Aile kurumu ve evlilik konusu dinî temellere oturtulmuştur.

**Ferhat:** Suçluyu arındırma, iyileştirme ve caydırma amacı güdülmüştür.

**Özge:** Patrici ve pleplerin mücadelesi sonucunda ortaya çıkmıştır.

**Cüneyt:** Suçun mahiyetine göre suçlulara, taş ocaklarında ve madenlerde ömür boyu zorunlu çalışma ve sürgün cezası da verilmiştir.

**Justinianus Kanunları ile ilgili kendi aralarında sohbet eden öğrencilerden hangisinin vermiş olduğu bilgi yanlıştır?**

- A) Özge  
 B) Cüneyt  
 C) Nisa  
 D) Suat  
 E) Ferhat

3.

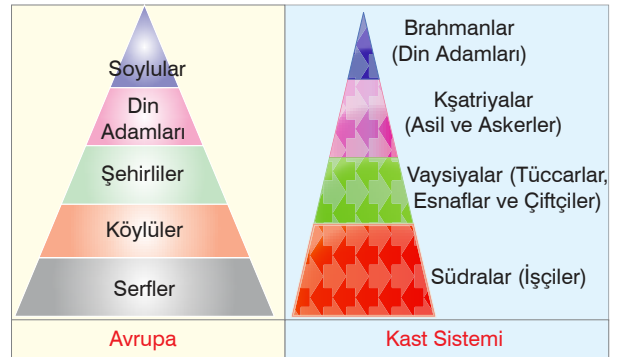
Hanbalık'ta alışveriş yaparken arkadaşının kavga ettiğini gören Noyan kavgaya katılmış ve karşı taraftaki kişinin yaralanmasına sebep olmuştur. Obasına doğru giderken sahibinden kaçan bir esiri yakalayan Noyan esiri sahibine vermek yerine kendisi ile götürmüştür. Daha önceden de hakkında sihirbazlık yaptığı ve yalan söylediği yönünde şikâyetler bulunan Noyan bölgede devriye gezen askerler tarafından yakalanmıştır.



**Noyan, işlediği suçlardan dolayı Cengiz Han Yasası'na göre hangi cezaya çarptırılacaktır?**

- A) Sürgün  
 B) Falaka  
 C) Ölüm  
 D) Tazminat ödeme  
 E) Manastıra kapatılma

4.



**Yukarıdaki görsellere bakıldığında;**

- I. toplumun farklı tabakalara göre sınıflara ayrıldığı,  
 II. kişilerin statülerine göre konumlandırıldığı,  
 III. dinsel inanışların sınıfsal yapılanmayı şekillendirdiği

**çıkarımlarından hangileri yapılabilir?**

- A) Yalnız I  
 B) Yalnız II  
 C) I ve II  
 D) I ve III  
 E) II ve III

1.

- I** Ölecek milleti diriltip doyurdum. Çıplak milleti giydirdim. Fakir milleti zengin, aç milleti çok kıldım.
- II** Üste gökyüzü altta yağız yer, ikisinin arasında insanoğlu yaratılmıştır. İnsanoğlunun üzerine (Tengri tarafından) Türk kağanları (Bumin ve İstemi) oturtulmuştur.
- III** Doğuda gün doğusuna, güneyde gün ortasına batıda gün batısına, kuzeyde gece ortasına kadar bütün milletleri kendime tabi kıldım ve hepsini düzene soktum.
- IV** Tanrı lütfettiği için illiyi ilsizleştirmiş, kağanlıyı kağansızlatmış, düşmanı tabi kılmış, dizliye diz çöktürmüş, başlıya baş eğdirmiş.

**Orhun Yazıtları'nda yer alan yukarıdaki ifadelerden hangileri, "Türk kağanının yalnız kendi milletini değil bütün insanlığı yönetme yetkisine sahip olduğu" anlayışı ile ilişkilendirilebilir?**

- A) Yalnız I                      B) I, II ve III                      C) II, III ve IV  
D) I, III ve IV                      E) I, II, III ve IV

2. "Onların devletinin içinde hiçbir fakir insan yoktur, yiyeceği olmayanlara devlet hesabından yardım edilir."

**Çin elçisinin bu ifadesinden hareketle Uygurlar ile ilgili,**

- I. Sosyal devlet anlayışını benimsemişlerdir.  
II. Çok uluslu toplumsal yapıya sahiptirler.  
III. "Devlet halk içindir." ilkesine göre hareket etmişlerdir.

**Yargılarından hangilerine ulaşılabilir?**

- A) Yalnız I                      B) Yalnız II                      C) I ve II  
D) I ve III                      E) II ve III

3.

Türk ordusunda hedefi vurma, emre itaat, disiplin ve hızlı karar verme askerlerde bulunması gereken temel özellikler olarak kabul edilmiştir. Türkler bu özellikleri henüz çocukluk çağlarında kazanmaya başlamışlardır. Türk çocukları küçük yaşlardan itibaren koçların sırtına binerek tavşan, gelincik ve tarla faresi gibi canlı hedeflere ok atmayı öğrenmişler, ilerleyen yıllarda bu askerî eğitime at sırtında devam etmişlerdir.

**Bu durum aşağıdakilerden hangisinin göstergesidir?**

- A) Askerliğin Türkler için bir yaşam tarzı olarak benimsendiğinin  
B) Türklerin askerî alanda bir çok topluluğu etkilediğinin  
C) Sürek avlarının ordu - millet anlayışını ortaya çıkardığının  
D) Türklerde askerliğin ücret karşılığında yapılan profesyonel bir meslek olduğunun  
E) Savaşlarda kullanılan klasik silahların Türklerce icat edildiğinin

4.

İslamiyet öncesi Türk devletlerinde askerî güç konusunun işlendiği derste Okan Bey öğrencilerine, "Türklerde halk ordu, ordu da halk durumundaydı. Bu anlayış gereği toplumda eli silah tutan herkesin asker sayılmasıyla ordu - millet anlayışı ortaya çıkmıştır." bilgisini vererek onlara "Ordu - millet anlayışının ortaya çıkmasında etkili olan nedenler nelerdir?" sorusunu yöneltmiştir.

Okan Bey'in sorusuna öğrencileri şu yanıtları vermiştir:

**Mekiye:** Konargöçer yaşam şeklinin benimsenmesi

**Oğuz:** Sınıfsal farklılıkların etkisi

**Nurgül:** Türklerin askerliği para karşılığında yapılan bir meslek olarak görmemesi

**İnan:** Federatif yönetim anlayışına uygun toplumsal yapının kurulması

**Buna göre öğrencilerden hangileri Okan Bey'in sorusuna doğru yanıt vermiştir?**

- A) Mekiye - Oğuz  
B) Nurgül - İnan  
C) İnan - Mekiye  
D) Oğuz - Nurgül  
E) Nurgül - Mekiye

5.



Yukarıdaki görselden hareketle Türkler ile ilgili aşağıdakilerden hangisine ulaşılabilir?

- A) Çok tanrılı dinsel inanç sisteminin benimsendiğine
- B) Ölümünden sonraki hayatın varlığına inanıldığına
- C) Misyonerlik faaliyetlerinde bulunulduğuna
- D) Soylu kişiler için anıtsal mabetlerin inşa edildiğine
- E) Eşitlikçi bir toplumsal yapının kurulduğuna

6. **Öğretmen:** Orta Asya'da Türk topluluklarında toprağa dayalı kölelik anlayışının görülmemesinde etkili olan nedenler nelerdir?

sorusuna

**Öğrenci:** .....  
cevabını vermiştir.

Yukarıdaki boşluğa;

- I. konargöçer yaşam tarzının benimsenmesi,
- II. toplumsal dayanışmanın zayıf olması,
- III. ülke topraklarının büyük bir kısmının devlete ait sayılması

yanıtlarından hangileri eklenirse konuyla ilgili doğru bir bilgi verilmiş olur?

- A) Yalnız I
- B) Yalnız II
- C) Yalnız III
- D) I ve II
- E) I ve III

7. Aşağıdaki görselde Uygurlar Dönemi'ne ait satış sözleşmesi verilmiştir.



Bu görselden hareketle Uygurların;

- I. yazılı kültür,
- II. özel mülkiyet,
- III. ticaret hukuku

alanlarının hangilerinde gelişme gösterdikleri savunulabilir?

- A) Yalnız I
- B) I ve II
- C) I ve III
- D) II ve III
- E) I, II ve III

8. Emevilerle mücadele ederek Orta Asya'nın bu devletin hâkimiyetine girmesini engelleyen Türğişler hükümdarları adına madeni para bastıran ilk Türk topluluğudur.

Buna göre Türğişlerle ilgili aşağıdakilerden hangisine ulaşamaz?

- A) Merkezîyetçi bir devlet yapısına sahip olduklarına
- B) İslamiyet'in Orta Asya'ya yayılmasını geciktirdiklerine
- C) Yazıyı kullandıklarına
- D) Askerî teşkilatlarını güçlü tuttıklarına
- E) Bölge siyasetinde etkin rol oynadıklarına



1. Öğrencilerinin hazır bulunuşluk seviyelerini ölçmek isteyen İlker Bey sınıf tahtasına yazmış olduğu "Oğuş, Urug, Budun ve Boy" kavramlarının anlamlarını sormuştur.

**Buna göre dersin konusunun aşağıdakilerden hangisi olduğu söylenebilir?**

- A) Ekonomik hayat  
B) Toplumsal yapı  
C) Ordu teşkilatı  
D) Dinsel inanış  
E) İdari yönetim

2. Bir tarihçinin, "Türk devletlerinde siyasi, kültürel, hukuki ve ekonomik konularda kararlar alan, devlet yönetiminin temelini oluşturan danışma organı" şeklinde tarif ettiği kurum aşağıdakilerden hangisidir?

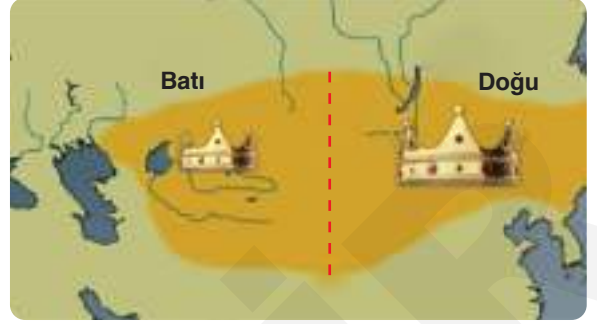
- A) Ayukı  
B) Şadlık  
C) Kurultay  
D) Töre  
E) Yabguluk

3. Tarih öğretmeni öğrencilerine İslamiyet öncesi Türklerin ticari faaliyetleri ile ilgili neleri bildiklerini sormuştur.

**Buna göre aşağıdaki öğrencilerden hangisinin vermiş olduğu yanıt yanlıştır?**

- A) **Ayla:** Türkler komşularına kürk, at, et, deri ve silah satmışlardır.  
B) **Ceylan:** Türkler alışverişlerinde satir denilen disk şeklindeki gümüş paraları da kullanmışlardır.  
C) **Özge:** Türk toplulukları İpek Yolu'na hâkim olmak için Sasaniler ve Çinlilerle mücadele etmişlerdir.  
D) **Kübra:** Asya ve Avrupa Hunları, Çin ve Bizans sınırlarında serbest pazar bölgeleri kurarak ticari hayatın canlı tutulmasını sağlamışlardır.  
E) **Emel:** Asya Hun Devleti zamanında böz ve çav denilen kâğıt paralar ticari hayatta kullanılmıştır.

4.



Yukarıdaki görseli sınıf tahtasına yansıtan Eylül Hanım öğrencilerine "İkili teşkilat sisteminin genel özellikleri nelerdir?" sorusunu yöneltmiştir.

**Aşağıdaki öğrencilerden hangisinin vermiş olduğu bilgi yanlıştır?**

- A) **Akın:** Devlet yönetiminde kolaylık sağlamak amacıyla uygulanmıştır.  
B) **Özge:** Merkezîyetçi devlet yapısının oluşmasını engellemiştir.  
C) **Numan:** Ortaya çıkmasında "Ülke hanedanının ortak malıdır." anlayışı etkili olmuştur.  
D) **İzel:** Uygurlar Dönemi'nden itibaren uygulanan bir sistemdir.  
E) **Gamze:** Türk devletlerinin kısa sürede yıkılmasına neden olmuştur.

5. Çin ile olan ilişkilerini karşılıklı dostluk ve barış temeline oturtan Bilge Kağan bazı Çin şehirlerinde serbest ticaret pazarlarının kurulması için Çin imparatoruna teklif sunmuştur. Bu teklif üzerine Çin imparatoru da Ordos Bölgesi'nin kuzeyinde bulunan bir Çin şehrinde serbestçe alışveriş yapabilmeleri için Kök Türklerle müsaade vermiştir.

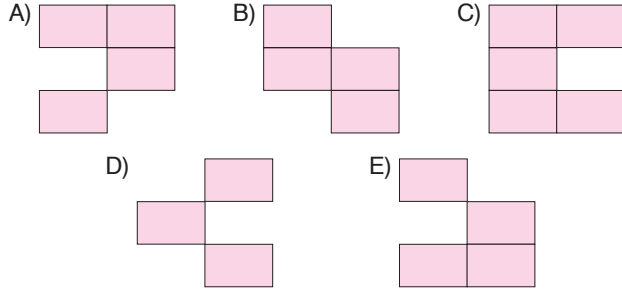
**Buna göre Kök Türkler ile ilgili aşağıdakilerden hangisine ulaşamaz?**

- A) Çinliler üzerinde ekonomik yaptırım uyguladıklarına  
B) Ülke gelirlerini arttırmaya çalışıklarına  
C) Sınır komşuluğunu ekonomik avantaja çevirdiklerine  
D) Dış ticaretin gelişmesine önem verdiklerine  
E) Ticaret hacmini geliştirmek istediklerine

6. **Türk Ordusunun Genel Özellikleri**

Hafif süvari birliklerden oluşmuştur.	Genellikle Turan taktiği uygulanmıştır.
Ordu komutanına Üge denilmiştir.	Onlu sisteme göre düzenlenmiştir.
Ok, yay, mızrak, kement gibi silahlar kullanılmıştır.	Cephe savaşlarında ve kale kuşatmalarında daha başarılıdır.

Türk ordusunun genel özellikleriyle ilgili yanlış bilgiler çıkartıldığında tablonun alacağı yeni şekil aşağıdakilerden hangisidir?



7. Arap ülkelerinden kuzeye, Bizans'tan doğuya uzanan ticaret yolları üzerinde yaşayan Hazarlar, VII. ve IX. yüzyıllar arasında buldukları bölgede huzuru ve ulaşım güvenliğini sağlayarak bu dönemin Hazar Barış Çağı olarak adlandırılmasına neden olmuşlardır.

**Bu durumun;**

- I. ticari hayatın canlanması,
- II. Türkçenin evrensel bir dile dönüşmesi,
- III. kültürel etkileşimin artması

**gelişmelerinden hangilerine ortam hazırladığı savunulabilir?**

- A) Yalnız I                      B) I ve II                      C) I ve III  
D) II ve III                      E) I, II ve III

8. • Türk tarihinin ilk düzenli ordusunu kim kurmuştur?  
• Orta Asya'da Türk birliği ilk defa hangi devlet tarafından sağlanmış?  
• Türk tarihinde ilk din değiştirme hadisesi hangi dönemde yaşanmıştır?  
• İlk Çağ'da kurulan ilk ve tek Türk devletinin adı nedir?  
• 840 yılında Kırgızlar tarafından yıkılan devlet hangisidir?

**Asya Hun Devleti ile ilgili araştırma yapan bir öğrenci yukarıdaki sorulardan kaç tanesinin cevabına ulaşabilir?**

- A) 1                      B) 2                      C) 3                      D) 4                      E) 5

9. Tarih dersinde öğrencilerin ön bilgilerini ölçmek isteyen Merve Hanım sınıf tahtasına, "Kamdu, Böz, Satir, Çav, Yarmak ve Kuanpo" kelimelerini yazarak öğrencilerinden bu kavramların anlamlarını söylemelerini istemiştir.

**Buna göre dersin konusunun aşağıdakilerden hangisi olduğu söylenebilir?**

- A) Ekonomik hayat  
B) Ordu teşkilatı  
C) İnanç sistemi  
D) Toplumsal yapı  
E) Yönetim sistemi

10. **İslamiyet öncesi dönemde törenin;**

- I. toplumsal düzenin sağlanması,
- II. devlet ilişkilerinin düzenlenmesi,
- III. gelenek ve göreneklerin korunması

**alanlarının hangilerinde etkili olduğu savunulabilir?**

- A) Yalnız I                      B) I ve II                      C) I ve III  
D) II ve III                      E) I, II ve III

1. **Berkan Bey'in** "İslamiyet öncesi dönemde Arap Yarımadası'nda siyasi birliğin sağlanamamasında etkili olan nedenler nelerdir?" sorusuna aşağıdaki öğrencilerden hangisinin vermiş olduğu yanıt yanlıştır?

- A) **Ömer:** Nesiller boyu devam eden kan davalarının yaşanması  
 B) **Rıza:** Kabilecilik anlayışının yaygın olması  
 C) **Ulvi:** Bizans ve Sasani gibi devletlerin baskısı  
 D) **Miraç:** Arapların farklı kültürlerin etkisinde kalması  
 E) **Ozan:** Farklı dinsel inanışların benimsenmesi

2. "İslamiyet öncesi Arap Yarımadası'nda eşitsizliğe dayalı toplumsal bir yapı kurulmuştur." ifadesini kullanan **Salih Öğretmen;**

- I. kölecilik anlayışının yaygın olması,  
 II. kadınların mirastan pay alamaması,  
 III. asalete dayanan sınıfsal yapılaşmanın oluşması,  
 IV. evlat edinmenin yaygın olması,  
 V. ilk doğan kız çocuklarının diri diri gömülmesi

**bilgilerinden hangisini görüşüne örnek olarak gösteremez?**

- A) I      B) II      C) III      D) IV      E) V

3. İslamiyet öncesi Arap Yarımadası ile ilgili araştırma yapan Nergis; Daru'n - Nedve'den, putperestlikten, Ukaz panayırından ve mevalilerden bahsetmiştir.

**Buna göre Nergis ödevinde aşağıdaki alanların hangisinden bahsetmemiştir?**

- A) Diplomasi      B) Siyasi      C) Dinî  
 D) Ekonomi      E) Sosyal

4.



**Yukarıdaki harita incelendiğinde İslamiyet öncesi Arap Yarımadası ile ilgili;**

- I. siyasi birliğin sağlanmadığı,  
 II. bölgenin sürekli istilalara uğradığı,  
 III. merkezi bir yönetimin oluşmadığı

**çıkarımlarından hangileri yapılabilir?**

- A) Yalnız I      B) I ve II      C) I ve III  
 D) II ve III      E) I, II ve III

5.

→ **Bedevilik** ←      → **Hadarilik** ←

Çöllerde göçebe bir hayat süren bedevilerin temel geçim kaynağı hayvancılıktır.

Köy, kasaba ve şehirlerde yaşayan hadariler tarım ve ticaretle uğraşmıştır.

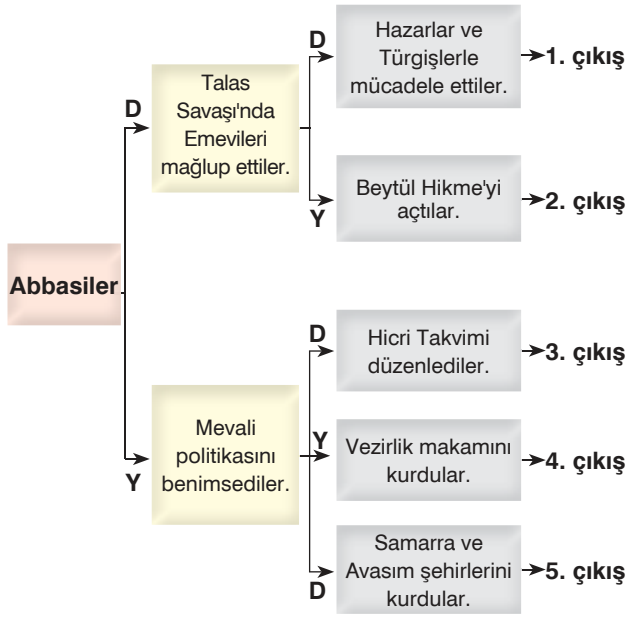
**Buna göre,**

- I. Coğrafi özellikler hayat tarzının şekillenmesinde etkili olmuştur.  
 II. Arap toplumu yaşam şekline göre farklı isimlerle anılmıştır.  
 III. İslamiyet öncesi dönemde eşitsizliğe dayanan sınıfsal yapılanma kurulmuştur.

**yargılarından hangilerine ulaşılabilir?**

- A) Yalnız I      B) I ve II      C) I ve III  
 D) II ve III      E) I, II ve III

5.



Yukarıdaki şemada ilk ifadeden başlayıp cevap okları takip edilirse kaç numaralı alanda doğru çıkışa ulaşılabilir?

- A) 1 B) 2 C) 3 D) 4 E) 5

6.



Tabii ki, örneğin Harun Reşid Dönemi'nde Endülüs Emevilerine karşı diplomatik ilişkileri geliştirmek isteyen Şarlıman'a gönderilen hediyeler arasında yer alan çalar saat ve pusula Avrupa'da büyük bir şaşkınlık ve korku uyandırmıştır.

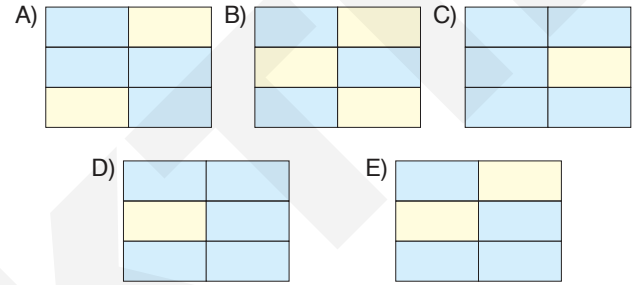
Öğretmenin aşağıdaki sorulardan hangisini yanıtlarken bu ifadeleri kullanması beklenebilir?

- A) Abbasiler Dönemi'nde İslam medeniyeti batıdan daha mı ileri bir seviyededir?
- B) İslam kültür ve medeniyetinin temelleri Harun Reşid Dönemi'nde mi atılmıştır?
- C) Avrupalılar İslam kültürünü ilk defa Emeviler vasıtasıyla mı öğrenmiştir?
- D) Avrupa'da İslam dünyasına olan ön yargıyı Harun Reşid mi yıkmıştır?
- E) Doğu ve batı dünyası hangi hükümdar döneminde etkileşime geçmiştir?

7.

Endülüs Emevi Devleti	
Avrupa'da kurulan ilk İslam devletidir.	Kurtuba Medresesi en önemli mimari eserleridir.
Günümüzdeki İspanya ve Portekiz topraklarına hakim olmuşlardır.	Mevali politikasını takip etmişlerdir.
Batı dünyasını bilimsel ve kültürel alanda etkilemişlerdir.	III. Abdurrahman'dan sonra yöneticiler halife unvanını kullanmışlardır.

Endülüs Emevi Devleti ile ilgili doğru bilgiler maviye boyanırsa aşağıdaki şekillerden hangisi ortaya çıkar?



8.



Abbasi Devleti'nde Emir'ül Umera adı verilen yöneticilerin kendi bölgelerinde bağımsızlıklarını ilan etmeleri ile ortaya çıkan feodal oluşumlara Tevaif-i Mülûk devletler denir. Mısır'da; Tolunoğulları, İhşitler, Fatimiler Tunus'ta; Tahiriler, Saffariler, Büveyhoğulları Horasan'da; Samanoğulları ve Kuzey Afrika'da; Ağlebiler ile İdrisiler bu devletlerdendir.

Bu durum aşağıdakilerden hangisinin göstergesidir?

- A) Halifelerin dinsel yetkilerinin azaldığının
- B) Merkezî otoritenin zayıfladığının
- C) Milliyetçi düşüncelerin başarıya ulaştığının
- D) İç sorunların dış soruna dönüştüğünün
- E) Ülkenin saltanat sistemiyle idare edildiğinin

5.



Kervansaray

Medrese

Darüşşifa

Bu görsellerden hareketle Türk - İslam devletleriyle ilgili aşağıdakilerden hangisi söylenemez?

- A) Halkın ihtiyaçları önemsenmiştir.  
B) Kalıcı mimari eserler inşa edilmiştir.  
C) Bayındırlık çalışmalarına önem verilmiştir.  
D) Cizye ve haraç gelirleri arttırılmak istenmiştir.  
E) Sosyoekonomik hayat canlandırılmaya çalışılmıştır.

6. Türk - İslam devletlerinin işlendiği derste, "Karahanlılarda haberleşme işleriyle Divan-ı Berid, idari işlerin teftişiyle Divan-ı İşraf, mali işlerle Divani İstifa ve ordu ile ilgili işlerle de Divan-ı Arz ilgilenmiştir." bilgisini veren Kemal Bey öğrencilerine "Sizce Karahanlıların divanlar kurmasında etkili olan nedenler nelerdir?" sorusunu yöneltmiştir.

Kemal Bey'in sorusuna öğrencileri şu yanıtları vermiştir:

**Erol:** Devlet işlerinin sistematik olarak yürütülmek istenmesi

**Canan:** Mevcut yapının korunmaya çalışılması

**Nedim:** Hanedan üyeleri arasındaki sorunları çözme düşüncesi

**Ayşe:** Halkın yönetime katılmasının sağlanmak istenmesi

Buna göre öğrencilerden hangileri Kemal Bey'in sorusuna doğru yanıt vermiştir?

- A) Erol - Canan      B) Nedim - Ayşe      C) Ayşe - Erol  
D) Canan - Nedim      E) Canan - Ayşe

7. Abbasi halifesini Şii Büveyhoğulları'nın baskısından kurtaran Gazneli Mahmut, Hindistan'a düzenlediği on yedi seferle ülkesinin sınırlarını Ganj Nehri'ne kadar genişletmiştir.

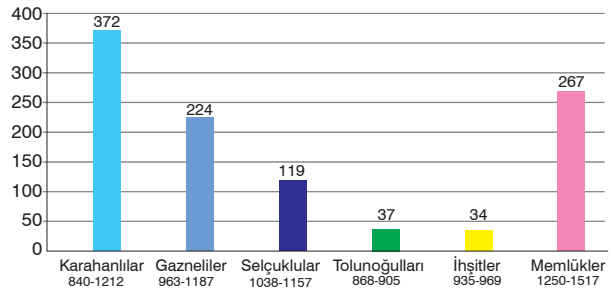
Buna göre,

- I. İslam dinî Hindistan'a yayılma imkânı bulmuştur.  
II. Gazneli Mahmut, İslam dünyasında itibarını arttıracak politikalara takip etmiştir.  
III. Gazneliler Abbasi Devleti'nin koruyuculuğunu üstlenmiştir.  
IV. Gazneli Mahmut Dönemi'nde Türk - İslam birliği kurulmuştur.

yargılarından hangilerine ulaşılabilir?

- A) I ve II      B) I, II ve III      C) I, II ve IV  
D) II, III ve IV      E) I, II, III ve IV

8.



Türk - İslam devletlerinin kuruluş ve yıkılışına ilişkin olarak hazırlanan grafikteki bilgilere bakıldığında;

- I. Türk - İslam devletlerinin bazılarının çağdaş olduğu,  
II. devletlerin farklı siyasi ömürlere sahip olduğu,  
III. Orta Asya'da kurulan devletlerin diğer coğrafyadaki devletlerden daha kısa ömre sahip olduğu

çıkarmalarından hangileri yapılabilir?

- A) Yalnız I      B) I ve II      C) I ve III  
D) II ve III      E) I, II ve III

1.

İlk Türk - İslâm devletlerinde genellikle konuşma dili Türkçe, edebiyat dili Farsça ve bilim dili ise Arapça olmuştur.



**Karahanlılar**

Resmî Dil: Türkçe  
Edebiyat Dili: Türkçe  
Bilim Dili: Türkçe



**Gazneliler**

Resmî Dil: Arapça  
Edebiyat Dili: Farsça  
Bilim Dili: Arapça  
Saray ve orduda kullanılan dil: Türkçe



**Büyük Selçuklular**

Resmî Dil: Farsça  
Edebiyat Dili: Farsça  
Bilim Dili: Arapça

Yukarıdaki şemayı sınıf tahtasına yansıtan Eylül Hanım öğrencilerine, "Türk - İslam devletlerinde dilsel farklılığın oluşmasında etkili olan nedenler nelerdir?" sorusunu yöneltmiştir.

Öğrencileri Eylül Hanım'ın sorusuna şu yanıtları vermiştir:

**Akın:** Coğrafi çevre farklılıkları

**Nisa:** Kurulan bölgedeki etnik çeşitlilik

**Berkay:** Mezhepsel değişim

**Rana:** Yönetim şekillerinin benzerliği

**Buna göre öğrencilerden hangileri Eylül Hanım'ın sorusuna doğru yanıt vermiştir?**

- A) Akın - Nisa      B) Berkay - Rana      C) Nisa - Berkay  
D) Rana - Akın      E) Akın - Berkay

2. Aşağıdakilerden hangisi Malazgirt Savaşı'nın sonuçlarından biri değildir?

- A) Abbasi halifesi Alp Arslan'a Ebu'l Feth unvanını vermiştir.  
B) Anadolu'nun fetih süreci hızlanmıştır.  
C) Haçlı Seferleri'nin başlamasına neden olmuştur.  
D) Anadolu'da ilk Türk beylikleri kurulmuştur.  
E) Türkmen kitleleri Anadolu'da iskân edilmeye başlamıştır.

3.

### Tuğrul Bey'in Bağdat Seferi

**Bilgi I:** Abbasi halifesi Şii Büveyhoğulları ve onları destekleyen Fâtîmi Devleti'ne karşı Tuğrul Bey'den yardım istemiştir. 1055 yılında Bağdat Seferi'ni düzenleyen Tuğrul Bey, Şii Büveyhoğulları'nın varlığına son vermiştir. Fâtîmî Halifesi Mustansır'ın Abbasilere karşı yeniden saldırıya geçmesi üzerine Tuğrul Bey ikinci defa Bağdat Seferi'ni düzenlemiştir. Halifelik sarayında düzenlenen törende Abbasi Halifesi Kâim bi-Emrillah, Tuğrul Bey'e "Doğu'nun ve Batı'nın sultanı" unvanını vermiştir. Selçuklu hükümdarları bu olaydan sonra "Sultan-ı İslam" unvanını kullanmaya başlamıştır.

**Bilgi II:** Suriye Seferi'ne çıkan Melikşah Fâtîmileri baskı altına almıştır. Sefer dönüşünde Bağdat'a giden Sultan Melikşah halifeyi ziyaret etmiştir. Burada halife, Melikşah'ı doğunun ve batının hükümdarlığını simgeleyen iki kılıçla kuşatmıştır.

**Bu bilgilere göre Büyük Selçuklu Devleti ile ilgili aşağıdakilerden hangisi söylenemez?**

- A) İslam dünyasının siyasi liderliğini üstlenmişlerdir.  
B) Mezhep çatışmalarında taraf olmuşlardır.  
C) Gaza ve cihat anlayışına göre hareket etmişlerdir.  
D) İslam dünyasındaki etkinliklerini arttırmışlardır.  
E) Abbasi halifesini dış baskılara karşı korumuşlardır.

4. Özge Hanım, "Büyük Selçuklu Devleti'nde Ermenilere ait kilise, manastır ve rahiplerden alınan vergiler kaldırılarak onlara kendi dinlerini, geleneklerini, göreneklerini ve kültürlerini sürdürmelerine imkân tanınmıştır. Bu durum . . . . . kanıt olarak gösterilebilir?"

**Özge Hanım ifadesinde boş bırakılan yere aşağıdakilerden hangisi getirilirse anlatım yanlış olur?**

- A) azınlıkların millî benliklerini koruduklarına  
B) etnik farklılıklara saygı duyulduğuna  
C) hoşgörülü bir yönetim anlayışının benimsendiğine  
D) asimilasyon çalışmalarının hız kazandığına  
E) toplumsal barışın korunmaya çalışıldığına

5. Aşağıdaki görselde Ankara Savaşı'ndan önce Yıldırım Bayezid ve Timur'un düşünceleri verilmiştir.



Yıldırım Bayezid

Siyasi varlıklarına son verdiğimiz Türkmen beyleri (Germiyanoğulları, Mentешеoğulları ve Aydınoğulları) Timur'a sığındılar. Timur, bana bir mektup göndererek Osmanlı devletinin kendisine bağlanmasını, Anadolu beylerinden alınan yerlerin eski sahiplerine verilmesini ve Kara Yusuf ile Ahmet Celayir'in kendisine teslim edilmesini istiyor. Diğer yandan Timur, denetimimiz altında olan Sivas'a girerek şehri tahrip etti ve Ankara'yı da kuşattı.

Büyük bir cihan imparatorluğu kurmak istiyorum. Bu yüzden Çin'e düzenleyeceğim seferde arkamda güçlü bir devlet bırakmak istemiyorum. Diğer yandan bazı Türk beylikleri bana sığınarak yardım talep etmekte. Topraklarını ele geçirdiğim Bağdat Hükümdarı Ahmet Celayir ile Karakoyunlu Hükümdarı Kara Yusuf, Osmanlı'ya sığınmış durumdadır. Yıldırım'dan talep etmeme rağmen bu hükümdarları bana teslim etmek istemiyorum.



Timur

**Bu ifadelerden hareketle aşağıdakilerden hangisine ulaşılamaz?**

- A) Timur'un beyliklerden yana tavır aldığına  
B) Osmanlı topraklarının saldırıya maruz kaldığına  
C) Türk devletleri arasında çıkar çatışmalarının yaşandığına  
D) Timur'un Osmanlı Devleti'nin egemenlik haklarını zedeleyecek isteklerde bulunduğuna  
E) Yıldırım Bayezid'in Timur'a karşı bölgesel ittifak kurduğuna

6. **Tuğçe Hanım'ın "Osmanlı tarihinde meydana gelen savaşlardan hangisi Bizans İmparatorluğu'nun yıkılmasını geciktirmiştir?" sorusuna öğrencilerin aşağıdaki yanıtlardan hangisini vermesi beklenebilir?**

- A) Niğbolu  
B) II. Kosova  
C) Varna  
D) Ankara  
E) Palekanon

7.

I. Murat Dönemi		
Yıl	Gelişme	
BALKANLAR	1361	Bizans ve Bulgar krallığı ittifak orduları mağlup edilerek Edirne fethedildi.
	1364	Sırp sındığı Savaşı'nda Haçlı orduları mağlup edilerek Meriç Nehri kontrol altına alındı.
	1371	Çirmen Savaşı kazanılarak Makedonya kapıları açıldı.
ANADOLU	1389	I. Kosova Savaşı'nda haçlı orduları mağlup edilerek Kuzey Sırbistan yolu Osmanlılara açıldı.
	Germiyanoğullarından Kütahya, Tavşanlı, Simav ve Emet çeyiz yoluyla, Hamitoğullarından Isparta, Beyşehir, Akşehir, Yalvaç ise satın alma yoluyla Osmanlı ülkesine katıldı. Karamanoğulları yapılan savaşla mağlup edildi.	

**Bu bilgilere bakıldığında I. Murat ile ilgili aşağıdakilerden hangisine ulaşılamaz?**

- A) Devletin kurumsal bir kimlik kazanması için ilk adımı atmıştır.  
B) Anadolu Türk siyasi birliğini sağlamak için farklı politikalar takip etmiştir.  
C) Batı yönlü genişleme siyasetini benimsemiştir.  
D) Devletin Anadolu'daki etkinliğini arttırmıştır.  
E) Gaza ve cihat anlayışına göre hareket etmiştir.
8. Bizanslı tarihçi Pachymeres, "Osman Bey, bölgede Bizans topraklarına karşı akınlar yapan beyler arasında en atılgan ve ileri olanıdır." demişti.

**Buna göre Osman Bey Dönemi'nde meydana gelen;**

- I. Koyunhisar Savaşı'nın yapılması,  
II. Karacahisar'ın fethedilmesi,  
III. Bursa'nın kuşatılması

**gelişmelerinden hangilerinin bu ifadeye uygun olduğu söylenebilir?**

- A) Yalnız I  
B) Yalnız II  
C) I ve II  
D) II ve III  
E) I, II ve III

1. XV. ve XVI. yüzyılda Osmanlı Devleti fethettiği topraklardaki şehir, kasaba ve köyleri cami, mescit, han, hamam, köprü, çeşme, bedesten, darüşşifa ve imarethanelerle donatmış, çarşı ve pazar yerlerini geliştirmiş, yeni yollarla bu beldele-ri ticaret yollarına bağlamıştır.

**Buna göre Osmanlı Devleti'nin bu politikalarla aşağıda- kilerden hangisini amaçladığı söylenemez?**

- A) Günlük yaşamı kolaylaştırma  
B) Türk - İslam kültürünü yayma  
C) Yaşam kalitesini artırma  
D) Yerleşim yerlerini şenlendirme  
E) Batı kültürünü yakından takip etme

2.

	Padişah	Mahlas
1	Fatih Sultan Mehmet	a Adli
2	II. Bayezid	b Selimi
3	Yavuz Sultan Selim	c Muradi
4	Kanuni Sultan Süleyman	d Avni
5	II. Murad	e Muhibbi

Sınıf tahtasına yukarıdaki şemaları çizen Sıtkı Çelik Bey öğrencilerinden Osmanlı padişahlarının kullanmış oldukları mahlaslarla eşleştirmelerini istemiştir.

**Aşağıdaki öğrencilerden hangisinin yapmış olduğu eş- leştirme doğrudur?**

- A) 1 - b, 2 - a, 3 - d, 4 - e, 5 - c  
B) 1 - a, 2 - d, 3 - e, 4 - c, 5 - b  
C) 1 - e, 2 - b, 3 - c, 4 - d, 5 - a  
D) 1 - d, 2 - a, 3 - b, 4 - e, 5 - c  
E) 1 - e, 2 - b, 3 - a, 4 - c, 5 - d

3.



Yukarıdaki görselleri sınıftaki tahtaya yansıtan Eylül Ha- nım, öğrencilerinden minyatür sanatı ile ilgili değerlendirmelerde bulunmalarını istemiştir.

Öğrencilerin yapmış oldukları değerlendirmeler şu şekil- dedir:

**Aykut:** Meydana geldiği dönemin hayat tarzı hakkında ipu- cu vermiştir.

**Oya:** Tarihî olayların aktarılmasına yardımcı olmuştur.

**Burak:** Osmanlı el sanatları ile ilgili bilgileri barındırmıştır.

**Ceyhan:** Yazılı kültürün gelişmesine katkı sağlamıştır.

**Nusret:** İslamiyet'in kabulünden sonra Türk kültür hayatı- na girmiştir.

**Verilen bilgilere bakıldığında öğrencilerden hangisinin yanıtının yanlış olduğu söylenebilir?**

- A) Burak  
B) Nusret  
C) Oya  
D) Ceyhan  
E) Aykut

4. Osmanlı Devleti'nde Bursa'da üretilen kumaşlar Macaristan, Polonya, İtalya ve Balkan ülkelerinin pazarlarında satılmış- tır. Ayrıca Fransa Türk alı ve çini mavisi gibi renkleri öğren- mek için Osmanlı ülkesine heyetler göndermiştir.

**Buna göre aşağıdakilerden hangisi söylenemez?**

- A) Osmanlı Devleti'nde ithalata dayalı ekonomik bir yapı oluşmuştur.  
B) Bursa'da dokuma sanayi gelişmiştir.  
C) Türk malları Avrupa'da rağbet görmüştür.  
D) Osmanlılar kumaş boyama tekniğinde Fransızlara ör- nek olmuştur.  
E) Avrupa ile Osmanlı arasında ticari ilişki kurulmuştur.



6. Tarih Öğretmeni Zeki Bey öğrencisi Nedim'e Osmanlılar Dönemi'nde yazılan siyasetname tarzında hazırlanan bir eseri okuması için vermiştir.

**Buna göre Nedim'in okuyacağı eserde aşağıdaki konuların hangisiyle karşılaşması beklenebilir?**

- A) Padişahlarda bulunması gereken özellikler  
B) Yabancı hükümdarlara gönderilen mektuplar  
C) İkili teşkilat sisteminin yararları  
D) Saray eğlencelerinin yapıma sıklığı  
E) Lonca teşkilatının işleyişi

7. Ozan, "XVI. yüzyıldan itibaren Osmanlı padişahları Müslümanların halifesi olsa da dinî konularda fetva verme görevini . . . . . aracılığı ile kullanmışlardır." demiştir.

**Ozan'ın ifadesinde boş bırakılan yere aşağıdakilerden hangisi getirilirse anlatım doğru olur?**

- A) Veziriazam  
B) Kadı  
C) Şeyhülislam  
D) Nişancı  
E) Defterdar

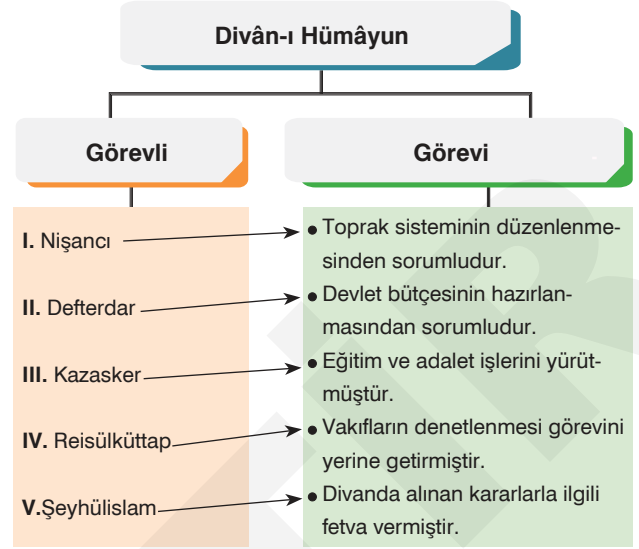
8. Divân-ı Hümâyun'da alınan kararların padişahın onayından sonra mühimme defterine kaydedilerek kanun hâline getirildiğinden bahseden Ozan Bey sınıf tahtasına mühimme defterlerinde yer alan bazı konuları şu şekilde yazmıştır:

- I. Askerî durum  
II. İskân politikası  
III. Diplomatik ilişki  
IV. Harem kuralları  
V. Vergi oranları

**Buna göre Ozan Bey'in yazdığı maddelerde kaç numaralı alana itiraz eden bir öğrencinin konuyu yeterli düzeyde kavradığı kabul edilebilir?**

- A) I B) II C) III D) IV E) V

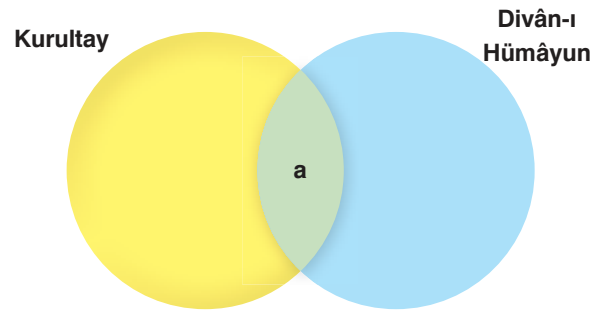
- 9.



**Buna göre tabloda kaç numaralı alanda yanlışlık yapılmıştır?**

- A) I B) II C) III D) IV E) V

- 10.



Sınıf tahtasına yukarıdaki şemayı çizen Aslıhan Hanım öğrencilerine Orta Asya Türk devletlerinde görülen kurultay ile Osmanlı Devleti'ndeki Divân-ı Hümâyun'un ortak özelliklerini harfle gösterilen yere yazmalarını istemiştir.

**Aşağıdaki öğrencilerden hangisinin vermiş olduğu yanıt yanlıştır?**

- A) **Ayhan:** Hükümdar eşlerinin temsil hakkının olması  
B) **Nil:** İç ve dış meselelerin görüşülmesi  
C) **Yunus:** Büyük davaların karara bağlanması  
D) **Oya:** Danışma organı olarak görev yapması  
E) **Erhan:** Yasama görevini yürütmesi

1.

Tabii ki, Avrupa'da bilim, sanat ve edebiyat alanlarında yeni bir dünya görüşünün ortaya çıkması, özgür düşüncenin temellerinin atılması, deney ve gözleme dayanan pozitif düşüncenin gelişmesi, din temelli düşünceye baş kaldırılması bu duruma kanıt olarak gösterilebilir.



**Öğretmenin aşağıdaki sorulardan hangisini yanıtlarken bu ifadeyi kullanması beklenebilir?**

- A) Rönesans hareketi ile skolastik düşünce terk mi edildi?
- B) Reform hareketi Avrupa'da Katolik Kilisesi'ne karşı alternatif bir dinî görüşü mü ortaya çıkardı?
- C) Coğrafi Keşiflerle Avrupa'nın dinî ve fikri yapısı yeniden mi şekillendi?
- D) Doğu dünyası bilim devrimi ile Batı dünyasını etkilemiş midir?
- E) Westphalia Antlaşmasıyla Avrupa'da kültürel hayat canlanmış mıdır?

2. Thomas Moore Ütopya adlı eserinde; hiç kimsenin toprak sahibi olmadığı herkesin işçi olduğu ve üretilen malların para karşılığı olmadan herkesin gereksinimine göre dağıtıldığı bir toplumsal düzenden söz etmiştir.

**Bu bilgiden hareketle Thomas Moore'un;**

- I. özel mülkiyet,
- II. sınıflı toplum yapısı,
- III. kolektif üretim

**unsurlarından hangilerine karşı olduğu savunulabilir?**

- A) Yalnız I
- B) I ve II
- C) I ve III
- D) II ve III
- E) I, II ve III

3. "Reform hareketi sonucunda Avrupa'da mezhep birliği bozulmuştur." ifadesini kullanan bir tarihçi aşağıdaki mezheplerden hangisini görüşüne kanıt olarak gösteremez?

- A) Protestanlık
- B) Kalvenizm
- C) Katolik
- D) Presbiteryenlik
- E) Anglikanizm

4. İnsan aklını küçümseyen, sorgulamayı ve bağımsız araştırmayı yasaklayan skolastik düşünceyi reddeden hümanistler, Eski Yunan ve Roma filozoflarının eserlerinden etkilenerek insanın akıl ve enerjisiyle büyük işler başarabilen güçlü bir varlık olduğunu savunmuşlardır.

**Hümanistlerin bu görüşlerinin aşağıdakilerden hangisine ortam hazırladığı savunulabilir?**

- A) Pozitif bilimlerin gerilemesine
- B) Kişi hak ve özgürlüklerin önemini yitirmesine
- C) Sekülerizmin değer kaybetmesine
- D) Dinin toplum üzerindeki baskısının azalmasına
- E) Kilise merkezli düşünce yapısının yaygınlaşmasına

5. Coğrafi Keşifler sonucunda ortaya çıkan mesen sınıfının etkisiyle Rönesans'ın ve Martin Luther gibi reformist ilahiyatçıların önderliğinde Reform hareketlerinin başarıya ulaşması sonucunda yaşanan gelişmeler; Avrupa'da XVII. yüzyılın akıl, XVIII. yüzyılın ise aydınlanma çağı olarak adlandırılmasına neden olmuştur. Bu dönemde bilimsel çalışmaların hızlanması ve hümanist yazarların eserlerinin matbaa sayesinde Avrupa'ya yayılması var olan güç dengelerinin değişmesini sağlamıştır.

**Bu durumun Avrupa'da;**

- I. dünya görüşünün değişmesi,
- II. kişisel yaratıcılığın gelişmesi,
- III. özgürlükçü düşüncenin önem kazanması

**sonuçlarından hangilerine ortam hazırladığı savunulabilir?**

- A) Yalnız I
- B) I ve II
- C) I ve III
- D) II ve III
- E) I, II ve III

6. I. Yerçekimi kanunu üzerine çalışma yaparken yüksek matematiğin temeli olan kalkülüs formülünü bulan kişi
- II. Evrenin güneş merkezli olduğunu ve dünyanın döndüğünü bilimsel temellere oturtan Polonyalı bilim insanı
- III. Amaca ulaşmak için devletlerin her türlü hukuk dışı kurallara başvurması gerektiğini savunan İtalyan siyaset adamı
- IV. Yurttaşlığı eşit vatandaş durumunda olan herkesin hakkı olarak gören Alman filozof
- V. Toplum Sözleşmesi adlı eserinde devleti egemen güç olarak kabul edip güçler ayrılığı ilkesine karşı çıkan düşünce insanı

Yukarıdaki bilgileri sınıf tahtasına yazan Sıtkı Bey, öğrencisi Yasemin'den numaralandırılmış alanlara hangi ilim insanlarının getirilmesi gerektiğini sormuştur.

Sıtkı Bey'in sorusuna Yasemin şu yanıtları vermiştir:

- I. : Newton      II. : Kopernik      III. : Machiavelli  
IV. : T. Moore      V. : J. J. Rousseau

Buna göre, Yasemin kaç numaralı alanda yanlışlık yapmıştır?

- A) I      B) II      C) III      D) IV      E) V

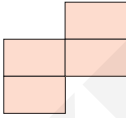
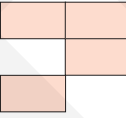
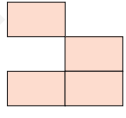
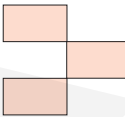
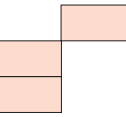
7. Bir tarihinin, "Ülkelerin zenginlik kaynağını toprak yerine altın ve gümüş gibi değerli madenlere bağlayan, ihracatın artırılıp ithalatın azaltılması gerektiğini savunan ekonomik politika" şeklinde tarif ettiği doktrin aşağıdakilerden hangisidir?

- A) Merkantilizm  
B) Sosyalizm  
C) İaşecilik  
D) Komünizm  
E) Fiskalizm

8.

Sekülerizm	
Dinî olanın karşıtı anlamına gelmektedir.	Protestan ülkelerde ortaya çıkmıştır.
Ülkelerin zenginliğini değerli madenlere dayandırmıştır.	Dinin bir vicdan meselesi hâline getirilmesini savunmuştur.
İnsan aklının dinî bağlardan ayrılmasını benimsemiştir.	Rasyonalizme tepki olarak ortaya çıkmıştır.

Sekülerizm ile ilgili hazırlanan tabloda yanlış bilgiler çikartıldığında tablonun alacağı yeni şekil aşağıdakilerden hangisi olur?

- A) 
- B) 
- C) 
- D) 
- E) 

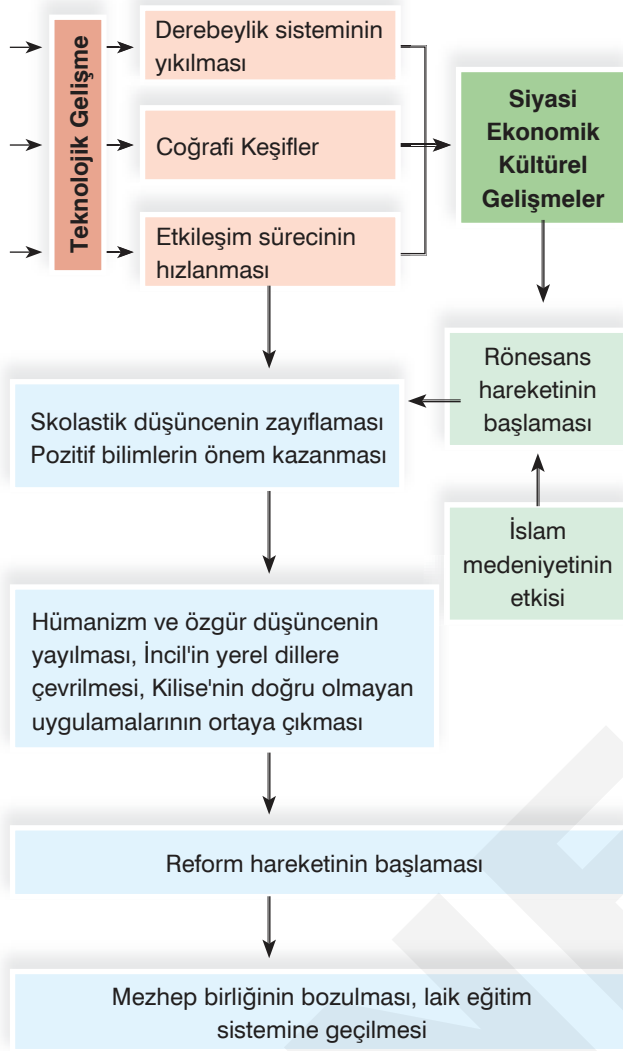
9. Ender Bey, "Ateşli silahların gelişmesiyle birlikte askerî devrim olarak adlandırılan yeni bir süreç ortaya çıkmıştır. Piyade sınıflarının önem kazandığı bu süreçte Avrupalı devletler şu sorunlarla karşılaşmışlardır:

- I. Orduların beslenmesi ve sağlıklı bir şekilde cepheye intikal ettirilmesi,  
II. Orduların finanse edilmesi"

Avrupalı devletler Ender Bey'in bahsettiği bu sorunları aşağıdakilerden hangileri ile gidermiştir?

	I.	II.
A)	Lojistik düzenin tesisi	Sömürgecilik faaliyetleri
B)	Ortak para birimine geçilmesi	Zorunlu askerlik sisteminin uygulanması
C)	Sömürgecilik faaliyetleri	Ortak para birimine geçilmesi
D)	Zorunlu askerlik sisteminin uygulanması	Lojistik düzenin tesisi
E)	Garnizonların kurulması	Ortak para birimine geçilmesi

1.



Bu diyagrama göre,

- I. Reform hareketi Avrupa'da mezhepsel çeşitliliği arttırmıştır.
- II. Rönesans'ın ortaya çıkmasına İslam medeniyeti de katkı sağlamıştır.
- III. Avrupa'nın düşünce ve eğitim yapısı değişmiştir.
- IV. Doğu ve Batı kültürleri arasında etkileşim yaşanmıştır.
- V. Rönesans ve Reform hareketleri ile dogmatik düşünceler Avrupa kıtasını etkilemiştir.

yargılarından hangisine ulaşamaz?

- A) I      B) II      C) III      D) IV      E) V

2.

İsa Bey, "Osmanlı Devleti'nde savaş teknolojisinde yaşanan gelişim, ateşli silahlarla donatılmış ve maaş alan piyade ordularının önemini arttırmıştır. Bu birliklerin maaş ve diğer giderlerinin karşılanması devletin para haricindeki mal ve ürün vergilerinin nakit alınması ve bu nakitlerin merkezî hazineye aktarılması mecburiyetini ortaya çıkarmıştır." demiştir.

İsa Bey'in bahsettiği bu mecburiyet aşağıdaki sistemlerden hangisini ortaya çıkarmıştır?

- A) Tımar      B) İskân      C) Esham  
D) İltizam      E) İstimalet

3.

Anıl, "Merkantilizmin etkisiyle önemli miktarda değerli maden birikimine sahip olan Avrupalı devletler sömürgelerinden gelen değeri düşük altın ve gümüşün Osmanlı ülkesine girmesini sağlamışlardır." demiştir.

Şeyma ise bu durumun Osmanlı Devleti'nde;

- I. akçenin değer kaybetmesi,
- II. enflasyonun oluşması,
- III. tağşiş uygulamasının kaldırılması

sonuçlarına ortam hazırladığını belirtmiştir.

Şeyma yukarıdakilerden hangilerini söyleseydi Anıl'a doğru bilgi vermiş olurdu?

- A) Yalnız I      B) Yalnız II      C) I ve II  
D) I ve III      E) II ve III

4.

XVII. yüzyılda ateşli silahların kullanımının yaygınlaşması Osmanlı Devleti'nde tımarlı sipahilerin önemini azaltmıştır. Bu durumu gidermek isteyen Osmanlı Devleti tüfek kullanan Yeniçeri sayısını arttırmış, sekban, saruca ve levent gibi ücretli askerleri ordu bünyesine dahil etmiştir.

Bu düzenlemelerin;

- I. Avrupa ordularına karşı ateş gücünü dengeleme,
- II. fetihlere dayalı büyüme politikasını devam ettirme,
- III. ateşli silah kullanan eğitilmiş asker sayısını artırma

amaçlarından hangilerine yönelik olduğu savunulabilir?

- A) Yalnız I      B) Yalnız II      C) Yalnız III  
D) I ve II      E) I ve III

1. Başarısız olan 1820 Eflak İsyanı'ndan bir yıl sonra Mora'da çıkan isyanı bastıramayan Osmanlı Devleti, Mısır valisi Mehmet Ali Paşa'dan yardım istemiştir. Mehmet Ali Paşa Mora ve Girit valiliklerinin kendisine bırakılması şartıyla destek vermiş, isyan kısa sürede bastırılmıştır. İngiltere, Rusya ve Fransa'nın Yunanistan'a özerklik verilmesi talebinin Osmanlı yönetimince reddedilmesi üzerine bu devletler 1827 yılında Navarin'de Osmanlı ile Mısır donanmalarını imha etmiştir. Osmanlı Devleti'nin, Navarin'de uğradığı zararın karşılanması isteği üzerine çıkan 1828 - 1829 Osmanlı - Rus harbi sonunda imzalanan Edirne Antlaşması'yla Yunanistan bağımsız hâle gelmiştir.

**Bu bilgiye göre aşağıdakilerden hangisine ulaşamaz?**

- A) Mora İsyanı'nın uluslararası bir soruna dönüştüğüne  
B) Avrupalı devletlerin Mora İsyanı'na müdahil olduğuna  
C) Osmanlı Devleti'nin uluslararası saygınlığının zedelenmesine  
D) Balkanlarda bağımsız devlet sayısının arttığına  
E) Osmanlı Devleti'nin imparatorluk özelliğini kaybettiğine

2.

Grek Projesi	
Taraflar	Avusturya - Rusya
Gelişme	Rus Çariçesi II. Katerine ve Avusturya İmparatoru Joseph arasında 1780'de imzalanan antlaşmaya göre İstanbul, Trakya, Makedonya, Kuzey Yunanistan ve Bulgaristan'ı içine alan Bizans İmparatorluğu yeniden kurulacak ve Bosna-Hersek ile Sırbistan başta olmak üzere Balkanlarda birçok bölge Avusturya'ya verilecektir.
Sonuç	Avusturya İmparatoru Joseph'in ölmesi üzerine proje uygulanamamıştır.

**Bu bilgiye göre,**

- I. Osmanlı Devleti'nin siyasi varlığının sona erdirilmesi amaçlanmıştır.  
II. Balkan coğrafyasının geleceği şekillendirilmek istenmiştir.  
III. Ortodoks ve Katolik devletler Osmanlı Devleti'ne karşı ittifak kurmuştur.

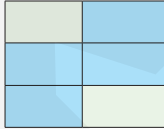
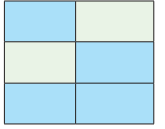
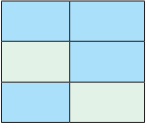
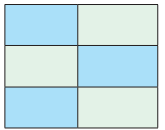
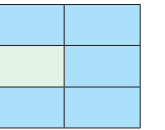
**yargılarından hangilerine ulaşılabilir?**

- A) Yalnız I  
B) I ve II  
C) I ve III  
D) II ve III  
E) I, II ve III

3.

Şark Meselesi	
Viyana Kongresi'nde Rusya tarafından ortaya atılmıştır.	Osmanlı Devleti'nin ortadan kaldırılması ve topraklarının paylaşılması meselesidir.
En büyük savunucusu İngiltere'dir.	Avrupalı devletler Sevr Antlaşması ile asıl amaçlarına ulaşmaya çalışmışlardır.
Balkan uluslarının bağımsızlıklarını ilan etmesi ve Orta Doğu'da mandater devletlerin kurulması Şark Meselesi'nin kısmen başarıya ulaştığını göstermektedir.	Birinci aşamada taarruz durumunda olan Avrupalılar ikinci aşamada savunmaya geçmiştir.

**Şark Meselesi ile ilgili verilen doğru bilgiler maviye boyanırsa aşağıdaki şekillerden hangisi ortaya çıkar?**

- A)  B)  C)   
D)  E) 

4. **Rıza Bey'in,**"Avrupalı Devletler hangi konuları bahane ederek Osmanlı Devleti'nin iç işlerine müdahalelerde bulunmuşlardır." **sorusuna öğrencilerin aşağıdaki yanıtlardan hangisini vermesi beklenemez?**

- A) 31 Mart Vakası  
B) Kapitülasyonlar  
C) Azınlıklar  
D) Kutsal yerler  
E) Boğazlar

5. Aylin okuduğu bir kitapta şu ifadelere rastlamıştır. "Prens Mençikof'un Kutsal yerler konusunda Osmanlı Devleti'ni baskı altına almaya çalışması, boğazlarla ilgili içeriği gizli bir antlaşmayı imzalatmak istemesi ve Ortodoksların himayesinin bir senetle kendilerine verilmesi taleplerinin reddedilmesi üzerine Rusya'nın Eflak ve Boğdan'a saldırmasıyla Kırım Savaşı başlamıştır. Sinop Baskını ile Rusya'nın Karadeniz'deki gücünü ortaya koyması, İstanbul ve boğazların tehlikeye girmesi üzerine İngiltere ve Fransa Rusya'ya savaş ilan etmiştir. Müttefik orduların Sivastopol'u ele geçirmesi ve Çar I. Nikola'nın ölümünden sonra başa geçen II. Aleksander'in barış isteği ile Kırım Savaşı sona ermiştir."

**Buna göre Aylin okuduğu bu ifadelerde;**

- I. Kırım Savaşı'nın uluslararası bir meseleye dönüştüğü,
- II. Osmanlı Devleti'nin Karadeniz'deki etkinliğini arttırdığı,
- III. Osmanlı Devleti'nin topraklarını tek başına koruyacak güçten yoksun olduğu,
- IV. güçler dengesinin Rusya lehine değişmesine izin verilmediği,
- V. Rusya'nın Kırım Savaşı'nda mağlubiyetle ayrıldığı

**bilgilerinden hangisini öğrenmemiştir?**

- A) I      B) II      C) III      D) IV      E) V

6. I. Dünya Savaşı öncesinde Osmanlı Devleti'nin ittifak tekliflerine Avrupalı devletlerin genel yaklaşımı şu şekilde olmuştur:

**İngiltere:** Rusya ve Fransa'nın tavrının önemli olduğunu dile getirmiştir.

**Fransa:** İttifak konusunda tek başına bir şey yapamayacağına belirterek konuyu müttefikleriyle müzakere etmiştir.

**Almanya:** Balkanlarda Rusya'ya karşı Avusturya'nın desteklenmesi amacıyla Osmanlı Devleti'nin önemli bir müttefik olacağı tezini savunmuştur.

**Bu bilgiye göre,**

- I. İngiltere ve Fransa diplomatik dille ittifakları reddetmişlerdir.
- II. Almanya, Rusya'ya karşı Osmanlı Devleti'ni kullanmayı hedeflerine uygun bulmuştur.
- III. Osmanlı Devleti yalnızlık politikasına dönmüştür.

**yargılarından hangilerine ulaşılabilir?**

- A) Yalnız I      B) I ve II      C) I ve III  
D) II ve III      E) I, II ve III

7. Aşağıdaki şemada Balkan devletlerinin Osmanlı Devleti'nden ayrılma süreçleri verilmiştir.

**Yunanistan**

1829 Edirne Antlaşması ile Osmanlı Devleti'nden ayrılarak bağımsızlığını ilan etmiştir.

**Romanya, Sırbistan, Karadağ**

1878 Berlin Antlaşması ile bağımsızlıklarına kavuşmuşlardır.

**Bulgaristan**

II. Meşrutiyet'in ilanı sırasında yaşanan karışıklıklar sırasında bağımsızlığını ilan etmiştir.

**Buna göre Osmanlı Devleti ile ilgili aşağıdakilerden hangisine ulaşamaz?**

- A) Balkanlardaki hâkim güç olma özelliğini zamanla kaybettiğine
- B) Yayılımcı bir dış siyaset anlayışını benimsediğine
- C) Çok uluslu toplumsal yapısında çözümlerin yaşandığına
- D) Ülke bütünlüğünü koruyamadığına
- E) İç işlerine yapılan müdahaleleri engelleyemediğine

8. Aşağıdakilerden hangisi Osmanlı Devleti'nin Balkan Savaşları'nda kaybettiği yerler arasında gösterilemez?

- A) Ege Adaları
- B) Makedonya
- C) Batı Trakya
- D) Bosna - Hersek
- E) Arnavutluk

5. Trablusgarp Savaşı sırasında İtalyanlar Çanakkale'yi abluka altına alıp On İki Ada ve Rodos'u işgal etmiştir.

**İtalya'nın bu tutumu aşağıdaki gerekçelerden hangisi ile açıklanabilir?**

- A) Osmanlı Devleti'ne denizden yardım gelmesini engelleme  
B) Adalardaki azınlıkların isyan etmesini kolaylaştırma  
C) Batı Anadolu'da yapacağı işgaller için uygun zemin oluşturma  
D) Osmanlı Devleti'ni barışa zorlama  
E) Osmanlı toprak bütünlüğünü savunan İngiltere'nin sömürgeleri ile bağlantısını kesme

6. İtalya; Trablusgarp'ta Enver Paşa, Mustafa Kemal ve arkadaşlarının örgütlediği yerli halkın direnişiyle karşılaşınca Ege Denizi'ndeki adalara asker çıkarıp Rodos ve On İki Ada'yı işgal etmiştir. Bu sırada Osmanlı Devleti'ne karşı Balkan ittifakı kurulmuş ve Balkan Savaşları başlamıştır.

**Buna göre,**

- I. Osmanlı toprakları işgal edilmek istenmiştir.  
II. Balkan Devletleri, Osmanlı Devleti'nin zor durumunu fırsat olarak değerlendirmiştir.  
III. Balkan devletleri ve İtalya Osmanlı Devleti'ne karşı askerî ittifak kurmuştur.

**yargılarından hangilerine ulaşılabilir?**

- A) Yalnız I  
B) Yalnız II  
C) I ve II  
D) I ve III  
E) II ve III

7. **Zeynep**, "Mustafa Kemal'in en önemli eseri olan Nutuk'ta 1919 - 1927 yılları arasındaki olaylar anlatılmıştır." demiştir.

**Özge**, "Nutuk'ta hem Millî Mücadele Dönemi hem de cumhuriyetin ilk yıllarına ait bilgiler verilmiştir."

**Buna göre Özge aşağıdakilerden hangisini söylerse konuyla ilgili Zeynep'e yanlış bir bilgi vermiş olur?**

- A) Çanakkale Savaşları  
B) Lozan Konferansı  
C) Saltanat'ın Kaldırılması  
D) Takrir-i Sükûn Kanunu  
E) TBMM'nin açılması

8. Öğretmeni Vedat'a "I. Dünya Savaşı'nın Özel Nedenleri" konusunu ödev olarak vermiştir. Vedat hazırlamış olduğu ödevde bu nedenlerden beş tanesini yazmış ancak öğretmeni bunlardan birinin yanlış olduğunu belirtmiştir.

**Öğretmenin Vedat'ın ödevinde yanlış olduğunu belirttiği neden aşağıdakilerden hangisidir?**

- A) Fransa'nın Sedan Savaşı ile kaybettiği Alsas - Loren'i Almanya'dan geri almak istemesi  
B) Asya ve Büyük Okyanus'a yayılmak isteyen Çin'in gözüne Alman sömürgelerine dikmesi  
C) İtalya'nın Akdeniz ve çevresini alarak Roma İmparatorluğu dönemindeki ihtişama kavuşmak istemesi  
D) Almanya ile İngiltere arasında ekonomik rekabetin yaşanması  
E) Avusturya - Macaristan İmparatorluğu ile Sırbistan arasında yaşanan gerginliğe Rusya'nın müdahil olması

9. **Öğretmenin**; "I. Dünya Savaşı'nın genel nedenleri nelerdir?" sorusuna,

**Öğrenci**;

1. milliyetçilik akımı,
  2. ham madde ve pazar arayışı,
  3. panslavizm politikası,
  4. sömürgecilik yarışı,
  5. devletler arası bloklaşma
- yanıtlarını vermiştir.

**Buna göre öğrenci kaç numaralı alanda yanlışlık yapmıştır?**

- A) 1  
B) 2  
C) 3  
D) 4  
E) 5

1. Tarih dersinde, "I. Dünya Savaşı'ndan önce Osmanlı Maliye Nazırı Cavit Bey, İngiltere Bahriye Nazırı Winston Churchill'e Ekim 1911'de gönderdiği mektupta ittifak teşebbüsünde bulunmuş ancak Churchill "Şimdilik yeni siyasi bağlar altında giremeyiz." diyerek ittifak teklifini reddetmiştir. 1 Haziran 1913'te Londra Büyükelçisi Tevfik Paşa tarafından resmî olarak ittifak teklifi yapılmışsa da bu istek de İtilaf Devletlerince reddedilmiştir. 1914 yılında Cemal Paşa, Fransa Dışişleri Bakanı'na ittifak başvurusuna Fransız hükümeti; Rusya razı olmadıkça böyle bir ittifakın mümkün olamayacağı belirtilerek teklifi reddetmiştir." bilgisini veren Sanem Öğretmen, öğrencilerine "İtilaf Devletlerinin Osmanlı Devleti ile ittifak yapmak istememesinde etkili olan nedenler nelerdir?" sorusunu yöneltmiştir.

**Aşağıdaki öğrencilerden hangisinin vermiş olduğu yanıt yanlıştır?**

- A) **Kadir:** Osmanlı toprakları üzerinde tarihî emellerinin olması  
B) **Ulviye:** Osmanlı Devleti'nin ittifak konusunda kararlı bir tutum sergilemekten uzak görünmesi  
C) **Tamer:** İngiltere ve Fransa'nın Rusya müttefikliğini kaybetmek istememesi  
D) **Ayşe:** Osmanlı Devleti'nin siyasi, ekonomik ve askerî açıdan zayıf olması  
E) **İsmail:** İttihat ve Terakki yöneticilerine güvenilmemesi

2. I. Dünya Savaşı'nda Almanya'nın Osmanlı Devleti'ni kendi yanına çekmek istemesinin nedenlerini sıralayan Öykü Hanım şu ifadeleri kullanmıştır: "Yeni cepheler açarak üzerindeki baskıyı azaltmak isteyen Almanya, bir yandan İtilaf sömürgelerindeki Müslümanları harekete geçirmek için Osmanlı Devleti vasıtasıyla boğazları kapatarak Rusya'nın denizden dünya ile bağlantısını kesmeyi amaçlamıştır. Berlin - Bağdat demir yolu hattını kullanarak Musul ve Kerkük petrollerine ulaşmak isteyen Almanya ayrıca kendi teknolojisini Osmanlı insan gücüyle birleştirerek savaşı kazanmayı hedeflemiştir."

**Buna göre Öykü Hanım'ın aşağıdaki nedenlerin hangisinden bahsettiği söylenemez?**

- A) Kültürel  
B) Jeopolitik konum  
C) Demografik güç  
D) Dinî  
E) Askerî

3. **Nazım Bey'in,** "Osmanlı Devleti'nin I. Dünya Savaşı'nda Üçlü Bağlaşma (İttifak) devletleri yanında savaşa girmesinde etkili olan nedenler nelerdir?" **sorusuna öğrencilerin aşağıdaki yanıtlardan hangisini vermesi beklenemez?**

- A) Son zamanlarda kaybedilen toprakların geri alınmak istenmesi  
B) Anlaşma devletlerinin Osmanlı topraklarına saldırması  
C) Kapitülasyonlardan kurtulmak istenmesi  
D) Almanya'nın savaşı kazanacağına inanılması  
E) Siyasi yalnızlıktan kurtulmaya çalışılması

4. I. Dünya Savaşı'nda Rusya'da gerçekleşen Bolşevik İhtilali sonucunda Çarlık Rusya yıkılmıştır. Yeni kurulan komünist yönetim ülke içindeki çalkantılı durumdan dolayı 3 Mart 1918'de imzalandığı Brest Litovsk Antlaşması'yla savaştan çekilmiştir.

**Bu durumun;**

- I. Osmanlı Devleti'nin savaştığı cephe sayısının azalması,  
II. Berlin Antlaşması ile kaybedilen Elviye-i Selase'nin geri alınması,  
III. Rusya'nın Kafkaslardan çekilmesi

**sonuçlarından hangilerine zemin hazırladığı savunulabilir?**

- A) Yalnız I  
B) I ve II  
C) I ve III  
D) II ve III  
E) I, II ve III

5. **1914 - 1918 yılları arasında İttifak Devletlerinin yanında Birinci Dünya Savaşı'na katılan Osmanlı Devleti ile ilgili aşağıdakilerden hangisi söylenemez?**

- A) Osmanlı ordusunda Alman subaylara da görev verilmiştir.  
B) Kutül Amare'de bir İngiliz birliği esir alınmıştır.  
C) Duyun-ı Umumiye'nin faaliyetlerini askıya alan Osmanlı Devleti kapitülasyonları tek taraflı olarak feshetmiştir.  
D) VI. Mehmet Vahdettin'in 14 Kasım 1914'te Fatih Camii'nde Cihat-ı Ekber ilan etmesiyle savaşa girilmiştir.  
E) Çanakkale Cephesi'nde İtilaf donanması ve kara ordusu mağlup edilmiştir.



6. 2 Kasım 1915'te General Bergman komutasındaki Rus birliklerinin Doğubayazıt ve Diyardin'i ele geçirmesi üzerine Enver Paşa komutasındaki Osmanlı ordusu Sarıkamış Harekâtını başlatmıştır. Aşırı soğuklar, teknik ve askerî yetersizlikler ile kışlık kıyafet taşıyan Alman gemilerinin Rus donanması tarafından imha edilmesi çok sayıda Türk askerinin soğuktan donarak şehit olmasına neden olmuştur. Enver Paşa'nın "Gittik, gördük, saldırdık, geri döndük." şeklinde özetlediği bu harekâttan sonra Erzurum, Bitlis, Muş, Erzincan, Van ve Trabzon, Rus ordularınca işgal edilmiştir.

**Buna göre Osmanlı ordusunun başarısız olmasında;**

- I. mevsimin taarruz için uygun olmaması,
- II. lojistik desteğin sağlanamaması,
- III. doğa olaylarının olumsuz etkilemesi

**durumlarından hangilerinin belirleyici olduğu savunulabilir?**

- A) Yalnız I                      B) Yalnız II                      C) I ve II  
D) II ve III                      E) I, II ve III

7. Birinci Dünya Savaşı'nda Osmanlı padişahının halife unvanıyla yayımladığı cihat fermanına rağmen başta Mekke emiri Şerif Hüseyin başta olmak üzere pek çok Arap aşireti Arap Devleti kurulacağı vaadiyle İngilizlerle iş birliğine giderek Türk askerlerine karşı savaşmışlardır.

**Bu durum aşağıdakilerden hangisinin göstergesidir?**

- A) Milliyetçilik akımının Araplar üzerinde etkili olduğunun  
B) Türk ordusunun birden fazla taarruz cephesinde savaştığının  
C) Arap kabilelerinin dinden uzaklaştığının  
D) Halifelik kurumunun dinî bir makam hâline geldiğinin  
E) Bağımsız devlet anlayışından tavizlerin verildiğinin

8. Tuğçe hazırlamış olduğu ödevinde Nusrat Mayın Gemisi'nden, Seyit Onbaşı'dan 15. Alaydan ve Anafartalar Kahramanı Mustafa Kemal'den bahsetmiştir.

**Buna göre Tuğçe'nin hazırlamış olduğu ödev aşağıdakilerden hangisi ile ilgilidir?**

- A) Brest Litovsk Antlaşması  
B) Kanal Cephesi  
C) Wilson İlkeleri  
D) Çanakkale Cephesi  
E) Mondros Ateşkes Antlaşması

9. Tarih dersinde, "Birinci Dünya Savaşı'nda 1915-1917 yılları arasında Osmanlı topraklarının savaş sonunda paylaşılmasına yönelik gizli antlaşmalar imzalanmıştır." bilgisini veren Nehir Hanım, öğrencilerine bu gizli antlaşmalarda yer alan devletlerin adlarını sormuştur.

**Aşağıdaki öğrencilerden hangisinin vermiş olduğu yanıt yanlıştır?**

- A) **Kamil:** İtalya  
B) **Cemre:** Fransa  
C) **Mesut:** Yunanistan  
D) **Tuğba:** İngiltere  
E) **Erhan:** Rusya

10. **Osmanlı Devleti ile İtilaf Devletleri arasında 30 Ekim 1918 yılında imzalanan Mondros Ateşkes Antlaşması'nın;**

- İtilaf Devletleri güvenliklerini tehdit edecek bir durum ortaya çıkması hâlinde herhangi bir stratejik yeri işgal etme hakkına sahip olacak,
- Vilayet-i Sitte'de herhangi bir karışıklık çıkarsa, İtilaf Devletleri buraları işgal edebilecek,
- Toros tünelleri ve tüm demir yolu ağları İtilaf Devletleri'nin denetimine bırakılacak,
- Hükümet haberleşmesi dışındaki tüm telsiz, telgraf ve kabloların denetimi İtilaf Devletlerine geçecektir.

**maddeleri dikkate alındığında aşağıdakilerden hangisine ulaşamaz?**

- A) İtilaf Devletlerinin Anadolu'da yapacakları işgalleri hukuki bir zemine oturtmaya çalıştığına  
B) Doğu Anadolu Bölgesi'nde bir Ermeni Devleti'nin kurulmak istendiğine  
C) İtilaf Devletlerinin olası bir direnişe karşı bölgeler arasındaki bağlantıyı kesmeye çalıştığına  
D) Yapılacak işgallerden dünya kamuoyunun habersiz bırakılmak istendiğine  
E) ABD'nin savaşa girmesi için uygun ortamın oluştuğuna

1. "İngiltere, Fransa, Rusya ve İtalya arasında Osmanlı topraklarının paylaşımı için imzalanan gizli antlaşmalarda bir takım değişiklikler yaşanmıştır." ifadesini kullanan bir tarihi;

- I. Rusya'nın savaştan çekilmesi,
- II. İzmir'in İtalya yerine Yunanistan'a verilmesi,
- III. ABD'nin Monro Doktrini'ne dönmesi

**bilgilerinden hangilerini görüşüne örnek olarak gösterebilir?**

- A) Yalnız I                      B) I ve II                      C) I ve III  
D) II ve III                      E) I, II ve III

2. Wilson İlkeleri'nde, "Türklerin çoğunlukta olduğu yerlerde egemenlik hakkı Türklere tanınmalı fakat Türk olmayan halklara da kendilerini yönetme hakkı verilmelidir." maddesi yer almıştır.

**Bu madde aşağıdakilerden hangisine kanıt olarak gösterilebilir?**

- A) Osmanlı Devleti'nin milliyet prensibine göre parçalanmak istendiğine
- B) Açıklık ve şeffaflığı esas alan diplomatik faaliyetlerin sürdürüldüğüne
- C) Mandater devletlerin kurulması gerektiğine
- D) Savaşların uluslararası meseleleri çözen bir araç olmaktan çıkartıldığına
- E) Azınlıkların Türk vatandaşlığına geçirilmesinin zorunluluğuna

3. **Aşağıdaki cephe - sonuç eşleştirmelerinden hangisi yanlıştır?**

- A) **Çanakkale** → I. Dünya Savaşı'nın süresi en az iki yıl uzamıştır.
- B) **Kanal** → Kudüs ve Sina Yarımadası İngilizlerin eline geçmiştir.
- C) **Kafkas** → Berlin Antlaşması ile kaybedilen Kars, Ardahan ve Batum geri alınmıştır.
- D) **Hicaz** → Ümmetçilik anlayışı sona ermiştir.
- E) **Irak** → Mustafa Kemal'in komuta ettiği birlikler İngilizlerle Halep'in kuzeyinde durdurmuştur.

4. Tarih Öğretmeni sınıf tahtasına Osmanlı tarihinde meydana gelen bazı gelişmeleri gelişigüzel yazmıştır.

- I. Edirne ve Tekirdağ'ın geri alınması
- II. Bab-ı Âli Baskını'nın gerçekleşmesi
- III. I. Balkan Savaşı'nın çıkması
- IV. İttihat ve Terakki'nin yönetime hakim olması
- V. Osmanlı ordusunun mağlup olması

**Bu gelişmelerin neden - sonuç ilişkisi içerisinde sıralanışı aşağıdaki seçeneklerin hangisinde doğru olarak verilmiştir?**

- A) V - II - IV - III - I    B) III - II - IV - I - V    C) III - V - II - IV - I  
D) II - V - I - III - IV    E) I - V - IV - II - III

5.

#### Durum

Mustafa Kemal'in doğduğu şehir olan Selanik'te; Türkler, Ermeniler, Yahudiler, Sırlar, Bulgarlar ve Rumlar birlikte yaşamaktaydı.

#### Neden

Uzun yıllar bir arada huzur ve güven içinde yaşayan bu milletler Fransız İhtilali'nin ortaya çıkardığı milliyetçilik düşüncesinden ve Rusların uyguladığı Panславist politikalarından etkilenmişlerdir.

#### Sonuç

- I. İsyen hareketlerinin başlaması
- II. Toplumsal huzurun bozulması
- III. Asayiş ve güvenlik sorunlarının ortaya çıkması
- IV. Bağımsızlık mücadelelerinin yaşanması
- V. Federatif devletlerin kurulması

**Diyagramdaki durum - neden ilişkisinden yukarıdaki sonuçlardan hangisi çıkarılamaz?**

- A) I                      B) II                      C) III                      D) IV                      E) V

6.

- Bulgaristan'ın savaştan çekilmesiyle Almanya ile kara bağlantısının kesilmesi
- Wilson İlkeleri'nde mağlup devletlerden toprak ve tazminat alınmayacağı maddesine güvenilmesi
- Irak, Filistin ve Suriye bölgelerinde yaşanan mağlubiyetlerden dolayı Güney Cephesi'nin çökmesi
- İstanbul, Boğazlar ve Anadolu'nun işgal edilme riskinin ortaya çıkması



**Öğretmen'in aşağıdaki sorulardan hangisini yanıtlarken bu ifadeleri kullanması beklenebilir?**

- A) Kuvayimillîye'nin ortaya çıkmasında hangi unsurlar etkili olmuştur?
- B) Osmanlı Devleti'nin Paris Konferansı'na katılmasında etkili olan etkenler nelerdir?
- C) Osmanlı Devleti, I. Dünya Savaşı'nın seyrini nasıl değiştirmiştir?
- D) Mondros Ateşkes Antlaşması'nın imzalanmasının nedenleri nelerdir?
- E) Millî Mücadele Dönemi'nde düzenli ordunun kurulmasını zorunlu hâle getiren etkenleri nelerdir?

- I. Geldikleri gibi giderler.
- II. Hattı müdafaa yoktur sathı müdafaa vardır. O sath bütün vatandır.
- III. Size ben taarruz emretmiyorum. Ölmeyi emrediyorum.
- IV. Benim naciz vücudum elbet toprak olacaktır. Ancak Türkiye Cumhuriyeti ilelebet payidar olacaktır.

**Mustafa Kemal'in söylemiş olduğu sözlerin kronolojik sıralaması aşağıdaki seçeneklerin hangisinde doğru olarak verilmiştir?**

- A) III - I - II - IV
- B) I - III - IV - II
- C) II - IV - I - III
- D) III - II - IV - I
- E) III - II - I - IV

- I. Tarih Öğretmeni sınıf tahtasına beş soru yazarak öğrencilerinden soruları evet veya hayır diye yanıtlamalarını istemiştir.

**Soru 1:** Balkan Savaşları sonunda Osmanlı Devleti'nin Arnavutluk ve Makedonya'daki hâkimiyeti sona ermiş midir?

**Soru 2:** Petrol bölgelerine hakim olmak isteyen İngiltere Irak Cephesi'ni mi açmıştır?

**Soru 3:** İtalya, Trablusgarp'ı medenileştirmek için mi işgal etmiştir?

**Soru 4:** Wilson İlkeleri' ni devre dışı bırakmak isteyen İtilaf Devletleri manda ve himaye sistemini mi geliştirmiştir?

**Soru 5:** I. Dünya Savaşı sonunda Bulgaristan'la Triannon Antlaşması mı imzalanmıştır?

**Bu soruları doğru yanıtlayan bir öğrencinin aşağıdaki seçeneklerden hangisini söylemesi beklenebilir?**

	1	2	3	4	5
A)	Hayır	Evet	Evet	Hayır	Evet
B)	Evet	Evet	Hayır	Evet	Hayır
C)	Hayır	Hayır	Evet	Evet	Evet
D)	Evet	Hayır	Evet	Evet	Hayır
E)	Hayır	Evet	Hayır	Evet	Evet

- I. Mustafa Kemal, Sofya askerî ateşeliği görevindeyken bir Bulgar köylüden duyduğu, "Bulgaristan benim alnımın teri ile doyuyor. Onu koruyan da benim tüfeğim." sözlerini arkadaşlarına naklettikten sonra "İşte Türk köylüsünün de böyle olmasını istiyorum. Bizim köylümüz yurdun efendisi olmadıkça Türkiye ilerlemeyecektir." demiştir.

**Bu ifadeden hareketle Mustafa Kemal'in aşağıdaki anlayışlardan hangisini benimsediği savunulabilir?**

- A) Meşrutî monarşi
- B) Millî egemenlik
- C) Ulusal bağımsızlık
- D) Askerî idare
- E) Aristokrasi

1. Mondros Ateşkes Antlaşması gereğince hudutların korunması ve iç asayişin temini dışında, Osmanlı ordusu terhis edilmiş, bütün liman ve tersaneler İtilaf Devletlerinin denetimine bırakılmış, orduya ait silah, cephane ve askerî taşıtlar İtilaf Devletlerinin kontrolüne girmiştir.

**İtilaf Devletleri bu uygulamalarla aşağıdakilerden hangisine ulaşmayı amaçlamamıştır?**

- A) Kalıcı bir barış antlaşmasının imzalanmasını sağlamak  
B) Osmanlı Devleti'ni savunmasız bırakmak  
C) İşgaller karşısında oluşabilecek direnişi engellemek  
D) Anadolu'nun işgali için uygun ortamı oluşturmak  
E) Osmanlı toprak bütünlüğünü parçalamak

2. "Paris Barış Konferansı'nda hem Wilson İlkeleri'ni devre dışı bırakmak hem de ulusal ve bağımsız devletlerin kurulmasını engellemek isteyen İtilaf Devletleri yeni sistemlerini dünya gündemine taşımıştır." **ifadesini kullanan bir tarihçi aşağıdakilerden hangisini görüşüne kanıt olarak gösterebilir?**

- A) Monreo Doktrini  
B) Self Determinasyon  
C) Manda ve Himaye  
D) Monarşik Sistem  
E) Cumhuriyet

3. **Wilson İlkeleri'nde yer alan;**

- I. Türklerin çoğunlukta olduğu yerlerde egemenlik hakkı Türklere tanınacak,  
II. Galip devletler mağlup devletlerden toprak ve tazminat almayacak,  
III. Sömürgelerin bütün talepleri serbest ve tümüyle taraf-sız bir yaklaşımla ele alınacaktır

**maddelerinden hangileri Osmanlı Devleti'nin Mondros Ateşkes Antlaşması'nı imzalamasında etkili olduğu söylenebilir?**

- A) Yalnız I  
B) Yalnız II  
C) I ve II  
D) I ve III  
E) II ve III

4. Kafkas Cephesi'nde görev yaptığı sırada Rus Genelkurmayı'nın hazırladığı raporda Mustafa Kemal ile ilgili şu ifadeler kullanılmıştır: "Büyük Türk komutanlarının halk tarafından en çok saygı görenidir. Cesur, güçlü, azimli ve azami derecede bağımsız fikir sahibi olup herkes tarafından itibar görmektedir. Şöhretini, Bingazi'deki başarılarıyla kazanmıştır."

**Buna göre Mustafa Kemal ile ilgili;**

- I. kamuoyunca bilinen bir kişi olduğu,  
II. cephelerde vatanına hizmet ettiği,  
III. Osmanlılık düşüncesini benimsediği

**çıkarımlarından hangileri yapılabilir?**

- A) Yalnız I  
B) I ve II  
C) I ve III  
D) II ve III  
E) I, II ve III

5. Osmanlı Devleti adına Mondros Ateşkes Antlaşması'nı imzalayan Hüseyin Rauf Orbay, İstanbul'a döndüğünde gazetecilere verdiği demeçte, "Bu mütareke ile devletimizin bağımsızlığı, saltanatımızın hukuku tümüyle kurtarılmıştır." ifadelerini kullanmıştır.

**Buna göre, aşağıdakilerden hangisi söylenebilir?**

- A) Osmanlı devlet adamları tarafından antlaşma yeterince anlaşılammıştır.  
B) Osmanlı Devleti ile İtilaf Devletleri eşit şartlarda bir antlaşma imzalamıştır.  
C) Osmanlı Devleti, I. Dünya Savaşı'ndan kazançlı çıkmıştır.  
D) Osmanlı padişahı antlaşmanın imzalanmasına karşı çıkmıştır.  
E) Devlet adamları arasındaki görüş ayrılıkları antlaşma metnine yansımıştır.

6.

- Osmanlı ordusundaki Ermeniler firar edip, çetelere katılmalıdır.
- Rus ordusu sınırı geçer geçmez çeteler Rus ordusuna katılacaktır.
- Terk edecekleri mülkleri yakıp Müslümanları bunların suçlusu olarak ilan edeceklerdir.
- İtilaf Devletleri hesabına casusluk ve rehberlik yapacaklardır.

Ermeni örgütlerin resmî gazetesi olan Ararat'ta I. Dünya Savaşı'nda Ermenilere yapacakları eylemleri açıklayan beyannameyi sınıf tahtasına yansıtan Meral Hanım, öğrencilerinden bu ifadelerden hareketle Ermenilerle ilgili değerlendirmelerde bulunmalarını istemiştir.

Öğrencilerin yapmış oldukları değerlendirmeler şu şekildedir:

**Ayten:** Uluslararası kamuoyunda Osmanlı Devleti'ni zor durumda bırakmaya çalışmışlardır.

**Tarık:** İtilaf Devletleri ile iş birliğine yönelmişlerdir.

**Seda:** Osmanlı Devleti'nde yaşayan azınlıkların haklarını korumuşlardır.

**Zafer:** Türk halkını savaşmaktan vazgeçirmeye çalışmışlardır.

**Buna göre öğrencilerden hangilerinin yapmış oldukları değerlendirmeler doğrudur?**

- A) Ayten - Tarık                      B) Seda - Zafer  
C) Zafer - Ayten                      D) Tarık - Seda  
E) Seda - Ayten

7. Mondros Ateşkes Anlaşması metninde Kilikya, Mezopotamya gibi sınırları belli olmayan bölge adları kullanılmıştır.

**Anlaşma Devletlerinin bu uygulamayla aşağıdakilerden hangisini amaçladıkları savunulabilir?**

- A) Azınlıkların isyan etmesini engellemek  
B) İşgal edecekleri alanları genişletmek  
C) İstanbul Hükümeti'nin direncini kırmak  
D) Kendi aralarındaki sorunları gidermek  
E) İşgaller karşısında dünya kamuoyunun desteğini sağlamak

8.

	Mustafa Kemal
Trablusgarp	Bölgeyi işgal etmeye çalışan İtalyanlara karşı Derne ve Tobruk'ta önemli başarılar kazanmıştır.
Çanakkale	İtilaf Devletlerine karşı Çanakkale Cephesi'nde elde ettiği başarılarından dolayı Anafartalar Kahramanı olarak adlandırılmıştır.
Kafkas	Rus birliklerince işgal edilen Muş ve Bitlis'i 16. Kolordu komutanı olarak geri almıştır.
Suriye	Halep'in kuzeyinde İngiliz birliklerini durdurarak Anadolu'nun işgal edilmesini önlemiştir.

**Bu bilgilere göre Mustafa Kemal ile ilgili aşağıdakilerden hangisine ulaşılabılır?**

- A) Ulusal egemenliği hedeflemiştir.  
B) Yeni bir Türk devletinin kurulmasını sağlamıştır.  
C) Çok yönlü özelliklere sahiptir.  
D) Çağdaş ve yenilikçi vasıfları gelişmiştir.  
E) Emperyalizme karşı mücadele vermiştir.

9. Selim, "Paris Barış Konferansı" konulu araştırma ödevi almıştır. Ödevi ile ilgili araştırmaya başlayan Selim, Dörtler Meclisi olarak adlandırılan ABD, İngiltere, İtalya ve Fransa'nın konferansta etkili olduğunu görmüş ancak Rusya'nın bu mecliste yer almadığını fark etmiştir. Bu duruma oldukça şaşırarak Selim öncelikle Rusya'nın Dörtler Meclisi'nde yer almamasının nedenini araştırmaya karar vermiştir.

**Selim'in araştırmasının sonunda aşağıdaki nedenlerden hangisine ulaşması beklenebilir?**

- A) Rusya'nın I. Dünya Savaşı'ndan erkenden çekilmesi  
B) ABD'nin Rusya'ya karşı Batı blokunu oluşturması  
C) Rusya ile Dörtler Meclisi üyeleri arasında görüş ayrılıklarının oluşması  
D) Gizli antlaşmalarla Rusya'ya verilen topraklar üzerinde mutabakata varılması  
E) Rusya'nın Milletler Cemiyeti'ne üye olmaması

1.

**Versay Antlaşması**

- Alman ordusu kaldırılacak ve yapısı değiştirilecektir.
- Almanya bütün deniz topraklarından feragat edecektir. Almanya topraklarının büyük bir kısmını Çekoslovakya, Belçika ve Polonya'ya bırakacaktır.
- Almanya savaş tazminatı ödemeyi kabul edecektir.
- Almanya denizaltı ve uçak üretemeyecektir.
- Almanya'da zorunlu askerlik ortadan kalkacaktır.
- Saar bölgesi Fransa'ya bırakılacaktır.

**Bu maddelere göre aşağıdakilerden hangisine ulaşamaz?**

- Askerî sınırlamalara gidildiğine
- Almanya'nın toprak bütünlüğünün bozulduğuna
- Avrupa'nın siyasi haritasının değiştiğine
- Diplomatik görüşmelerle kalıcı barışın sağlandığına
- Almanya'nın savunmasız hâle getirildiğine

2.

**Şerif Hüseyin**

İngiltere'nin Mısır Valisi Mac Mahon ile yaptığım gizli antlaşmaya göre İngiltere'nin yanında Osmanlı Devleti'ne karşı savaşmamız hâlinde bağımsız bir Arap Devleti'nin kurulacağı vadedilmiştir. Savaştan sonra 1916 yılında İngiltere'den aldığım destekle kendimi Hicaz Kralı olarak ilan ettim. Paris Barış Konferansı'nda kurulmak istenen manda yönetimlerini kabul etmeyerek kendimi tüm Arap ulusunun kralı ilan ettim. Bu hareketim İngilizlerle aramı açtı. TBMM'nin halifeliği kaldırması üzerine kendimi yeni halife ilan ettiysem de İngilizlerce desteklenen Suudi ve Vehhabiler tarafından saf dışı bırakıldım.

**Bu bilgilere göre aşağıdakilerden hangisi söylenemez?**

- I. Dünya Savaşı'nda ümmetçilik anlayışı önemini kaybetmiştir.
- Halifeliğin kaldırılması sadece Türkiye'yi etkilememiştir.
- Osmanlı Devleti'nin müttefikleriyle bağlantısı kesilmiştir.
- Ulusçu anlayışlar Osmanlı Devleti'ni zayıflatmıştır.
- İngiltere Orta Doğu coğrafyasını kendi hedeflerine göre yeniden şekillendirmiştir.

3.

**Wilson İlkeleri**

- Barış antlaşmaları ve diplomasilere açıklık, şeffaflık esas olacak, devletler kendi aralarında gizli antlaşmalar yapmaya son verecektir.
- Galip devletler mağlup devletlerden toprak ve savaş tazminatı almayacaktır.
- Osmanlı Devleti'nde Türklerin çoğunlukta olduğu yerlerde egemenlik hakkı tanınmalı, fakat Türk olmayan halklara da bağımsızlık verilmelidir.
- Büyük küçük bütün devletlerin siyasi bağımsızlığı ve toprak bütünlüğü konusunda karşılıklı güvence vermek üzere özel sözleşmelerle bütün ulusları içine alan milletlerarası bir teşkilat (birlik ) oluşturulmalıdır.
- Uluslararası denizlerde savaş ve barış dışında serbestlik olmalıdır.

**Bu bilgiye göre aşağıdakilerden hangisine ulaşamaz?**

- Gizli antlaşmaların geçersiz hâle geldiğine
- Osmanlı Devleti'nin milliyet prensibine göre parçalanmak istendiğine
- Savaşların uluslararası meseleleri çözen bir araç olmaktan çıkartılmaya çalışıldığına
- Uluslararası ticaretin canlandırılmak istendiğine
- Sömürgecilik yarışının sona erdiğine

4.

**Bir tarihinin, "I. Dünya Savaşı'ndan sonra yenilen devletlerle yapılacak barış antlaşmalarının taslaklarını belirlemek, Avrupa'nın siyasi haritasını yeniden çizmek ve Osmanlı topraklarını paylaşmak amacıyla toplanan konferans" şeklinde tarif ettiği gelişme aşağıdakilerden hangisidir?**

- San Remo Konferansı
- Paris Barış Konferansı
- Lozan Görüşmeleri
- Londra Konferansı
- Berlin Konferansı

5.



“Şu Boğaz harbi nedir? Var mı ki dünyada eşi?  
En kesif orduların yükleniyor dördü beşi,  
Tepeden yol bularak geçmek için Marmara'ya  
Kaç donanmayla sarılmış ufacak bir karaya.”

**Mehmet Akif Ersoy, I. Dünya Savaşı'nda meydana gelen aşağıdaki cephelerden hangisinde yaşanan mücadeleler için bu ifadeleri kullanmıştır?**

- A) Çanakkale                      B) Hicaz                      C) Suriye  
D) Kafkas                      E) Kanal

6.

#### I. Dünya Savaşı'nın Sonuçları

- İmparatorluklar yıkılmıştır.
- Nazizm, Faşizm ve Komünizm ideolojileri güçlenmeye başlamıştır.
- Türkiye, Litvanya ve Macaristan gibi çok sayıda devlet kurulmuştur.
- Manda ve himaye sistemi benimsenmiştir.

**Buna göre aşağıdakilerden hangisi söylenemez?**

- A) Wilson İlkeleri etkisiz hâle getirilmiştir.  
B) Avrupa haritası değişmiştir.  
C) Ulus devletler yaygınlaşmıştır.  
D) Yeni ideolojiler ortaya çıkmıştır.  
E) Devletler arası rekabet sona ermiştir.

7. I. Dünya Savaşı'ndan sonra toplanan Paris Barış Konferansı'na İngiltere ve Fransa'nın girişimleri ile İtilaf Devletleri Ermenileri ve Arapları da davet etmiştir.

**İtilaf Devletlerinin bu tutumunun aşağıdakilerden hangisine yönelik olduğu savunulabilir?**

- A) Osmanlı ülkesinde nüfuz bölgeleri oluşturma  
B) Emperyalist politikalara son verme  
C) Milliyetçilik akımının yayılmasını önleme  
D) Aralarındaki görüş ayrılıklarını sona erdirmeye  
E) Mağlup devletlerin haklarını koruma

8. 5 Ocak 1918'de İngiltere başbakanı Lloyd George yapmış olduğu konuşmasında Türklerin başkentlerinde gözlerinin olmadığını ve Türk halkına dayanan bir Osmanlı İmparatorluğu'nun varlığına karşı gelmediklerini belirtmiştir.

**Bu açıklamanın Osmanlı Devleti'nde aşağıdaki politikalarından hangisini hızlandırdığı savunulabilir?**

- A) Müslümanların İngiltere'ye karşı kışkırtılması  
B) Ateşkes antlaşmasının imzalanarak savaştan çekilmesi  
C) Turancılık ideolojisinin uygulanması  
D) Direniş cemiyetlerinin oluşturulması  
E) Azınlıklara yeni hakların verilmesi

9. "Mondros Ateşkes Antlaşması'ndan sonra İtilaf Devletleri Anadolu'daki güç dengelerini değiştirerek Türklerin savunma gücünü yok etmek istemiştir." **ifadesini kullanan bir tarihçi;**

- I. 400 bin olan Türk ordusunun sayısının 50 bine indirilmesi,  
II. Türk ordusuna ait silahların toplanması,  
III. demir yolları ve her türlü haberleşme istasyonlarının kontrol altına alınması

**bilgilerinden hangilerini görüşüne örnek olarak gösterebilir?**

- A) Yalnız I                      B) I ve II                      C) I ve III  
D) II ve III                      E) I, II ve III

6. "Doğu Anadolu'da çeşitli yerlerde faaliyet gösteren çetelerimizle kendi devletimizi kurmak istiyoruz. Wilson İlkeleri'ndeki self determinasyonu uygulamak ve Türklerin göç etmesi için her yolu deniyoruz."

**Bu ifadeleri kullanan bir kişinin aşağıdaki cemiyetlerden hangisinin üyesi olduğu söylenebilir?**

- A) Hınçak - Taşnak      B) Mavri Mira  
C) Pontus Rum      D) İngiliz Muhipleri  
E) Etnik-i Eterya

7. **Mondros Mütarekesi'nden sonra kurulan;**

- I. Trakya Paşaeli,  
II. Pontus Rum,  
III. Hınçak

**cemiyetlerinden hangilerinin programında yeni bir devlet kurma düşüncesi yer almaktadır?**

- A) Yalnız I      B) I ve II      C) I ve III  
D) II ve III      E) I, II ve III

8. Erdal, "Birinci Dünya Savaşı'ndan sonra yurdun işgal edilmesini engelleyemeyen ve işgallere karşı sessiz kalan Osmanlı Hükümeti'nin kayıtsız şartsız teslim olmasına Türk milleti büyük bir tepki göstermiştir." demiştir.

**Ayla ise;**

- I. direniş cemiyetlerinin kurulması,  
II. saltanatın kaldırılması,  
III. Kuvayimillîye'nin ortaya çıkması

gelişmelerinin işgallere karşı Türk milletinin gösterdiği tepkiler arasında yer aldığını belirtmiştir.

**Ayla yukarıdakilerden hangilerini söyleseydi Erdal'a doğru bir bilgi vermiş olurdu?**

- A) Yalnız I      B) Yalnız II      C) I ve II  
D) I ve III      E) II ve III

- 9.



**Arda**

Misak-ı Millî kararlarının Osmanlı Mebusan Meclisi'nde kabul edilmesi



**Selda**

Sivas ve Erzurum kongrelerinin toplanması



**Ertan**

I. İnönü Savaşı'nın kazanılması



**Okan**

TBMM'nin açılması



**Ela**

Amasya Genelgesi'nin yayımlanması

**Yukarıdaki öğrencilerden hangisi İtilaf Devletlerinin İstanbul'u resmen işgal etmelerine ortam hazırlayan gelişmelerden bahsetmiştir?**

- A) Ela      B) Okan      C) Arda  
D) Selda      E) Ertan

10. "Mudanya Ateşkes Antlaşması ile İtilaf Devletleri, Osmanlı Devleti'nin hukuken sona erdiğini kabul etmiştir." **ifadesini kullanan bir tarihçi antlaşmanın hangi maddesini görüşüne kanıt olarak gösterebilir?**

- A) İstanbul ve Boğazlar TBMM yönetimine bırakılacaktır.  
B) Doğu Trakya'da 8 bin kişilik jandarma birliği bulundurulacaktır.  
C) Türk ve Yunan orduları arasındaki çatışmalar sona erecektir.  
D) Meriç Nehri Türk - Yunan sınırını oluşturacaktır.  
E) Yunanistan, Doğu Trakya'yı 15 gün içerisinde boşaltacaktır.



1. Aylın, Amasya Genelgesi'nin maddeleri ile genelgenin önemli özelliklerini defterine yazmıştır.

1.  → Millî Mücadele'nin amacı, gerekçesi ve yöntemi belirtilmiştir.
2.  → Bölgesel amaçlı Temsil Heyeti kurulmuştur.
3.  → İstanbul'daki hükümet, üzerine aldığı görev ve sorumluluğu yerine getirememektedir. Bu durum milletimizi yok olmuş gibi göstermektedir.
4.  → Manda ve himaye ilk defa reddedilmiştir.
5.  → Erzurum ve Sivas kongrelerinin toplanması kararı alınmıştır.
6.  → İlk defa ulusal egemenlik ve bağımsızlıktan bahsedilmiştir.

**Bu kararlardan doğru olanların başına "+" yanlış olanların başına ise "-" işareti konulursa aşağıdaki seçeneklerden hangisine ulaşılabilir?**

	1	2	3	4	5	6
A)	+	-	+	-	+	+
B)	+	-	+	+	-	+
C)	-	+	-	+	+	-
D)	+	+	-	-	+	+
E)	-	+	+	-	+	-

2. 24 Nisan 1920'de TBMM'nin kabul ettiği önerenin,

- TBMM'nin üstünde hiçbir güç ve makam yoktur.
- Geçici bir hükümet başkanı veya padişah vekili atamak doğru değildir.
- Yasama ve yürütme gücü TBMM'dedir. Meclis Başkanı hükümetin de başkanıdır.

**maddeleri dikkate alındığında aşağıdakilerden hangisine ulaşamaz?**

- A) İstanbul Hükümeti yok sayılmıştır.
- B) Saltanat makamına bağlılık bildirilmiştir.
- C) Meclisin alacağı kararlarda özgür olacağı belirtilmiştir.
- D) Güçler birliği ilkesi benimsenmiştir.
- E) Meclis Hükümeti sistemi uygulanmıştır.

3. Aşağıdaki tabloda Amasya Genelgesi'nin maddeleri ve bu maddelerin yorumları verilmiştir.

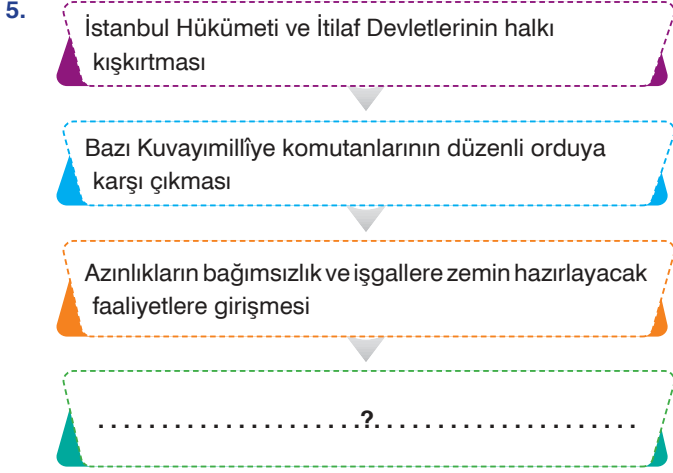
No	Madde	Yorum
I.	Vatanın bütünlüğü ve ulusun bağımsızlığı tehlikededir.	Millî Mücadele'nin gerekçesi belirtilerek bölgesel kurtuluş çarelerine karşı çıkmıştır.
II.	İstanbul'daki hükümet üzerine aldığı görev ve sorumluluğu yerine getirememektedir.	İstanbul Hükümeti'ne güven duyulamayacağı belirtilmiştir.
III.	Vatanın bütünlüğünü, milletin bağımsızlığını yine milletin azim ve kararı kurtaracaktır.	İlk defa ulusal egemenlik fikri ve yönetim anlayışının değişeceğine işaret edilmiştir.
IV.	Milletin haklarını tüm dünyaya duyurmak gayesiyle her türlü etki ve denetimden uzak millî bir kurul oluşturulmalıdır.	Bölgesel amaçlı Temsil Heyeti kurulmuştur.
V.	Anadolu'nun her bakımından en güvenli yeri olan Sivas'ta ulusal bir kongre toplanacaktır.	Millî birlik ve beraberlik sağlanmaya çalışılmıştır.

**Buna göre tabloda kaç numaralı alanda yanlışlık yapılmıştır?**

- A) I
- B) II
- C) III
- D) IV
- E) V

4. Misak-ı Millî kararları içerisinde yer alan "Siyasi, ekonomik ve adli gelişmemizi engelleyen her türlü sınırlandırmalar kaldırılmalıdır." maddesi ile aşağıdakilerden hangisine karşı çıkmıştır?

- A) Millî cemiyetlere
- B) İstanbul Hükümeti'ne
- C) Kapitülasyonlara
- D) Azınlık haklarına
- E) Kuvayimillîye komutanlarına



Şemada "?" işareti ile gösterilen yere aşağıdakilerden hangisi yazılmalıdır?

- A) TBMM'ye karşı isyanların çıkması  
B) Misak-ı Millî'nin kabul edilmesi  
C) Kurtuluş Savaşı'nın başlaması  
D) Londra Konferansı'nın toplanması  
E) İstanbul Hükümeti'nin istifa etmesi

6.

Olay	Sonuç
I. İnönü Savaşı'nın kazanılması	Moskova Antlaşması'nın imzalanması
Sakarya Savaşı'nın kazanılması	İtalyan ve Fransızların işgal ettikleri bölgeleri boşaltması
Büyük Taarruz'un kazanılması	Mudanya Ateşkes Antlaşması'nın imzalanması

Bu gelişmelerin en önemli ortak özelliği aşağıdakilerden hangisidir?

- A) Mustafa Kemal'in komuta ettiği orduların kazandığı zaferlerdir.  
B) Tekalif-i Millîye Emirleri'nin etkisi ile kazanılan başarılardır.  
C) Kurtuluş Savaşı'nın diplomatik safhasını sona erdiren savaşlardır.  
D) TBMM'nin açılmasından önce gerçekleşen olaylardır.  
E) TBMM'nin uluslararası alandaki saygınlığını arttıran gelişmelerdir.

7. Tarih dersinde, Moskova Antlaşması'nda yer alan "İki taraftan birinin tanımadığı uluslararası bir antlaşmayı, diğeri de tanımayacaktır." maddesini sınıf tahtasına yazan Eray Öğretmen öğrencilerine, "Bu madde ile TBMM ile Sovyet Rusya hangi alanda iş birliği yapma kararı almıştır?" sorusunu yöneltmiştir.

Öğrencileri Eray Öğretmen'in sorusuna şu yanıtları vermiştir:

**Tuççe:** Dış politika

**Melis:** Ekonomi

**Nur:** Askerî operasyon

**Özge:** İç siyaset

**Tülin:** Manda ve himaye

Buna göre öğrencilerden hangisinin vermiş olduğu yanıt doğrudur?

- A) Özge  
B) Tuğçe  
C) Melis  
D) Nur  
E) Tülin

8. Fahri Belen, "Başkumandan Meydan Muharebesi, kumandanlık sanatı, sevk ve idare kudretinin parlak bir başarısıdır." demiştir.

Buna göre Fahri Belen, savaşın kazanılmasını;

I. Türk ordusunun gücü,

II. milletin azim ve kararı,

III. savaşı yöneten komutanın yeteneği

unsurlarından hangileriyle doğrudan ilişkilendirmiştir?

- A) Yalnız I  
B) Yalnız II  
C) Yalnız III  
D) I ve II  
E) II ve III

9. Tarih dersinde Nihan Öğretmen; Şahin Bey'den, Sütçü İmam'dan, Ali Saip Bey'den, Fransız ve Ermeni askerlerin zulmünden ve 1921 Ankara Antlaşması'ndan bahsetmiştir.

Buna göre dersin konusunun aşağıdakilerden hangisi olduğu söylenebilir?

- A) Güney Cephesi  
B) Doğu Cephesi  
C) Batı Cephesi  
D) Pontus İsyanları  
E) TBMM'ye karşı çıkan isyanlar

1.

**Sevr Antlaşması**

- Tüm devletlerin gemileri boğazlardan geçebilecektir.
- Boğazlarla ilgili her türlü işlem, içinde Türk delegesinin yer almadığı Boğazlar Komisyonu tarafından yürütülecektir.
- İzmir, Ege Bölgesi ve Doğu Trakya, Yunanistan'a verilecektir.
- Kapitülasyonlardan tüm devletler yararlanabilecektir.
- Türk ordusundaki asker sayısı ile savaş teçhizatı sınırlandırılacaktır.

**Lozan Antlaşması**

- Boğazlardan geçişler Türkiye'nin başkanlığında kurulacak uluslararası bir komisyonca idare edilecektir.
- Türkiye ile Yunanistan arasındaki sınır Meriç Nehri olacaktır.
- Yunanistan, Karaağaç'ı Türkiye'ye verecektir.
- Kapitülasyonlar kesin olarak kaldırılacaktır.
- Türk ordusuyla ilgili hiçbir sınırlandırılmaya gidilmeyecektir.

**Bu bilgilere bakıldığında,**

- I. Sevr Antlaşması'nda egemenliğe gölge düşüren bazı maddelere Lozan'da da yer verilmiştir.
- II. Lozan Antlaşması'nda bağımsızlığa yönelik kazanımlar elde edilmiştir.
- III. Sevr Antlaşması'nda toprak bütünlüğünü bozacak maddeler Lozan'da iptal edilmiştir.

**yargılarından hangilerine ulaşılabilir?**

- A) Yalnız I                      B) I ve II                      C) I ve III  
D) II ve III                      E) I, II ve III

2. **Mustafa Kemal aşağıdaki gelişmelerin hangisinden önce resmi görevinden ve askerlik mesleğinden istifa etmiştir?**

- A) Erzurum Kongresi  
B) Sivas Kongresi  
C) Havza Genelgesi  
D) Amasya Görüşmesi  
E) Amasya Genelgesi

3.



**I. İnönü Savaşı'nın sonuçlarının yazılı olduğu tabloda, numaralandırılarak verilenlerden hangileri dış politikayla ilgilidir?**

- A) 2 - 4                      B) 1 - 2 - 5                      C) 1 - 3 - 5  
D) 2 - 3 - 4                      E) 1 - 3 - 4 - 5

4. **Fransız Komutan:** Bir bez parçasından başka bir şey olmayan bayrak için dün bu kadar gürültü yaptınız. İstesem hepimizi yok edebilirdim, yapmadım. Yarın top tüfek kullanacak olursam ne yaparsınız? Çoluk çocuğunuza acımıyor musunuz?

**Maraşlı Aşıkoğlu Hüseyin:** Her gün ölmektense bir gün ölmeyi yeğlerim. Bayrak için ölmek her Türk için şereftir.

**Bu diyalogdan hareketle;**

- I. Anadolu'nun bazı bölgelerinin işgal edildiği,
- II. Türk halkının bağımsızlık ve özgürlüğü için mücadele ettiği,
- III. siyasi sorunların diplomatik görüşmelerle çözüme kavuşturduğu

**Çıkarımlarından hangileri yapılabilir?**

- A) Yalnız I                      B) Yalnız II                      C) I ve II  
D) I ve III                      E) II ve III

5.

**Dayanak****Mondros Ateşkes Antlaşması**

**7. Madde:** İtilaf Devletleri güvenliklerini tehdit edecek bir durumun ortaya çıkması hâlinde herhangi bir stratejik yeri işgal etme hakkına sahip olacaktır.

**Gelişme**

- 15 Kasım 1918'de İngiliz birlikleri Musul'u işgal etmiştir.
- 15 Mayıs 1919'da İtilaf Devletlerinin korumasında Yunanlılar İzmir'i işgal etmiştir.
- Misak-ı Millî kararlarının yayımlanması üzerine İtilaf Devletleri 16 Mart 1920'de İstanbul'u işgal etmiştir.

**Bu dayanak ve gelişmeler birlikte değerlendirildiğinde İtilaf Devletleri ile ilgili aşağıdaki yargılardan hangisine ulaşamaz?**

- A) Yapacakları işgallere hukuki zemin hazırlamışlardır.
- B) Osmanlı Devleti'nin toprak bütünlüğünü parçalamayı amaçlamışlardır.
- C) Millî Mücadele boyunca eylemlerinde ortak hareket etmişlerdir.
- D) Anadolu'da işgal bölgeleri oluşturmuşlardır.
- E) Türk milletinin isteklerini dikkate almamışlardır.

6. Aşağıdaki tabloda bazı tarihî gelişmeler numaralandırılarak verilmiştir.

- I. Osmanlı Devleti'nin I. Dünya Savaşı'na girmesi
- II. Mondros Ateşkes Antlaşması'nın imzalanması
- III. Anadolu'nun işgale uğraması
- IV. TBMM'nin açılması
- V. Bölgesel direniş cemiyetlerinin kurulması

**Bu sıralamada neden - sonuç ilişkisini bozan gelişme kaç numaralı alanda verilmiştir?**

- A) I
- B) II
- C) III
- D) IV
- E) V

7.

Erzurum ve Sivas Kongresi kararları benimsenmiştir.

Kapitülasyonların kaldırılması amaçlanmıştır.

Misak-ı Millî ile

?

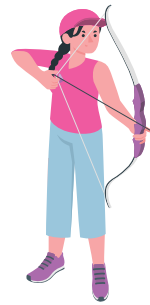
**Misak-ı Millî'nin önemi düşünüldüğünde şemada "?" işareti ile gösterilen yere aşağıdakilerden hangisi yazılamaz?**

- A) İlk defa ulusal egemenlikten bahsedilmiştir.
- B) Türk Milletinin temel hak ve istekleri dile getirilmiştir.
- C) Türk vatanının sınırları çizilmiştir.
- D) Tam bağımsızlık vurgulanmıştır.
- E) Boğazlar konusuna değinilmiştir.

8.

Londra Konferansı **L**  
Moskova Antlaşması **M**

Ankara Antlaşması **A**  
Kars Antlaşması **K**



**Yukarıdaki oklarla yandaki hedefleri vurmak isteyen okçunun hedeftekilerden hangilerine isabetli atış yapması beklenebilir?**

	L	M	A	K
A)	1	3	2	4
B)	2	1	4	3
C)	3	4	1	2
D)	4	2	3	1
E)	4	3	1	2


1.

Millî Cemiyetler	
Adı	Amacı
Trakya - Paşaeli	Doğu Trakya'nın Yunanistan'a verilmesini engellemek
Reddi İlhak	İzmir'in Yunanistan'a verilmesini önlemek ve Ege Bölgesi'ni savunmak
Vilayet-i Şarkiye	Doğuda kurulmak istenen Ermeni Devleti'ni engellemek
Kilikyalılar	Çukurova Bölgesi'ni Fransız ve Ermenilere karşı savunmak

Bu bilgilere bakıldığında Millî Cemiyetler ile ilgili aşağıdakilerden hangisi söylenemez?

- A) Bölgesel olarak hareket etmişlerdir.
- B) İşgalleri durdurmaya çalışmışlardır.
- C) Vatanseverlik duygusuyla hareket etmişlerdir.
- D) Tek bir merkezden idare edilmişlerdir.
- E) İşgalci devletlerle mücadele etmişlerdir.

2.




Tabii ki, toprakları işgal edilmiş bir ülkede bağımsızlığı sağlamak, düşmanı yurttan atmak ve bunları disiplinden yoksun milis kuvvetlerle sağlamak mümkün değildir.

Öğretmen'in aşağıdaki sorulardan hangisini yanıtlarken bu ifadeleri kullanması beklenebilir?

- A) Düzenli ordunun kurulması gerekli miydi?
- B) Kuvayımillîye'nin ortaya çıkmasında etkili olan nedenler nelerdir?
- C) Saltanat'ın kaldırılması ülke bütünlüğü için önemli miydi?
- D) Takrir-i Sükûn Kanunu çıkartılmalı mıydı?
- E) Mebusan Meclisi'nin toplanması zaruri miydi?

3.



- I. İnönü Savaşı
- II. İnönü Savaşı
- Kütahya - Eskişehir Savaşı
- Sakarya Savaşı

Sınıf tahtasına yukarıdaki bilgileri yazan Mert Bey, öğrencilerine bu savaşların genel özelliklerini söylemelerini istemiştir.

Öğrencilerin vermiş oldukları yanıtlar şu şekildedir:

**Ahsen:** Batı Cephesi'nde gerçekleşen savaşlardır.

**Eren:** Düzenli ordu birlikleri Yunanlılara karşı mücadele vermiştir.

**Rümeysa:** Türk ordusunun savunmada kaldığı çatışmalardır.

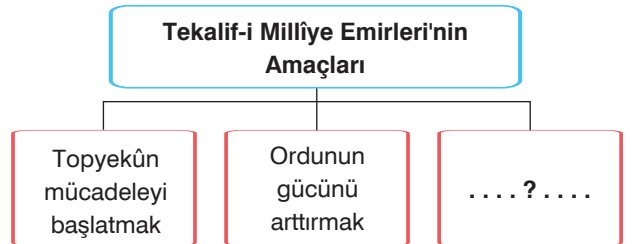
**Tarık:** Savaşların tümü Türk ordusunun zaferi ile sonuçlanmıştır.

**Zeynep:** Çatışmalar TBMM'nin açılmasından sonra gerçekleşmiştir.

Buna göre öğrencilerden hangisinin vermiş olduğu yanıt yanlıştır?

- A) Zeynep
- B) Ahsen
- C) Tarık
- D) Rümeysa
- E) Eren

4.



Şemada "?" işareti ile gösterilen yere aşağıdakilerden hangisi getirilmelidir?

- A) Kuvayımillîye'nin gelirlerini arttırmak
- B) Ordunun ihtiyaçlarını gidermek
- C) Rusya'dan dış destek almak
- D) Türk ordusunun taarruz gücünü korumak
- E) Haberleşme araçlarının kullanımını sınırlandırmak

1.

- Türk ordusunun daha fazla kayıp vermesini engellemek
- Yunan ordusu ile Türk ordusu arasında doğal bir set çekmek
- Yunan birliklerini ikmal noktalarından uzaklaştırmak
- Türk ordusuna toparlanması için gereken zamanı kazandırmak



**Öğretmenin aşağıdaki sorulardan hangisini yanıtlarken bu ifadeleri kullanması beklenebilir?**

- A) Kütahya - Eskişehir Savaşları'nda Türk ordusu Sakarya Nehri'nin doğusuna neden çekilmiştir?
- B) Gediz Muharebesi'nin sonuçları nelerdir?
- C) Büyük Taarruz'dan önce Türk ordusu neden bir yıl hazırlık yapmıştır?
- D) Sakarya Savaşı'nda Türk ordusunun savunmada kalmasının nedenleri nelerdir?
- E) II. İnönü Savaşı'nın çıkmasında etkili olan nedenler nelerdir?

**2. 7 - 8 Ağustos 1921'de yayımlanan Tekalif-i Millîye Emirleri'yle Türk ordusunun;**

- I. kılık - kıyafet,
- II. motorlu taşıt,
- III. nakit para

**ihtiyaçlarından hangileri giderilmeye çalışılmıştır?**

- A) Yalnız I
- B) I ve II
- C) I ve III
- D) II ve III
- E) I, II ve III

3.

### Tekalif-i Millîye Emirleri

- ✓ Akaryakıt, kamyon lastiği ve haberleşme malzemesinin %40'ına bedeli sonradan ödemek üzere el konacak
- ✓ Silah ve malzeme yapan zanaatkarlar tespit edilerek ordu hizmetine alınacak
- ✓ Her türlü araba ve hayvanın %20'sine bedeli sonradan ödemek üzere el konacak
- ✓ Her ev bir kat çamaşır, bir çift çorap ve çarık hazırlayarak askerlerin kullanması için Tekâlif-i Millîye Komisyonlarına teslim edecek
- ✓ İnsan ve hayvan yiyeceklerinin %40'ına bedeli sonradan ödemek üzere el konacak
- ✓ Muharebeye ilişkin her türlü silah ve mühimmat, üç gün içinde Tekâlif-i Millîye Komisyonlarına teslim edilecek

**Buna göre aşağıdakilerden hangisi söylenemez?**

- A) Türk ordusunun ihtiyaçları karşılanmak istenmiştir.
- B) Emirler topyekûn seferberlik özelliği taşımıştır.
- C) Devlet - millet bütünleşmesi sağlanmaya çalışılmıştır.
- D) İnkılaplar için uygun zemin oluşturulmuştur.
- E) Türk ordusunun savaş gücünün artırılması amaçlanmıştır.

**4. 28 Mayıs 1919'da Trabzon Muhafaza-i Hukuk-ı Millîye Cemiyeti'nin önde gelen isimlerinden Rizeli Osman Nuri ve Zeki Bey tarafından verilen önergede "Trabzon gibi bir sahil ili tek başına Pontus ve Ermenistan sorunlarını çözemez. Kurtuluş için biricik çare, Türklüğün birleşmesidir. Bunun için de silahlı karşı koyma önlemleri alınmalıdır." demişlerdir. Verilen önerge cemiyet tarafından oy birliği ile kabul edilmiştir.**

**Buna göre Trabzon Muhafaza-i Hukuk-i Millîye Cemiyeti'nin;**

- I. bölgesel kurtuluş,
- II. ulusal bağımsızlık,
- III. manda ve himaye

**unsurlarından hangilerine karşı çıktığı savunulabilir?**

- A) Yalnız I
- B) I ve II
- C) I ve III
- D) II ve III
- E) I, II ve III

Cemiyet	Çıkardıkları Yayınlar (Gazete)
Trabzon Muhafaza-i Hukuk-ı Millîye	İstiklal
Trakya Paşaeli	Yeni Edirne, Ahali, Trakya
Şark Vilayetleri Müdafaa-i Hukuk	Le Pays (Fransızca) Albayrak, Hadisat

Sınıf tahtasına yukarıdaki şemayı çizen Ezgi Öğretmen öğrencilerine "Sizce cemiyetlerin süreli yayınlar çıkarmasında etkili olan nedenler nelerdir?" sorusunu yöneltmiştir.

Öğrencileri Ezgi Öğretmen'in sorusuna şu yanıtları vermiştir:

**Azad:** İşgallere karşı halkı bilgilendirerek kamuoyu oluşturma

**Nesrin:** İstanbul Hükümeti'nin halk üzerinde baskı kurmasını engelleme

**Rıdvan:** Mondros Ateşkes Antlaşması'nın imzalanmasına zemin hazırlama

**Ceyhan:** İtilaf Devletlerince yapılan işgallerin haksızlığını dünyaya duyurma

**Buna göre öğrencilerden hangileri Ezgi Öğretmen'in sorusuna doğru yanıt vermiştir?**

- A) Azad - Nesrin                      B) Rıdvan - Ceyhan  
C) Nesrin - Rıdvan                    D) Ceyhan - Azad  
E) Azad - Rıdvan

#### 6. 1920 yılı sonlarına doğru TBMM'nin yaptığı,

- Kuvayimillîye giderlerinin karşılanması için Millî Savunma Bakanlığı'nın kurulması,
- Batı Cephesi'nin ikiye ayrılması,
- Subay yetiştirme merkezinin açılması

**çalışmalarının aşağıdakilerden hangisine yönelik olduğu savunulabilir?**

- A) Tekalif-i Millîye Emirleri'nin uzatılmasına  
B) Düzenli ordunun kurulmasına  
C) Cemiyetlerin tek bayrak altında birleştirilmesine  
D) Mustafa Kemal için Başkomutanlık Yasası'nın çıkartılmasına  
E) Sakarya Savaşı'nın gerçekleşmesine

7. 22 Mayıs 1919'da Kadıköy Mitingi'nde Mondros Ateşkes Antlaşması'nı eleştiren Münevver Saime Hanım şu ifadeleri kullanmıştır: ". . . .Evet açıkça söylüyorum kardeşlerim. Aldatıcı kaynakların yazdıkları haberlere inanmayın. Bizim devletimizi koruyacaklar. Fakat hangi sınırlar dahilinde? Bu açıkça belirtilmedikçe Türkiye'de barış mümkün olmayacaktır. Ben bu kanıdayım. İsyan etmeyecek bir Türk kalbi de tanımıyorum."

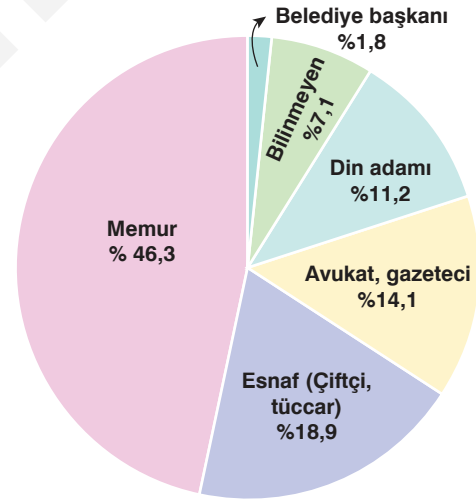
**Buna göre;**

- I. Mondros Ateşkes Antlaşması'nda Türkiye'nin sınırlarının net olarak belirlenmediği,  
II. Anadolu'da bağımsızlık mücadelesinin yaşanmak üzere olduğu,  
III. Ateşkes Antlaşması'na karşı olanların seslerini yükselttiği

**çıkartımlarından hangileri yapılabilir?**

- A) Yalnız I                              B) I ve II                              C) I ve III  
D) II ve III                              E) I, II ve III

#### 8.



**I. TBMM'de vekillerin meslek dağılımını gösteren grafik incelendiğinde aşağıdakilerden hangisine ulaşılabilir?**

- A) TBMM'nin toplumun farklı kesimlerini temsil eden mebuslardan oluştuğuna  
B) Vekillerin tamamının Batı tarzında eğitim gördüğüne  
C) Asker ve öğretmenlerin alınan kararlarda etkili olduğuna  
D) Kapanan Mebusan Meclisi üyelerinin de yeni açılan meclise katıldığına  
E) Mebusların tamamının İstanbul Hükümeti'ne muhalif kişilerden seçildiğine

1.

Kuvay-ı Milliye	D/Y
Mondros Ateşkes Antlaşması'ndan sonra yapılan işgallere karşı tepki olarak ortaya çıkmıştır.	
Tek bir merkezden yönetilmemişlerdir.	
TBMM tarafından kurulmuştur.	
İlk önceleri masrafları halk, daha sonra ise Millî Savunma Bakanlığınca karşılanmıştır.	
Doğu ve Batı Cephesi'nin kazanılmasındaki tek yetkili askerî kuvvetlerdir.	

Millî Mücadele ünitesinin işlendiği derste Ravza Hanım'ın uyguladığı Doğru - Yanlış etkinliğinde öğrencisi Salih tam puan almıştır.

**Buna göre Salih'in yanıt anahtarı aşağıdaki seçeneklerin hangisinde doğru verilmiştir?**

A)	D	Y	B)	D	Y	C)	D	Y	D)	D	Y	E)	D	Y
		✓	✓					✓	✓			✓		
✓				✓		✓			✓				✓	✓
✓				✓		✓			✓				✓	✓
	✓		✓			✓			✓			✓		
	✓		✓			✓			✓			✓		

2. Tarih Öğretmeni öğrencilerine Gümrü Antlaşması ile ilgili neleri bildiklerini sormuştur.

**Aşağıdaki öğrencilerden hangisinin vermiş olduğu yanıt yanlıştır?**

- A) **Ayça:** TBMM Hükümeti ile Ermenistan arasında imzalanmıştır.
- B) **Öykü:** Ermeniler bu antlaşma ile Sevr Antlaşması'nın geçersiz olduğunu kabul etmiştir.
- C) **Zerrin:** Antlaşmayla Doğu sınırimız kesin olarak çizilmiştir.
- D) **Hazal:** TBMM'nin ilk askerî zaferi ve diplomatik başarısıdır.
- E) **Yudum:** Ermeni Hükümeti Misak-ı Millî'yi tanımıştır.

3.

Tarih Öğretmeni Ersin Bey öğrencilerine I. İnönü Savaşı'nın sonuçlarını akıllarında tutmaları için "MİLAT" ifadesini bilmelerinin yeterli olacağından bahsederek bu ifadeyi şu şekilde açıklamıştır.

**M** → Mudanya Ateşkes Antlaşması

**İ** → İstiklal Marşı'nın kabulü

**L** → Londra Konferansı

**A** → Afganistan ile Dostluk Antlaşması

**T** → Teşkilatıesasiye Kanunu

**Buna göre Ersin Bey hangi harfin açıklanmasında yanlışlık yapmıştır?**

- A) T B) İ C) L D) M E) A

4. **Sakarya Meydan Muharebesi'nin kazanılmasından sonra Fransa ile imzalanan Ankara Antlaşması'nın;**

- Türk ordusu Türkiye ile Suriye arasında belirlenen sınırların kuzeyine, Fransa ise güneyine çekilecek,
- Hatay, Fransa himayesindeki Suriye'de kalacak ancak bölgede dili Türkçe olan özel bir yönetim kurulacak,
- Savaşılan bölgede genel af ilan edilecek,
- Fransızlar Anadolu'da işgal ettikleri bölgeleri boşaltacaktır.

**maddelerine bakıldığında aşağıdakilerden hangisine ulaşamaz?**

- A) Taraflar arasında silahlı mücadelenin sona erdiğine
- B) TBMM Hükümeti'nin Misak-ı Millî'den taviz verdiğine
- C) İtilaf Devletleri arasındaki birlikteliğin bozulduğuna
- D) TBMM Hükümeti'nin bölge ile kültürel bağlarını korumaya çalıştığına
- E) Hatay'daki Türklerin göç etmek zorunda kaldığına



5. Benim adım Hasan, Yunanlılarla 100 km'lik bir cephede mücadele ettik. Top sesleri Ankara'da duyulurken Yunan süvarilerine ait öncü kuvvetler Polatlı'ya kadar ilerlemişti. Bu sırada Mustafa Kemal Paşa, "Hattı müdafaa yoktur. Sathı müdafaa vardır." emrini verdi. 22 gün 22 gece süren bu savaşı kazanarak Yunanlıların taarruz gücünü kırdık.

**Bu bilgiye göre Hasan'ın aşağıdaki savaşlardan hangisine katıldığı savunulabilir?**

- A) Sakarya Meydan Savaşı  
B) Büyük Taarruz  
C) II. İnönü Savaşı  
D) Kütahya - Eskişehir Savaşı  
E) I. İnönü Savaşı

6. **Lozan Antlaşması**

**Aleyhte Olan Konular**

- Boğazlar  
Batı Trakya  
Suriye Sınırı

**Lehte Olan Konular**

- ?  
?  
?

**Lozan Antlaşması ile ilgili hazırlanan terazinin dengelenmesi için "?" işareti ile gösterilen yere aşağıdakilerden hangisi getirilemez?**

- A) Irak sınırı  
B) Kapitülasyonlar  
C) Azınlıklar  
D) Yabancı okullar  
E) Savaş tazminatı

7. Ünlü İngiliz tarihçi, A.Toynbe, ". . . Yenilmiş, parçalanmış bir ulusun, bir harabe içinde ayağa kalkması ve dünyanın en büyük ulusları ile tam ve eşit koşullar içinde karşı karşıya gelmesi ve Büyük Savaşın bu galiplerini dize getirerek her istediğini kabul ettirmesi şaşılacak bir şeydir." demiştir.

**A. Toynbe yukarıdaki ifadesinde aşağıdaki antlaşmaların hangisinden bahsetmiştir?**

- A) Mudanya B) Lozan C) Moskova  
D) Sevr E) Kars

8. Lozan Antlaşması'nda Türkiye ekümenlik iddiasında bulunmaması şartıyla Fener Rum Patrikhanesi'nin, İstanbul'da kalmasına izin vermiştir.

**Bu durum aşağıdakilerden hangisinin göstergesidir?**

- A) Azınlıkların ekonomik imtiyazlarını koruduğunun  
B) Türkiye ile Yunanistan arasındaki sorunların kesin olarak çözüme kavuştuğunun  
C) Patrikhane'nin siyasi yetkilerine son verildiğinin  
D) Gayrimüslimlere ait ibadet yerlerinin kapatıldığının  
E) Türkiye'nin Hristiyan birliğinin oluşmasını engellediğinin

9. Lozan Görüşmeleri sırasında Lord Curzon'un sürekli Mondros'tan bahsetmesi, Mondros Mütakeresi sırasında kabul edilen kapitülasyonların tekrar ele alınıp tashihine gidileceğini belirtmesi üzerine Türk delegasyonunun başkanı İsmet Paşa "Biz buraya Mondros'tan gelmedik, Mudanya'dan geldik." ifadesini kullanmıştır.

**Buna göre,**

- I. İsmet Paşa, Millî Mücadele'nin görmezden gelinmesi-ne tepki göstermiştir.  
II. İtilaf Devletleri eski isteklerini Türk heyetine kabul ettirmeye çalışmıştır.  
III. Mondros Ateşkes Antlaşması Türk heyetinin isteği ile yürürlükten kaldırılmıştır.

**yargılarından hangilerine ulaşılabilir?**

- A) Yalnız I B) I ve II C) I ve III  
D) II ve III E) I, II ve III

1. Tarih dersinde, "Mudanya Ateşkes Antlaşması'nın imzalanmasından sonra toplanılacak olan Lozan Konferansı'na İtilaf Devletlerinin Osmanlı Hükümeti'ni de davet etmesi üzerine TBMM 1 Kasım 1922'de aldığı kararla saltanatı kaldırmıştır." bilgisini veren Erkan Bey öğrencilerine "TBMM'nin saltanatı kaldırmasındaki amaçları nelerdir?" sorusunu yöneltmiştir.

Erkan Bey'in sorusuna öğrencileri şu yanıtları vermiştir:

**İnci:** Konferansta oluşabilecek ikililiği engelleme

**Naz:** Osmanlı Hükümeti'nin başarıya ortak olma girişiminin önüne geçme

**Yeliz:** Avrupalı devletlerle dostluk ilişkilerini geliştirme

**Meryem:** Halk iradesini padişah iradesine eşit hâle getirme

**Buna göre öğrencilerden hangileri Erkan Bey'in sorusuna doğru yanıt vermiştir?**

- A) İnci - Meryem  
B) Naz - Yeliz  
C) İnci - Naz  
D) Meryem - Yeliz  
E) Yeliz - İnci

2. Tarih dersinde, "26 - 30 Ağustos arasında meydana gelen Başkomutanlık Meydan Savaşı'nın başarıya ulaşması üzerine Mustafa Kemal 'Ordular, ilk hedefiniz Akdeniz'dir. İleri!' emrini vermiştir." bilgisini veren Sinan Bey öğrencilerine "Sizce Mustafa Kemal'in bu emri vermesindeki amacı nedir?" sorusunu yöneltmiştir.

**Sinan Bey sorusuna, öğrencilerin aşağıdaki yanıtlardan hangisini vermesini bekleyebilir?**

- A) İstanbul ve Boğazları kurtarmak  
B) Yunan ordusunun toparlanmasına fırsat vermemek  
C) İngilizleri barışa zorlamak  
D) Lozan Görüşmeleri'ne galip devlet sıfatıyla katılmak  
E) İtilaf Devletlerinin TBMM'yi tanımasını sağlamak

3.

	Türk Ordusu	Yunan Ordusu
Subay (Muharip)	5401	3780
Erat	96.326	120.000
Tüfek	54.572	75.900
Makinalı Tüfek	826	2.768
Top	169	286
Uçak	2	18
Kamyon	?	840
Araba	1.284*	?
Hayvan	32.137**	3.800

\* At/eşek arabaları ve kağnılar da dahil, her türlü tekerlekli taşıt

\*\* Yalnızca süvari binekleri değil, nakil kollarında at, eşek, katır, deve ve öküzler dahil

KAYNAK: TC Genelkurmay Başkanlığı, Harp Tarihi Dairesi Başkanlığı, 1973

Yukarıdaki şemayı sınıf tahtasına yansıtan Ercan Bey öğrencilerinden değerlendirmelerde bulunmalarını istemiştir.

Öğrencilerin yapmış oldukları değerlendirmeler şu şekildedir.

**Aydın:** Yunan ordusu silah açısından daha donanımlıdır.

**Sümeyye:** Türk ordusu rütbeli asker yönüyle Yunan ordusundan fazladır.

**Numan:** Yunan ordusu hava kuvvetleri açısından Türk ordusundan daha kalabalıktır.

**Özge:** Türk ordusu tahrip gücü yüksek silah noktasında rakibinin gerisindedir.

**Sezgin:** Türk ordusunda savaş tecrübesi olan asker sayısı daha fazladır.

**Buna göre öğrencilerden hangisinin yapmış olduğu değerlendirme yanlıştır?**

- A) Özge  
B) Aydın  
C) Numan  
D) Sezgin  
E) Sümeyye

1.



Türkiye'nin güvenliğini amaçlayan ve hiç bir milletin aleyhinde olmayan bir barış ortamı bizim genel kuralımız olacaktır.

M. Kemal Atatürk

**Buna göre Türkiye'nin aşağıdaki faaliyetlerinden hangisinin bu amaç doğrultusunda yapıldığı söylenemez?**

- A) Briand - Kellog Paktı'na üye olunması
- B) Balkan Antantı'nın kurulmasına öncülük etmesi
- C) Milletler Cemiyeti'ne katılması
- D) Saltanatın kaldırılması
- E) Nyon Konferansı'na katılması

2.

"II. TBMM Dönemi'nde Ankara Hükümeti Cumhuriyet rejimini tehditlere karşı koruyacak ve devletin varlığını devam ettirecek adımlar atmıştır." ifadesini kullanan bir tarihçinin aşağıdakilerden hangisini görüşüne kanıt olarak gösteremez?

- A) Menemen İsyanı'nın bastırılması
- B) Serbest Cumhuriyet Fırkası'nın kapanması
- C) İstiklal Mahkemelerinin kurulması
- D) Takrir-i Sükûn Kanunu'nun kabul edilmesi
- E) Terakkiperver Cumhuriyet Fırkası'nın kapatılması

3.

Mine Hanım, "Almanya, Fransa, İngiltere, İtalya, Belçika, Polonya ve Çekoslovakya arasında 1 Aralık 1925 yılında imzalanan bu antlaşmaya göre bütün anlaşmazlıklar barış yoluyla çözümlenecek, Almanya; Fransa ile Belçika sınırının kesin ve sürekli olduğunu kabul edecektir." demiştir.

**Buna göre Mine Hanım'ın aşağıdaki antlaşmaların hangisinden bahsederken bu ifadeleri kullanması beklenebilir?**

- A) Brest - Litovsk
- B) Montrö Boğazlar Sözleşmesi
- C) Locarno Antlaşması
- D) Litvinov Protokolü
- E) Lozan Antlaşması

4.



Tabii ki, limanlarda tekelci uygulamanın kaldırılması, Teşvik-i Sanayi Kanunu'nun her yönüyle uygulanması, yabancı sermayeyi Türkiye'ye çekecek alt yapının oluşturulması, özel sektöre yatırım kolaylığının sağlanması firkanın ekonomide uygulamak istediği politikalarıdır.

**Öğretmenin aşağıdaki sorulardan hangisini yanıtlarken bu ifadeleri kullanması beklenebilir?**

- A) Serbest Cumhuriyet Fırkası ekonomide liberalizmi mi savunmuştur?
- B) Cumhuriyet Halk Fırkası devletçilik modelini mi benimsemiştir?
- C) Terakkiperver Halk Fırkası merkantilist politikaları mı yöneltmiştir?
- D) Cumhuriyetin ilk yıllarında sosyalist bir ekonomik anlayış mı benimsenmiştir?
- E) Hürriyet ve İtilaf fırkası kapitalist sisteme karşı mı çıkmıştır?

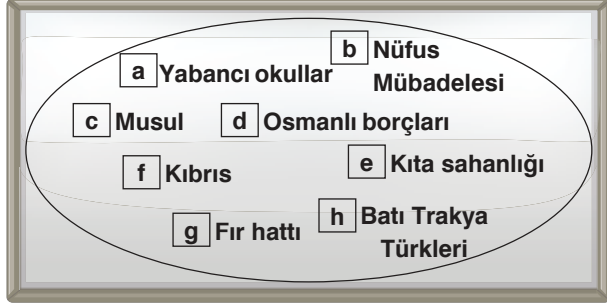
5. Aşağıdaki tabloda Cumhuriyet Dönemi'nde meydana gelen gelişmeler ve bu gelişmelerin önemleri birlikte verilmiştir.

	Gelişme	Önemi
I.	Cumhuriyet'in ilanı edilmesi →	Kabine hükümeti sistemine geçilmesi
II.	Şeyh Said İsyanı'nın çıkması →	Rejime yönelik ilk isyan hareketinin bastırılması
III.	Terakkiperver Cumhuriyet Halk Fırkası →	Çok partili hayata geçiş denemesinin başlatılması
IV.	1926 Ankara Antlaşması'nın imzalanması →	Hatay'ın anavatanına katılması
V.	Sadabat Paktı'nın kurulması →	Doğu sınırının güvence altına alınması

**Buna göre tabloda kaç numaralı alanda yanlışlık yapılmıştır?**

- A) I
- B) II
- C) III
- D) IV
- E) V

6.



Sınıftaki tahtaya bir kavram havuzu çizen Semiha Hanım, öğrencilerine bu havuzda harflerle gösterilen sorunlardan hangilerinin Türkiye'nin Fransa ile olan ilişkilerini gerginleştirdiğini sormuştur.

**Buna göre öğrencilerin hangi harflerde yer alan sorunları yanıt olarak vermesi beklenebilir?**

- A) b - e                      B) a - d                      C) c - f  
D) g - h - d                      E) e - f - g

7. **Lozan Antlaşması'ndan sonra aşağıdaki konulardan hangisi Türkiye ile Yunanistan arasındaki ilişkilerin gerginleşmesine neden olmuştur?**

- A) Etabli sorunu      B) Dış borçlar      C) Yabancı okullar  
D) Irak sınırı      E) Boğazlar komisyonu

8. Nazım Hoca, "I. ve II. TBMM'de milletvekilliği ile askerlik bir arada görülmüştür. 3 Mart 1924'ten o zamana kadar hükümette yer alan Erkan-ı Harbiye Vekaleti hükümetin dışında bırakılmıştır. 19 Mart 1924'te askerlerin görevleri devam ederken milletvekili olamayacaklarına dair kanun kabul edilmiştir. Böylece. ...."

**Buna göre Nazım Hoca'nın ifadesine aşağıdakilerden hangisi ile devam etmesi beclenemez?**

- A) komutanların aktif görevdeyken milletvekili olmalarının önüne geçilmiştir.  
B) ordu günlük siyasetin dışında tutulmuştur.  
C) siyasi meselelerle ordunun yıpratılması engellenmiştir.  
D) demokratikleşme yolunda önemli bir adım atılmıştır.  
E) Avrupalı tarzda modern bir ordu kurulmuştur.

9. 13 Ekim 1923'te TBMM'ye sunulan, "Türkiye Devleti'nin makkarrı saltanatı Ankara şehridir." önergesiyle Ankara, Türkiye Cumhuriyeti'nin başkenti olarak ilan edilmiştir.

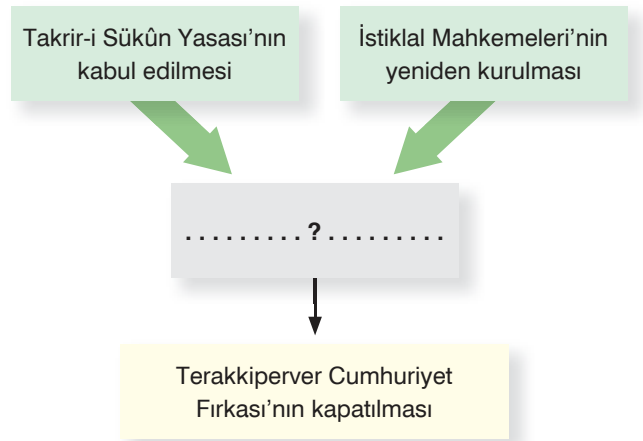
**Ankara'nın başkent olarak ilan edilmesinde;**

- I. Millî Mücadele ruhunu yansıtan bir sembol haline gelmesi,  
II. Türkiye Cumhuriyeti'nin Osmanlı Devleti'nin devamı olmadığına gösterilmek istenmesi,  
III. İstanbul'a göre ekonomik ve sosyal açıdan daha gelişmiş olması

**durumlarından hangilerinin etkili olduğu savunulabilir?**

- A) Yalnız I                      B) I ve II                      C) I ve III  
D) II ve III                      E) I, II ve III

10.



**Yukarıdaki diyagramın tamamlanabilmesi için "?" işareti ile gösterilen yere aşağıdakilerden hangisi getirilmelidir?**

- A) Şeyh Said İsyanı  
B) Menemen Olayı  
C) İzmir suikasti girişimi  
D) Vagon-Li Olayı  
E) Ağrı isyanları

5.



Bu görseller incelendiğinde aşağıdakilerden hangisine ulaşılabılır?

- Tüketim maddelerinin kullanım şekli devletçe belirlenmiştir.
- Tarımsal ürünlerin ihracatında artış yaşanmıştır.
- Gıda maddelerine yönelik düzenlemelerde istenilen sonuçlara ulaşılamamıştır.
- Devletin ekonomiye müdahalesi en alt seviyeye düşürülmüştür.
- Liberal ekonomik modele dönüş başlamıştır.

6. Aylın Hanım'ın "II. Dünya Savaşı'nda Mihver güçleri tarafından işgal edilen devletler hangileridir?" sorusuna öğrencisi Emir şu cevapları vermiştir:

- Fransa
- Belçika
- Macaristan
- Yunanistan
- Polonya

Buna göre Emir kaç numaralı alanda yanlışlık yapmıştır?

- 1
- 2
- 3
- 4
- 5

7.

1939 - 1950 Yılları Arasında Türkiye'de Meydana Gelen Gelişmeler		
No	Sebeup	Sonuç
I.	Ekonomik ve askerî açıdan yeterli derecede güçlü olunmaması	II. Dünya Savaşı'nda aktif tarafsızlık politikası benimsenmiştir.
II.	II. Dünya Savaşı sırasında bazı kesimlerin ülke içerisinde haksız kazanç elde etmesi	Varlık Vergisi Kanunu çıkartılmıştır.
III.	Yunanistan'ın işgal edilmesiyle Alman ordularının Türkiye sınırına yaklaşması	Çakmak Hattı inşa edilmiştir.
IV.	Karaborsacılığın önüne geçmek ve fiyatların kontrol altında tutulmak istenmesi	Millî Korunma Kanunu çıkartılmıştır.
V.	Kore Savaşı'na asker gönderilmesi	Birleşmiş Milletler Teşkilatına üye olunmuştur.

Bu bilgilere bakıldığında kaç numaralı alanda yanlışlık yapıldığı söylenebilir?

- I
- II
- III
- IV
- V

8. İkinci Dünya Savaşı'nda meydana gelen;

- Normandiya Çıkarması,
- Pearl Harbour Baskını,
- Barbarossa Harekâtı

gelişmelerden hangileri müttefik devletlerin zaferi ile sonuçlanmamıştır?

- Yalnız I
- Yalnız II
- Yalnız III
- I ve II
- II ve III

1. Ayten Hanım, "Vatandaşların hak ve hürriyetlerinin korunması, meclis denetiminin anayasadaki hükümlere göre yapılması ve parti çalışmalarının demokratik esaslara göre yeniden düzenlenmesini içeren önergenin reddedilmesi üzerine Adnan Menderes ve Fuat Köprülü gazetelerdeki eleştirel yazılarından dolayı CHP'den ihraç edilmiştir. Muhafız tavrını sürdüren Refik Koraltan'ın ihraç edilmesi ve Celal Bayar'ın partiden istifa etmesi Türkiye'de yeni bir siyasi oluşumun ortaya çıkmasına neden olmuştur."

**Ayten Hanım'ın "yeni bir siyasi oluşum" olarak ifade ettiği gelişme aşağıdakilerden hangisidir?**

- A) Demokrat Parti'nin kurulması  
B) 1950 seçimlerine gidilmesi  
C) II. Dünya Savaşı'na girilmesi  
D) Millet Partisi'nin oluşturulması  
E) Meclisin feshedilmesi

2. "SSCB liderliğindeki Doğu Bloku ülkeleri ile ABD liderliğindeki Batı Bloku ülkeleri arasında, II. Dünya Savaşı'nın bitiminden 1990'lu yılların başlarına kadar devam eden ülkeler arasındaki kampaşma süreci "**olarak adlandırılan dönem aşağıdakilerden hangisidir?**

- A) Küreselleşme Dönemi  
B) Milenyum Çağı  
C) Antikomünizm Dönemi  
D) Soğuk Savaş Dönemi  
E) Balistik Füzeler Dönemi

3. Öğretmeni Yeliz'e "Doğu Bloku Ülkeleri" konusunu ödev olarak vermiştir. Yeliz hazırlamış olduğu ödevinde bu devletlerden beş tanesini yazmış ancak öğretmeni bunlardan birinin yanlış olduğunu belirtmiştir.

**Öğretmenin Yeliz'in ödevinde yanlış olduğunu belirttiği devlet aşağıdakilerden hangisidir?**

- A) Çekoslovakya  
B) Belçika  
C) Polonya  
D) Macaristan  
E) Yugoslavya

4.

**Marshall Planı**

ABD Dış İşleri Bakanı George Marshall tarafından hazırlanan ve 1948 - 1951 yılları arasında yürürlüğe konan ekonomik yardım paketidir.

**Marshall Planı'nın uygulanmasında;**

- I. komünizmin yayılmasını engellemek,  
II. Avrupa ekonomisini canlandırmak,  
III. Doğu Bloku ülkeleri ile ilişkileri normalleştirmek

**durumlarından hangilerinin etkili olduğu söylenebilir?**

- A) Yalnız I  
B) Yalnız II  
C) I ve II  
D) I ve III  
E) II ve III

5. **Durum I:** Truman Doktrini çerçevesinde ABD Türkiye'ye 100, Yunanistan'a ise 300 milyon dolarlık yardım yapmıştır.

**Durum II:** ABD, Marshall Planı çerçevesinde Batı Avrupa ülkelerine yaklaşık 12 milyar dolarlık bir yardımda bulunmuştur.

**Bu iki duruma neden olan gelişme aşağıdakilerden hangisinde verilmiştir?**

- A) Küba Bunalımı sonrasında SSCB'ye karşı ittifakların kurulması  
B) Bağılantısızlar hareketinin siyasi ve ekonomik dengesi bozması  
C) SSCB'ye karşı olan Doğu Avrupa ülkelerinin desteklenmesi  
D) ABD'nin nükleer silahlanma yarışında geri kalması  
E) ABD'nin SSCB'yi kuşatma politikasını uygulama sokması

6.

Tablo I	
1 Cominform	4 OECD
2 Comecon	5 Truman Doktrini
3 Varşova Paktı	

Tablo II	
a	Komünist ülkeler arasında ekonomik iş birliği ve dayanışmayı sağlamak amacıyla SSCB liderliğinde kurulan teşkilattir.
b	Marshall yardımlarını dağıtmak amacıyla kurulan Avrupa Ekonomik İş Birliği Örgütü' dür.
c	NATO'ya karşı Doğu Bloku ülkelerini savunmak amacıyla oluşturulan askerî ve siyasi birliktir.
d	SSCB önderliğinde Avrupa komünist hareketlerini koordine etmek ve Marshall Planı'na karşı bir güç oluşturmak amacıyla kurulan komünist partiler birliğidir.
e	1947 yılında ABD tarafından SSCB tehdidi altındaki ülkelere askerî ve mali yardımı öngören plandır.

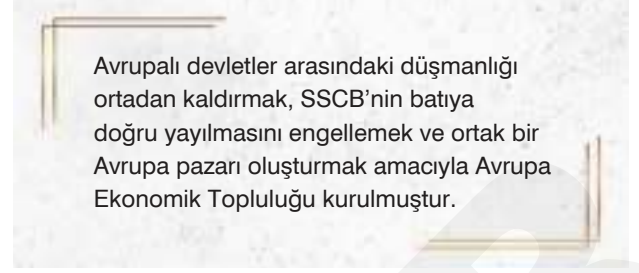
**Tablo I ve tablo II'deki bilgilerin eşleştirilmesi aşağıdaki seçeneklerin hangisinde doğru olarak verilmiştir?**

- A) 1 - d, 2 - a, 3 - c, 4 - b, 5 - e  
 B) 1 - c, 2 - b, 3 - a, 4 - e, 5 - d  
 C) 1 - e, 2 - d, 3 - b, 4 - c, 5 - a  
 D) 1 - b, 2 - e, 3 - d, 4 - a, 5 - c  
 E) 1 - a, 2 - c, 3 - e, 4 - d, 5 - b

**7. Türkiye'nin Kore Savaşı'na asker göndermesinin aşağıdaki teşkilatlardan hangisine alınmasını kolaylaştırdığı savunulabilir?**

- A) NATO  
 B) AET (Avrupa Ekonomik Topluluğu)  
 C) BM (Birleşmiş Milletler)  
 D) Cominform  
 E) Comecon

8.



Avrupalı devletler arasındaki düşmanlığı ortadan kaldırmak, SSCB'nin batıya doğru yayılmasını engellemek ve ortak bir Avrupa pazarı oluşturmak amacıyla Avrupa Ekonomik Topluluğu kurulmuştur.

**Bu topluluğun temeli aşağıdakilerden hangisinde atılmıştır?**

- A) Atlantik Bildirgesi  
 B) Schuman Bildirgesi  
 C) Kuzey Atlantik Bildirisi  
 D) Truman Doktrini  
 E) Balfour Deklarasyonu

**9. Melih, "Soğuk Savaş Dönemi'nde Türkiye, SSCB'nin baskılarına karşı ABD ve Batılı devletlerle iş birliği yaparak kendi güvenlik alanını genişletmeye çalışmıştır."**

Özge ise Türkiye'nin bu amaçla;

- I. Avrupa Konseyi,  
 II. Sadabat Paktı,  
 III. NATO  
 IV. Balkan Paktı

örgütlerine katıldığından bahsetmiştir.

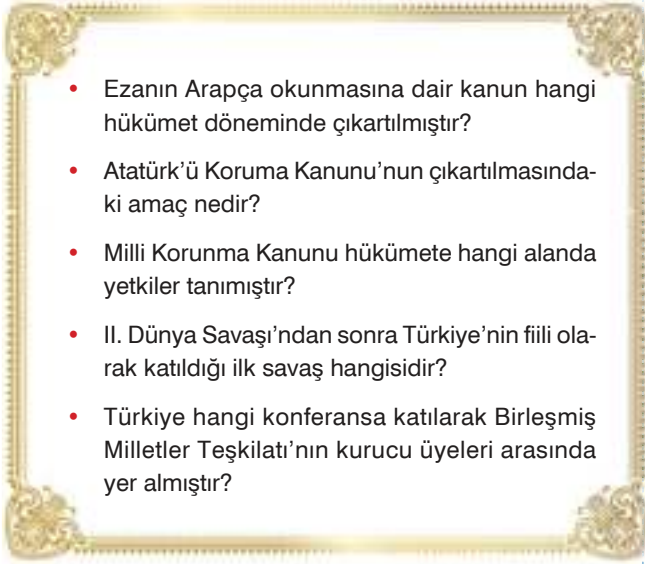
**Özge yukarıdakilerden hangilerini söyleseydi Melih'e doğru bir bilgi vermiş olurdu?**

- A) I ve II  
 B) III ve IV  
 C) I, II ve III  
 D) I, III ve IV  
 E) II, III ve IV

**10. Kendisini "Hür Dünya" olarak adlandırarak SSCB'ye karşı Batı blokunun kurulmasını sağlayan devlet aşağıdakilerden hangisidir?**

- A) İngiltere  
 B) Almanya  
 C) Fransa  
 D) ABD  
 E) Japonya

1.



- Ezanın Arapça okunmasına dair kanun hangi hükümet döneminde çıkarılmıştır?
- Atatürk'ü Koruma Kanunu'nun çıkarılmasındaki amaç nedir?
- Millî Korunma Kanunu hükümete hangi alanda yetkiler tanımıştır?
- II. Dünya Savaşı'ndan sonra Türkiye'nin fiili olarak katıldığı ilk savaş hangisidir?
- Türkiye hangi konferansa katılarak Birleşmiş Milletler Teşkilatı'nın kurucu üyeleri arasında yer almıştır?

**Demokrat Parti iktidarı ile ilgili araştırma yapan bir öğrenci araştırmasında yukarıdaki sorulardan kaç tanesinin yanıtına ulaşabilir?**

- A) 1      B) 2      C) 3      D) 4      E) 5

2. 28 Şubat 1953 yılında Türkiye, Yugoslavya ve Yunanistan arasında imzalanan Dostluk ve İş Birliği Antlaşması'yla Balkan Pakti kurulmasına rağmen bu ittifak uzun süreli olmamıştır.

**Balkan Pakti'nin uzun süreli olmamasında;**

- I. Türkiye ile Yunanistan arasında Kıbrıs Sorunu'nun ortaya çıkması,
- II. Yugoslavya'nın SSCB ile ilişkilerini düzeltmesi,
- III. Varşova Pakti'nin kurulması

**durumlarından hangilerinin etkili olduğu savunulabilir?**

- A) Yalnız I      B) I ve II      C) I ve III  
D) II ve III      E) I, II ve III

3. **Öğretmenin;** "Demokrat Parti Dönemi'nde ülke ekonomisini geliştirmek için yapılan çalışmalar nelerdir?"

sorusuna,

**Öğrenci:**

1. Tahkikat Komisyonu'nun oluşturulması
  2. Yabancı Sermaye Yatırımlarını Teşvik Kanunu'nun çıkarılması
  3. Yabancı şirketlere Türkiye'de petrol arama izninin verilmesi
  4. Tarımsal alanlarda traktör kullanımının yaygınlaştırılması
  5. Türkiye Sınai Kalkınma Bankası'nın kurulması
- yanıtlarını vermiştir.

**Buna göre öğrenci kaç numaralı alanda yanlışlık yapmıştır?**

- A) 1      B) 2      C) 3      D) 4      E) 5

4. 1945 yılından itibaren başta İstanbul olmak üzere Ankara, Adana ve Bursa gibi büyük kentlere yoğun göçler yaşanmıştır.

**Bu göçlerin yaşanmasında;**

- I. şehirlerdeki iş imkânlarının gelişmiş olması,
- II. tarımda makineleşmenin başlaması,
- III. toprakların bölünmesi nedeniyle gelirlerin azalması

**durumlarından hangilerinin etkili olduğu savunulabilir?**

- A) Yalnız I      B) I ve II      C) I ve III  
D) II ve III      E) I, II ve III

5. I. Terakkiperver Cumhuriyet Fırkası
- II. Demokrat Parti
- III. Serbest Cumhuriyet Fırkası

**Yukarıdaki partilerden hangileri II. Dünya Savaşı'ndan sonra kurulmuştur?**

- A) Yalnız I      B) Yalnız II      C) I ve II  
D) I ve III      E) II ve III



6. Tuna; "ABD liderliğindeki Batı Bloku ile SSCB liderliğindeki Doğu Bloku ülkeleri arasında II. Dünya Savaşı'ndan sonra yaşanan Soğuk Savaş Dönemi'nde taraflar çıkarlarını silahlı çatışmaya girmeden elde etmeye çalışmıştır."

Ezgi ise Soğuk Savaş Dönemi'nde devletlerin çıkarlarına ulaşmak için;

- I. şantaj,
- II. propaganda,
- III. hava saldırısı,
- IV. tehdit

yöntemlerine başvurduğunu belirtmiştir.

**Ezgi yukarıdakilerden hangilerini söyleseydi Tuna'ya doğru bir bilgi vermiş olurdu?**

- A) I ve II                      B) III ve IV                      C) I, II ve III  
D) I, II ve IV                      E) I, II, III ve IV

7.

1946 seçimlerinden sonra TBMM'de yapılan seçimde 338 oy alan CHP'nin adayı İsmet İnönü DP'nin adayı Fevzi Çakmak'ı geçerek cumhurbaşkanı seçilmiştir. Meclis Başkanlığı seçiminde 178 oy alan Kazım Karabekir rakibi Yusuf Kemal Tengirşek'i geçmiştir. Cumhurbaşkanlığı ve Meclis Başkanlığı seçiminden sonra Recep Peker'e hükümet kurma yetkisi verilmiştir.

**Buna göre aşağıdakilerden hangisine ulaşamaz?**

- A) Cumhurbaşkanının mebuslarca seçildiğine
- B) Kabine sisteminin benimsendiğine
- C) Çok partili meclis yapısının ortaya çıktığına
- D) CHP'nin önemli makamlara kendi adaylarını yerleştirdiğine
- E) İki dereceli seçim sisteminin uygulandığına

8. İkinci Dünya Savaşı sonrasında uluslararası ilişkilerde Doğu ve Batı Bloku olmak üzere, iki kutuplu bir yapı oluşmuştur.

**Aşağıdakilerden hangisi Doğu Bloku'nda ortaya çıkan bir gelişmedir?**

- A) Marshall Planı
- B) Bağlantısızlar Hareketi
- C) Varşova Paktı
- D) Truman Doktrini
- E) NATO

9. Marshall Yardımı çerçevesinde uygulanması istenen plan doğrultusunda kara yolu merkezli bir ulaşım politikası benimsenmiştir. Bu plan doğrultusunda atılan adımlar neticesinde 1950 yılında 47.080 km olan kara yolu uzunluğu 1960 yılında 61.542 km'ye çıkmıştır.

**Kara yolu politikasına ağırlık verilmesinin;**

- I. köylülerin mallarını şehirlere taşıyarak daha kolay satabilmesi,
- II. petrole duyulan bağımlılığın artması,
- III. otomobil sayısını fazlalaşması

**durumlarından hangilerine neden olduğu savunulabilir?**

- A) Yalnız I                      B) I ve II                      C) I ve III  
D) II ve III                      E) I, II ve III

10. 1946 seçimleri öncesinde CHP iktidarı gazete kapatma yetkisini hükümetten alarak mahkemelere vermiş, partiler ile sendikaların serbestçe kurulabilmesinin önünü açmıştır.

**Bu çalışmaların;**

- I. temel hak ve özgürlükleri genişletme,
- II. hükümetin toplum üzerinde baskı kurmasını engelleme,
- III. demokratik bir ortam oluşturma

**amaçlarından hangilerine yönelik olduğu savunulabilir?**

- A) Yalnız I                      B) I ve II                      C) I ve III  
D) II ve III                      E) I, II ve III

1.

“

Demokrat Parti'nin son dönemlerinde maliyenin iflasa sürüklenmesi, Halkevleri ve Köy Enstitülerinin kapatılması, ülke içerisinde ABD'ye geniş bir hareket olanağı sunulması, muhalefetle işlerin kavga havasında yürütülmesi ve dinsel sömürü konusunda ödünler verilmesi 1960 Askerî Darbesi'nin yaşanmasına neden olmuştur.

”

**Buna göre Demokrat Parti ile ilgili aşağıdaki yargılardan hangisine ulaşılamaz?**

- A) Ekonomik istikrarı sürdürememiştir.
- B) Laiklikle çelişen eylemlerde taviz vermiştir.
- C) Ülke içerisinde toplumsal birlikteliği sağlayamamıştır.
- D) Emperyalist politikalara yönelmiştir.
- E) Meclis içerisinde fikir ayrılıkları görülmüştür.

**2. Sena:** ABD'nin, Orta Doğu'da komünizmin yayılmasını engellemek ve bölge devletlerini kendi yanına çekmek için yayınladığı ekonomik bildirgedir.

**Timur:** Bu doktrin ile ABD ve SSCB ilk defa Orta Doğu'da karşı karşıya gelmiştir.

**Pınar:** Lübnan, Türkiye, Pakistan, Irak, Fas ve İsrail doktrinini kabul eden ülkelerdir.

**Aykut:** ABD'nin Türkiye'ye askerî ve ekonomik desteği artmıştır.

**Diyalogda bahsedilen bu doktrin aşağıdakilerden hangisidir?**

- A) Monreo
- B) Eisenhower
- C) Marshall
- D) Truman
- E) Wilson

**3.** 17 Ekim 1951 yılında Londra'da gerçekleştirilen toplantıda Türkiye'nin NATO'ya kabul edilmesi kararı alınmıştır.

**Bu durumun aşağıdakilerden hangisine ortam hazırladığı savunulamaz?**

- A) Çok partili siyasi hayatın başlamasına
- B) SSCB ile ilişkilerin zayıflamasına
- C) ABD ve Batı Bloku ile diplomatik ilişkilerin gelişmesine
- D) Askerî yardımların alınmasına
- E) Siyasi ve ekonomik durumun iyileştirilmesine

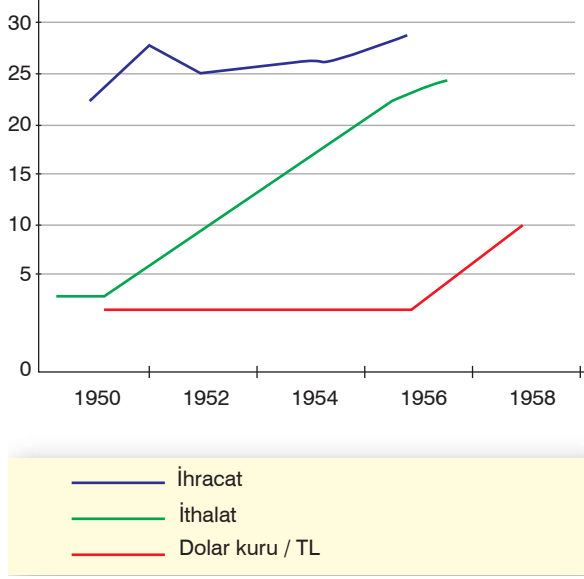
**4.** 1950 seçimlerinden sonra cumhurbaşkanlığı ve başbakanlık görevlerini üstlenen devlet adamları aşağıdaki seçeneklerin hangisinde doğru olarak verilmiştir?

	<u>Cumhurbaşkanı</u>	<u>Başbakan</u>
A)	Celal Bayar	Süleyman Demirel
B)	İsmet İnönü	Adnan Menderes
C)	Cemal Gürsel	Recep Peker
D)	Refik Koraltan	Cevdet Sunay
E)	Celal Bayar	Adnan Menderes

**5.** Mert Bey'in "Türk siyasi tarihinde tek dereceli ve çok partili ilk genel seçim hangi tarihte yapılmıştır?" sorusuna aşağıdaki öğrencilerden hangisinin vermiş olduğu yanıt doğrudur?

- A) Büşra: 1946
- B) Nihat: 1950
- C) Cemre: 1954
- D) Suat: 1942
- E) Erhan: 1957

## 6. Demokrat Parti Dönemi'nde Türkiye Ekonomisi



Bu verilere bakıldığında,

- I. Dövizle olan ihtiyaç 1955 sonrası artmıştır.
- II. Yabancı sermaye ekonomideki etkinliğini arttırmıştır.
- III. Dış ticarete açık verilmiştir.

yargılarından hangilerine ulaşılabilir?

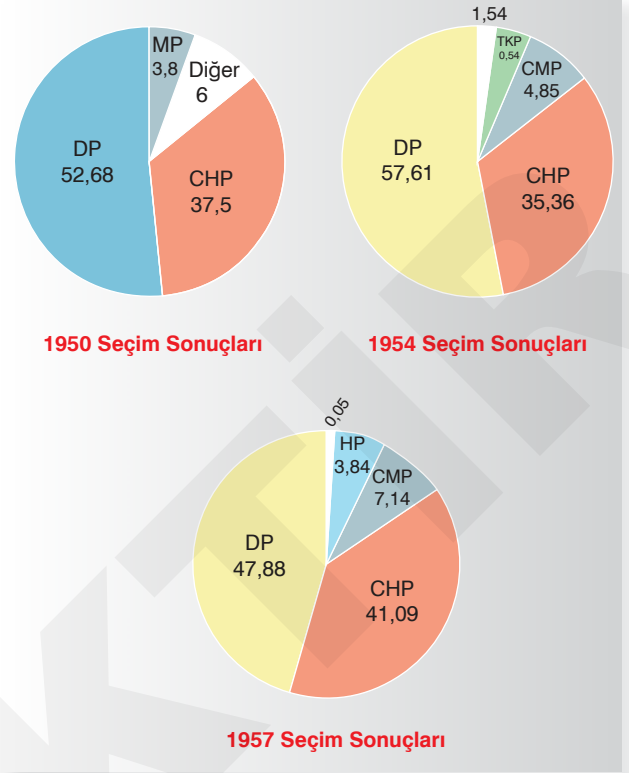
- A) Yalnız I                      B) Yalnız II                      C) I ve II  
D) II ve III                      E) I, II ve III

## 7. "Müttefik olmayan ancak düşman olur!" anlayışının hâkim olduğu II. Dünya Savaşı'ndan sonraki süreçte SSCB, Doğu Avrupa'da kendi denetiminde uydu devletler oluşturarak Doğu Bloku'nun kurulmasını sağlamıştır.

Aşağıdaki devletlerden hangisi SSCB önderliğindeki Doğu Bloku içerisinde yer almaz?

- A) Polonya  
B) Avusturya  
C) Çekoslovakya  
D) Bulgaristan  
E) Romanya

## 8.



Bu bilgilere bakıldığında;

- I. Demokrat Parti'nin halk nezdinde itibarını koruduğu,
- II. CHP'nin ana muhalefet partisi konumunda kaldığı,
- III. Mecliste birden fazla partinin yer aldığı

çıkarımlarından hangilerine ulaşılabilir?

- A) Yalnız I                      B) I ve II                      C) I ve III  
D) II ve III                      E) I, II ve III

9. • Yunanistan ile Kıbrıs sorununun yaşanması  
• Kore Savaşı'na asker gönderilmesi  
• Almanya ve Japonya'ya savaş ilan edilmesi  
• Birleşmiş Milletler Teşkilatına üye olunması  
• Tahkikat Komisyonu'nun kurulması

Yukarıdaki gelişmelerden kaç tanesi Demokrat Parti Dönemi'ne ait bir özelliktir?

- A) 1                      B) 2                      C) 3                      D) 4                      E) 5

1.

Türkiye - IMF Antlaşmaları		
Tarih	Anlaşma Miktarı (Milyon dolar)	Kullanılan Tutar (Milyon dolar)
1 Ocak 1962	38	16
30 Mart 1962	31	15
15 Şubat 1963	22	22
15 Şubat 1964	22	19
1 Şubat 1966	22	22
15 Şubat 1967	27	27
1 Nisan 1968	27	27
1 Temmuz 1969	27	10
17 Ağustos 1970	90	90
24 Nisan 1978	300	90
18 Haziran 1980	1.250	1.250

Bu bilgiye bakıldığında Türkiye ile ilgili;

- I. dışa bağımlı bir ekonomik yapının oluştuğu,
- II. hazinenin dövize ihtiyaç duyduğu,
- III. ekonomik sıkıntıların zamanla sona erdiği

çıkarımlarından hangileri yapılabilir?

- A) Yalnız I                      B) I ve II                      C) I ve III  
D) II ve III                      E) I, II ve III

2.

**Afrika ve Asya ülkelerinin ABD ve SSCB karşısında varlıklarını koruyabilmeleri için birlik ve dayanışma sağlamak amacıyla oluşturulan Bağlantısızlar Hareketi hangi konferanstan sonra kurulmuştur?**

- A) Bandung                      B) San Francisco                      C) Belgrad  
D) Tahran                      E) Yeni Delhi

3.

Önder Bey, "Hindistan Başbakanı Nehru, Yugoslavya lideri Tito ve Mısır lideri Nasır öncülüğünde üçüncü dünya devletleri olarak isimlendirilen Asya, Afrika ve Latin Amerika devletleri tarafından oluşturulan Bağlantısızlar Bloku dünya siyasetinde istenen etkiyi oluşturamamıştır. Bağlantısızlar Bloku'nun istenen etkiyi oluşturamamasında,

- I. Afrika ülkelerinde yaşanan askerî darbelerle siyasi istikrarın sağlanamaması,
- II. üye ülkeler arasında sınır, politik, kültür ve dinî çekişmelerin yaşanması,
- III. Bağlantısızlar Bloku' nu oluşturan devletlerin zengin yeraltı kaynaklarına sahip olmaması,
- IV. hareketin ABD ve SSCB'nin politikaları karşısında serbest hareket edememesi,
- V. İngiltere ve Fransa gibi devletlerin üye ülkelerin iç işlerine karışmalarının önlenememesi

etkili olmuştur." demiştir.

**Önder Bey'in vermiş olduğu bilgilerde kaç numaralı alana itiraz eden bir öğrencinin konuyu yeterli düzeyde kavradığı kabul edilebilir?**

- A) I                      B) II                      C) III                      D) IV                      E) V

4.

Merve, "Devletler arasında ortaya çıkan gerginliklerin uluslararası sözleşme ve kurallara göre bilinçli ve aşamalı olarak azaltılmasının amaçlandığı Yumuşama Dönemi'ne "Görüşmeler Çağı" adı da verilmiştir."

**Cengiz ise Yumuşama Dönemi'nin ortaya çıkmasında;**

- I. SSCB lideri Kruşçev ile ABD Başbakanı Kennedy'nin ikili görüşmelerde bulunması,
- II. ABD ile Çin arasında Pingpong diplomasisinin yaşanması,
- III. ABD ve SSCB arasında SALT I ve SALT II antlaşmalarının imzalanması,
- IV. Bağlantısızlar hareketinin ortaya çıkması,
- V. blokların, NATO' nun güçlenmesine destek vermesi durumlarının etkili olduğundan bahsetmiştir.

**Buna göre Cengiz kaç numaralı alanda Merve'ye yanlış bir bilgi vermiştir?**

- A) I                      B) II                      C) III                      D) IV                      E) V

1. 1 Mart 1992'den 14 Aralık 1995'e kadar süren Bosna Savaşı'ndan sonra imzalanan aşağıdaki antlaşmaların hangisinden sonra Bosna - Hersek bağımsızlığına kavuşmuştur?

A) Dayton  
B) Belgrad  
C) Zürih  
D) İstanbul  
E) Paris

2. 1992 yılında Yugoslavya Cumhuriyeti'nin dağılmasından sonra aşağıdaki devletlerden hangisi ortaya çıkmamıştır?

A) Hırvatistan  
B) Slovenya  
C) Bosna - Hersek  
D) Sırbistan  
E) Slovakya

- 3.

2002 - 2014 yılları arasında Türkiye'de kişi başına düşen GSMH	
Yıl	Yıllık Gelir
2002	3.580.7
2006	7.905.8
2010	10.559.8
2014	12.112.4

Bu bilgiye göre,

- I. Ekonomik yapıda belirli bir istikrar yakalanmıştır.  
II. GSMH'nin artmasında ihracatın artması ve ithalatın azalması etkili olmuştur.  
III. 2002'den itibaren vatandaşların alım gücü düzenli olarak artmıştır.

çıkarımlarından hangileri yapılabilir?

A) Yalnız I  
B) Yalnız II  
C) I ve II  
D) I ve III  
E) II ve III

4. 2001 ekonomik krizinde gecelik faiz oranları %7.500'e kadar çıkmış, borsa % 15 ile % 20 arasında düşmüş, 695 bin lira olan ABD doları 900 bin liraya çıkmış ve Kamu Bankaları kapanmaz açıklar vermiştir. Bu olumsuz ortamda birçok şirket iflas etmiş, binlerce insan işsiz kalmış, ülkede sermaye çıkışı hızlanmış ve bütçe açıkları artmıştır.

Buna göre aşağıdakilerden hangisi söylenemez?

A) Türk parası değer kaybetmiştir.  
B) Yabancı yatırımcıların Türk ekonomisine olan güveni azalmıştır.  
C) Ekonomik ve sosyal hayat olumsuz etkilenmiştir.  
D) Piyasalar kontrolden çıkmıştır.  
E) Siyasi hayat kesintiye uğrayarak hükümet değişikliği yaşanmıştır.

5. Numan: 1988 Seul, 1992 Barcelona ve 1996 Atlanta Olimpiyatlarında üç kez olimpiyat şampiyonu olmuştur.

Berk: Türkiye'nin güreş sporu dışında olimpiyatlarda altın madalya kazanan ilk sporcusudur.

Ender: Cep Herkül'ü lakabı ile tanınır.

Diyalogda bahsedilen bu sporcu aşağıdakilerden hangisidir?

A) Naim Süleymanoğlu  
B) Halil Mutlu  
C) Taha Akgül  
D) Mete Gazoz  
E) Nurcan Taylan

6. Kopenhag Kriterleri'nde aşağıdakilerden hangisiyle ilişkili temel esaslar belirlenmiştir?

A) Birleşmiş Milletler  
B) Avrupa Birliği  
C) NATO  
D) Dünya Bankası  
E) IMF

7. Atatürk: "Bizim görüşümüz kuvvetin, kudretin, egemenliğin idarenin doğrudan doğruya halka verilmesidir, halkın elinde bulundurulmasıdır. Yine şüphe yok ki, bu dünyanın en kuvvetli bir esası, bir ilkesidir." demiştir.

**Türkiye Cumhuriyeti'nde meydana gelen aşağıdaki olaylardan hangisi Atatürk'ün bu sözüne uygun olan bir gelişmedir?**

- A) 2010 Referandumu  
B) 12 Mart Muhtırası  
C) 27 Mayıs Askerî Darbesi  
D) 27 Nisan E - Muhtırası  
E) 15 Temmuz Askerî Darbe Teşebbüsü

8.

#### 28 Şubat Kararları

- 8 yıllık kesintisiz eğitim tüm yurttta uygulanmalıdır.
- Kur'an kursları MEB'in sorumluluğu ve kontrolünde olmalıdır.
- Tarikatların faaliyetlerine son verilmelidir.
- Aşırı dinci kesimlerin kamu kurum ve kuruluşlarına, özellikle üniversite, eğitim kurumları, bürokrasi ve yargı kuruluşlarına sızması önlenmelidir.
- Kıyafet Kanunu'na aykırı uygulamalar önlenmelidir.
- Kurban derileri kanunda belirtilen kuruluşlarca toplanmalıdır.
- Ülke sorunlarının çözümünü "Millet kavramı yerine ümmet kavramı" bazında ele alarak sonuçlandırmayı amaçlayan ve bölücü terör örgütüne de aynı bazda yaklaşarak onları cesaretlendiren girişimler yasal ve idari yollardan önlenmelidir.

**Bu kararlara bakıldığında,**

- I. İrticai hareketler iç tehdit olarak görülmüştür.  
II. Kararlarda toplumun belli kesimleri hedef alınmıştır.  
III. Rejimin değiştirilmesi gerektiği belirtilmiştir.

**yargılarından hangilerine ulaşılabilir?**

- A) Yalnız I  
B) Yalnız II  
C) Yalnız III  
D) I ve II  
E) II ve III

9. 27 Nisan e-muhtırasının yayımlanmasından bir gün sonra hükümet sözcüsü Cemil Çiçek hükümet adına şu açıklamayı yapmıştır: "Başbakanlığa bağlı bir kurum olan Genelkurmay Başkanlığının herhangi bir konuda hükümete karşı bir ifade kullanması, demokratik hukuk devletinde düşünülemez. Genelkurmay Başkanlığı, hükümetin emrinde, görevleri anayasa ve ilgili yasalarla tayin edilmiş bir kurumdur..."

**Buna göre,**

- I. TSK'nın siyaseti şekillendirmek istemesine hükümet tepki göstermiştir.  
II. Hükümet sözcüsü demokratik olmayan müdahaleye boyun eğilmeyeceğine vurgu yapmıştır.  
III. Askerî vesayetin yetkileri elinden alınmıştır.

**yargılarından hangilerine ulaşılabilir?**

- A) Yalnız I  
B) I ve II  
C) I ve III  
D) II ve III  
E) I, II ve III

10. Tarih Öğretmeni öğrencilerinden 15 Temmuz darbe girişimi ile ilgili neleri bildiklerini sormuştur?

**Aşağıdaki öğrencilerden hangisinin verdiği bilgi yanlıştır?**

- A) **Akın:** Genelkurmay Başkanlığını basan darbeci bir grup Genelkurmay Başkanı İlker Başbuğ'u rehlin almıştır.  
B) **Büşra:** Darbe girişimi 15 Temmuz Cuma günü saat 22.00'de İstanbul Boğaziçi (15 Temmuz Şehitler Köprüsü) ve Fatih Sultan Mehmet köprülerinin bir grup asker tarafından trafiğe kapatılmasıyla başlamıştır.  
C) **Mustafa:** Ankara Gölbaşı'ndaki Polis Özel Harekât Merkezine darbeciler tarafından yapılan saldırı nedeniyle 44 polis memuru şehit edilmiştir.  
D) **Oya:** Darbeci askerler Cumhurbaşkanı Recep Tayyip Erdoğan'a suikast yapmak için Marmaris'te kaldığı otelle baskın düzenlemiştir.  
E) **Devran:** Ömer Halisdemir'in özel kuvvetleri ele geçirmeye çalışan Semih Terzi'yi vurmasıyla darbecilerin planı bozulmuştur.